

رياضيات

الصف الخامس

الفصل الدراسي الأول

2024 – 2023



جدول الضرب

جدول 3

$3 \times 1 = 3$

$3 \times 2 = 6$

$3 \times 3 = 9$

$3 \times 4 = 12$

$3 \times 5 = 15$

$3 \times 6 = 18$

$3 \times 7 = 21$

$3 \times 8 = 24$

$3 \times 9 = 27$

$3 \times 10 = 30$

$3 \times 11 = 33$

$3 \times 12 = 36$

جدول 2

$2 \times 1 = 2$

$2 \times 2 = 4$

$2 \times 3 = 6$

$2 \times 4 = 8$

$2 \times 5 = 10$

$2 \times 6 = 12$

$2 \times 7 = 14$

$2 \times 8 = 16$

$2 \times 9 = 18$

$2 \times 10 = 20$

$2 \times 11 = 22$

$2 \times 12 = 24$

جدول 5

$5 \times 1 = 5$

$5 \times 2 = 10$

$5 \times 3 = 15$

$5 \times 4 = 20$

$5 \times 5 = 25$

$5 \times 6 = 30$

$5 \times 7 = 35$

$5 \times 8 = 40$

$5 \times 9 = 45$

$5 \times 10 = 50$

$5 \times 11 = 55$

$5 \times 12 = 60$

جدول 4

$4 \times 1 = 4$

$4 \times 2 = 8$

$4 \times 3 = 12$

$4 \times 4 = 16$

$4 \times 5 = 20$

$4 \times 6 = 24$

$4 \times 7 = 28$

$4 \times 8 = 32$

$4 \times 9 = 36$

$4 \times 10 = 40$

$4 \times 11 = 44$

$4 \times 12 = 48$

جدول 7

$$7 \times 1 = 7$$

$$7 \times 2 = 14$$

$$7 \times 3 = 21$$

$$7 \times 4 = 28$$

$$7 \times 5 = 35$$

$$7 \times 6 = 42$$

$$7 \times 7 = 49$$

$$7 \times 8 = 56$$

$$7 \times 9 = 63$$

$$7 \times 10 = 70$$

$$7 \times 11 = 77$$

$$7 \times 12 = 84$$

جدول 6

$$6 \times 1 = 6$$

$$6 \times 2 = 12$$

$$6 \times 3 = 18$$

$$6 \times 4 = 24$$

$$6 \times 5 = 30$$

$$6 \times 6 = 36$$

$$6 \times 7 = 42$$

$$6 \times 8 = 48$$

$$6 \times 9 = 54$$

$$6 \times 10 = 60$$

$$6 \times 11 = 66$$

$$6 \times 12 = 72$$

جدول 9

$$9 \times 1 = 9$$

$$9 \times 2 = 18$$

$$9 \times 3 = 27$$

$$9 \times 4 = 36$$

$$9 \times 5 = 45$$

$$9 \times 6 = 54$$

$$9 \times 7 = 63$$

$$9 \times 8 = 72$$

$$9 \times 9 = 81$$

$$9 \times 10 = 90$$

$$9 \times 11 = 99$$

$$9 \times 12 = 108$$

جدول 8

$$8 \times 1 = 8$$

$$8 \times 2 = 16$$

$$8 \times 3 = 24$$

$$8 \times 4 = 32$$

$$8 \times 5 = 40$$

$$8 \times 6 = 48$$

$$8 \times 7 = 56$$

$$8 \times 8 = 64$$

$$8 \times 9 = 72$$

$$8 \times 10 = 80$$

$$8 \times 11 = 88$$

$$8 \times 12 = 96$$

القسمة

3 ÷

$3 \times 1 = 3$

$3 \div 3 = 1$

$3 \times 2 = 6$

$6 \div 3 = 2$

$3 \times 3 = 9$

$9 \div 3 = 3$

$3 \times 4 = 12$

$12 \div 3 = 4$

$3 \times 5 = 15$

$15 \div 3 = 5$

$3 \times 6 = 18$

$18 \div 3 = 6$

$3 \times 7 = 21$

$21 \div 3 = 7$

$3 \times 8 = 24$

$24 \div 3 = 8$

$3 \times 9 = 27$

$27 \div 3 = 9$

$3 \times 10 = 30$

$30 \div 3 = 10$

$3 \times 11 = 33$

$33 \div 3 = 11$

$3 \times 12 = 36$

$36 \div 3 = 12$

2 ÷

$2 \times 1 = 2$

$2 \div 2 = 1$

$2 \times 2 = 4$

$4 \div 2 = 2$

$2 \times 3 = 6$

$6 \div 2 = 3$

$2 \times 4 = 8$

$8 \div 2 = 4$

$2 \times 5 = 10$

$10 \div 2 = 5$

$2 \times 6 = 12$

$12 \div 2 = 6$

$2 \times 7 = 14$

$14 \div 2 = 7$

$2 \times 8 = 16$

$16 \div 2 = 8$

$2 \times 9 = 18$

$18 \div 2 = 9$

$2 \times 10 = 20$

$20 \div 2 = 10$

$2 \times 11 = 22$

$22 \div 2 = 11$

$2 \times 12 = 24$

$24 \div 2 = 12$

القسمة

5 ÷

$5 \times 1 = 5$

$5 \div 5 = 1$

$5 \times 2 = 10$

$10 \div 5 = 2$

$5 \times 3 = 15$

$15 \div 5 = 3$

$5 \times 4 = 20$

$20 \div 5 = 4$

$5 \times 5 = 25$

$25 \div 5 = 5$

$5 \times 6 = 30$

$30 \div 5 = 6$

$5 \times 7 = 35$

$35 \div 5 = 7$

$5 \times 8 = 40$

$40 \div 5 = 8$

$5 \times 9 = 45$

$45 \div 5 = 9$

$5 \times 10 = 50$

$50 \div 5 = 10$

$5 \times 11 = 55$

$55 \div 5 = 11$

$5 \times 12 = 60$

$60 \div 5 = 12$

4 ÷

$4 \times 1 = 4$

$4 \div 4 = 1$

$4 \times 2 = 8$

$8 \div 4 = 2$

$4 \times 3 = 12$

$12 \div 4 = 3$

$4 \times 4 = 16$

$12 \div 4 = 4$

$4 \times 5 = 20$

$20 \div 4 = 5$

$4 \times 6 = 24$

$24 \div 4 = 6$

$4 \times 7 = 28$

$28 \div 4 = 7$

$4 \times 8 = 32$

$32 \div 4 = 8$

$4 \times 9 = 36$

$36 \div 4 = 9$

$4 \times 10 = 40$

$40 \div 4 = 10$

$4 \times 11 = 44$

$44 \div 4 = 11$

$4 \times 12 = 48$

$48 \div 4 = 12$

القسمة

$$\underline{7 \div}$$

$$7 \times 1 = 7$$

$$7 \div 7 = 1$$

$$7 \times 2 = 14$$

$$14 \div 7 = 2$$

$$7 \times 3 = 21$$

$$21 \div 7 = 3$$

$$7 \times 4 = 28$$

$$28 \div 7 = 4$$

$$7 \times 5 = 35$$

$$35 \div 7 = 5$$

$$7 \times 6 = 42$$

$$42 \div 7 = 6$$

$$7 \times 7 = 49$$

$$49 \div 7 = 7$$

$$7 \times 8 = 56$$

$$56 \div 7 = 8$$

$$7 \times 9 = 63$$

$$63 \div 7 = 9$$

$$7 \times 10 = 70$$

$$70 \div 7 = 10$$

$$7 \times 11 = 77$$

$$77 \div 7 = 11$$

$$7 \times 12 = 84$$

$$84 \div 7 = 12$$

$$\underline{6 \div}$$

$$6 \times 1 = 6$$

$$6 \div 6 = 1$$

$$6 \times 2 = 12$$

$$12 \div 6 = 2$$

$$6 \times 3 = 18$$

$$18 \div 6 = 3$$

$$6 \times 4 = 24$$

$$24 \div 6 = 4$$

$$6 \times 5 = 30$$

$$30 \div 6 = 5$$

$$6 \times 6 = 36$$

$$36 \div 6 = 6$$

$$6 \times 7 = 42$$

$$42 \div 6 = 7$$

$$6 \times 8 = 48$$

$$48 \div 6 = 8$$

$$6 \times 9 = 54$$

$$54 \div 6 = 9$$

$$6 \times 10 = 60$$

$$60 \div 6 = 10$$

$$6 \times 11 = 66$$

$$66 \div 6 = 11$$

$$6 \times 12 = 72$$

$$72 \div 6 = 12$$

القسمة

9 ÷

$9 \times 1 = 9$

$9 \div 9 = 1$

$9 \times 2 = 18$

$18 \div 9 = 2$

$9 \times 3 = 27$

$27 \div 9 = 3$

$9 \times 4 = 36$

$36 \div 9 = 4$

$9 \times 5 = 45$

$45 \div 9 = 5$

$9 \times 6 = 54$

$54 \div 9 = 6$

$9 \times 7 = 63$

$63 \div 9 = 7$

$9 \times 8 = 72$

$72 \div 9 = 8$

$9 \times 9 = 81$

$81 \div 9 = 9$

$9 \times 10 = 90$

$90 \div 9 = 10$

$9 \times 11 = 99$

$99 \div 9 = 11$

$9 \times 12 = 108$

$108 \div 9 = 12$

8 ÷

$8 \times 1 = 8$

$8 \div 8 = 1$

$8 \times 2 = 16$

$16 \div 8 = 2$

$8 \times 3 = 24$

$24 \div 8 = 3$

$8 \times 4 = 32$

$32 \div 8 = 4$

$8 \times 5 = 40$

$40 \div 8 = 5$

$8 \times 6 = 48$

$48 \div 8 = 6$

$8 \times 7 = 56$

$56 \div 8 = 7$

$8 \times 8 = 64$

$64 \div 8 = 8$

$8 \times 9 = 72$

$72 \div 8 = 9$

$8 \times 10 = 80$

$80 \div 8 = 10$

$8 \times 11 = 88$

$88 \div 8 = 11$

$8 \times 12 = 96$

$96 \div 8 = 12$

الأرقام العربية

اكتب واقرأ الأرقام

1	2	3	4	5	6	7	8	9	10

الوحدة الأولى المفهوم الأول الكسور العشرية

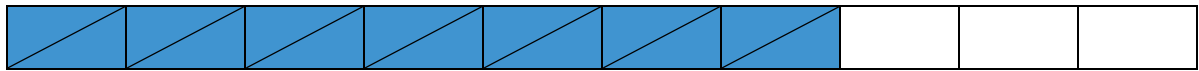


الشكل السابق مقسم إلى 10 مستطيلات صغيرة كل مستطيل منها $\frac{1}{10}$ منه

يمكن كتابة الكسر الاعتيادي $\frac{1}{10}$ في صورة كسر عشري ليصبح 0.1 و يُقرأ (جزء من عشرة)، وتسمى هذه (الصورة العشرية).

$\frac{1}{10}$ = جزء واحد من عشرة أجزاء أي أن الواحد الصحيح يمكن تقسيمه إلى 10 أجزاء
الـ (0) الموجود يسار (العلامة العشرية) يعني أن خانة الآحاد = صفر

عبر عن الشكل التالي بـ (كسر اعتيادي) مرة و (كسر عشري) مرة أخرى:



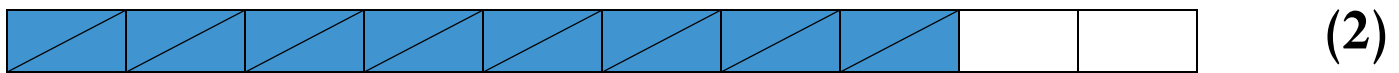
الكسر الاعتيادي = $\frac{7}{10}$ = الكسر العشري = 0.7 (7 أجزاء من عشرة)

عبر عن الشكل التالي بـ (كسر اعتيادي) مرة و (كسر عشري) مرة أخرى:



(1)

– الكسر الاعتيادي = = الكسر العشري =



(2)

– الكسر الاعتيادي = = الكسر العشري =



(3)

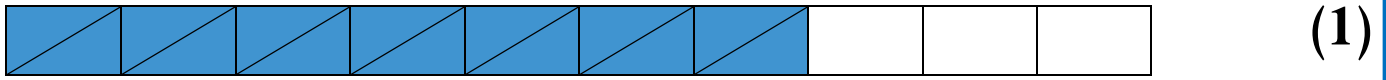
– الكسر الاعتيادي = = الكسر العشري =




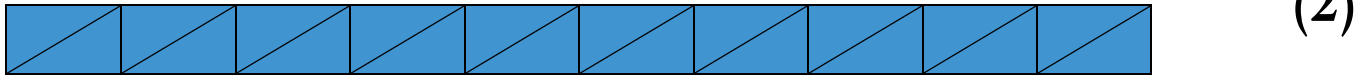
(4)

– الكسر الاعتيادي = = الكسر العشري =

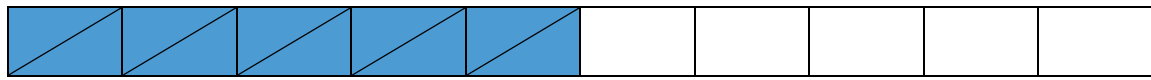
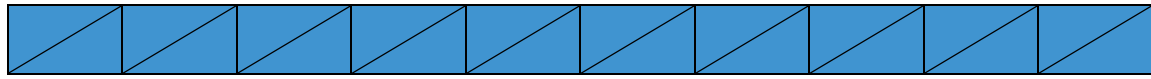
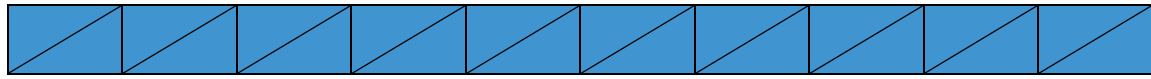
اختر الكسر العشري المناسب لكل شكل:



(0.4 ، 0.7 ، 0.3 ، 0.5)

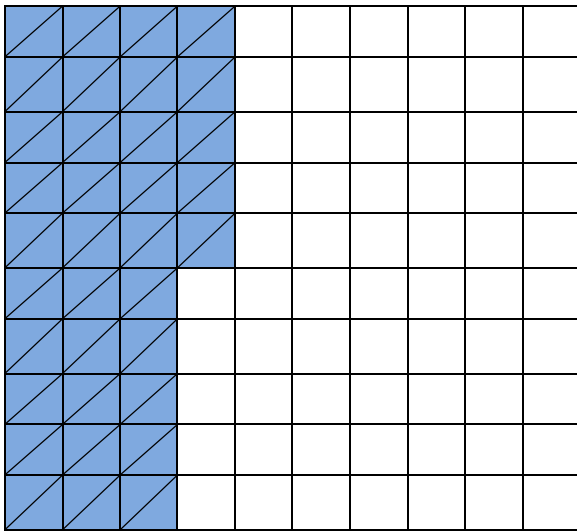


(2.3 ، 0.7 ، 1.3 ، 0.3)




(3.5 ، 0.7 ، 0.5 ، 2.5)

عبر عن الشكل التالي بـ (كسر اعتيادي) مرة و (كسر عشري) مرة أخرى:



$$\frac{35}{100} = \text{الكسر الاعتيادي}$$

$$0.35 = \text{الكسر العشري}$$



$$\frac{7}{10} = \text{الكسر الاعتيادي}$$

$$0.7 = \text{الكسر العشري}$$

القيمة المكانية في الكسور العشرية

جهة اليمين علامة عشرية جهة اليسار

الأعداد الصحيحة	و	الكسور العشرية	
آحاد	.	جزء من عشرة	جزء من مائة
7	.	3	5
7	.	0.3	0.05
7	.	3 من عشرة	5 من مائة

7.35 وتقرأ (سبعة، وخمسة وثلاثون جزءًا من مائة)

اقرأ :

تذكر أن:
 - الكسر العشري جزء من الواحد الصحيح
 - العدد العشري يتكون من عدد صحيح وكسر عشري.

1.25 (4) 0.9 (1)

0.06 (5) 0.45 (2)

7.03 (6) 7.37 (3)

اكتب في صورة كسور عشرية:

- (1) ستة أجزاء من عشرة تُكتب:
- (2) خمسة وسبعون جزءًا من مائة تُكتب:
- (3) سبعة، وأربعة أجزاء من عشرة تُكتب:
- (4) ثمانية أجزاء من مائة تُكتب:

اختر الإجابة الصحيحة:

(1) قيمة الرقم 5 في الكسر العشري 0.52 هي

(أ) 0.05 (ب) 0.5 (ج) 5 (د) 50

(2) القيمة المكانية للرقم 6 في الكسر العشري 0.26 هي

(أ) جزء من عشرة (ب) جزء من مائة (ج) آحاد (د) عشرات

صيغ (طرق) كثيرة للكسور العشرية

الصيغة الممتدة	الصيغة اللفظية	الصيغة القياسية
$0.4 + 0.05$	خمسة وأربعون جزءاً من مائة	0.45
$3 + 0.6$	ثلاثة، وستة أجزاء من عشرة	3.6
$7 + 0.1 + 0.03$	سبعة، وثلاثة عشرة جزءاً من مائة	7.13
$8 + 0.09$	ثمانية، وتسعة أجزاء من مائة	8.09

اكتب بالصيغة القياسية:

- (1) سبعة أجزاء من عشرة تُكتب:
- (2) خمسة وستون جزءاً من مائة تُكتب:
- (3) ثلاثة، وأربعة أجزاء من عشرة تُكتب:

اكتب بالصيغة اللفظية:

- (1) 0.9 –
- (2) 1.25 –
- (3) 0.06 –

اكتب بالصيغة الممتدة:

- (1) 2.5 –
- (2) 1.25 –
- (3) 7.06 –

(1) الكسور العشرية حتى جزء من ألف

– الكسر الاعتيادي $\frac{7}{10}$ = الكسر العشري 0.7 ويُقرأ (7 أجزاء من عشرة)

– الكسر الاعتيادي $\frac{35}{100}$ = الكسر العشري 0.35 ويُقرأ (35 جزء من مائة)

– العدد الكسري $1\frac{5}{10}$ = العدد العشري 1.5 ويُقرأ (1 و 5 أجزاء من عشرة)

– الكسر الاعتيادي $\frac{125}{1000}$ = الكسر العشري 0.125 ويُقرأ (125 جزء من ألف)


– العدد الكسري $6\frac{225}{1000}$ = العدد العشري 6.225 ويُقرأ (6 و 225 جزء من ألف)

حول الكسور والأعداد الاعتيادية إلى كسور وأعداد عشرية:

$$\dots\dots\dots = 2\frac{2}{10} \quad \textcircled{2} \quad \dots\dots\dots = \frac{6}{10} \quad \textcircled{1}$$

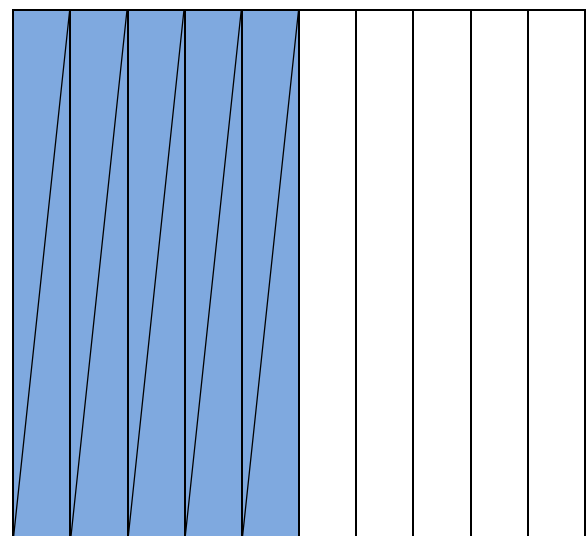
$$\dots\dots\dots = 7\frac{35}{100} \quad \textcircled{4} \quad \dots\dots\dots = \frac{45}{100} \quad \textcircled{3}$$

$$\dots\dots\dots = 5\frac{225}{1000} \quad \textcircled{6} \quad \dots\dots\dots = \frac{3}{100} \quad \textcircled{5}$$



0.50

(50 جزء من مائة)



= 0.5

= (5 أجزاء من عشرة)

قراءة العدد العشري:

- نقرأ العدد الصحيح الموجود يسار العدد أولاً.
- ثم قراءة الأجزاء العشرية الموجودة يمين العدد العشري.

الوحدات			العلامة العشرية	الكسور العشرية		
مئات	عشرات	آحاد	.	جزء من عشرة	جزء من مائة	جزء من ألف
	4	3	.	6	2	5
	40	3	.	0.6	0.02	0.005

43.625

تكتب:

وتقرأ: (ثلاثة وأربعون، وستمائة وخمسة وعشرون جزءاً من ألف)

لاحظ:

المليار			الملايين			الألوف			الوحدات			الكسور العشرية		
آحاد	مئات	عشرات	آحاد	مئات	عشرات	آحاد	مئات	عشرات	آحاد	علامة عشرية	جزء من عشرة	جزء من مائة	جزء من ألف	
7	9	2	1	5	8	5	4	1	7	.	2	7	5	
7	9	2	1	5	8	5	4	1	7	.	2	7	5	

العدد السابق هو (7,921,585,417.275)

اقرأ العدد (253,312,725.25) - (35,612.04)

يمكن التعبير عن الكسور العشرية بطرق مختلفة:

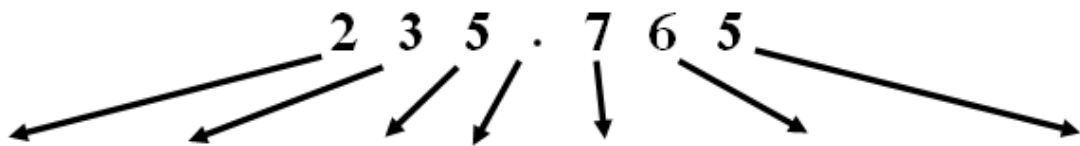
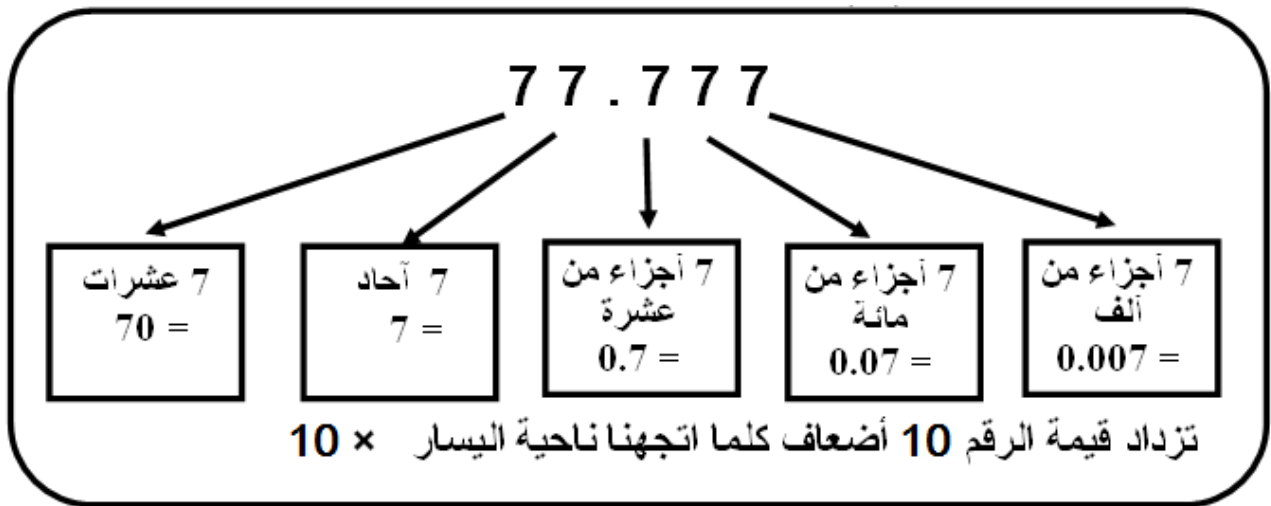
الكسر العشري (0.345)

(1) 3 أجزاء من عشرة، و 4 أجزاء من مائة، و 5 أجزاء من ألف.

(2) 3 أجزاء من عشرة، و 45 جزءاً من ألف.

(3) 34 جزءاً من مائة، و 5 أجزاء من ألف.

(2) تغير القيمة المكانية



جزء من ألف	جزء من مائة	جزء من عشرة	علامة عشرية	آحاد	عشرات	مئات
0.005	0.06	0.7	.	5	30	200

(في العدد 0.77)

(7 في خانة جزء من عشرة = 10 أضعاف الرقم 7 في خانة جزء من مائة)

عند ضرب الكسر العشري أو العدد العشري $10 \times$ يتحرك كل رقم لليساار خانة واحدة

$$5 \longleftarrow 0.5$$

$$70 \longleftarrow 7$$

أوجد الناتج مستخدماً جدول القيمة المكانية:

$$7.5 \times 10 = \dots\dots\dots (1)$$

الوحدات			العلامة العشرية	الأجزاء العشرية		
مئات	عشرات	آحاد	.	جزء من عشرة	جزء من مائة	جزء من ألف
		7	.	5		

- قيمة العدد (تزيد - تقل) بالضرب $10 \times$

- قيمة الرقم 7 تزيد من إلى

- قيمة الرقم 5 تزيد من إلى

الضرب × (10 أو 100) بتحريك العلامة

- عند ضرب أي عدد عشري في (10 أو 100 أو 1,000)
تتحرك العلامة العشرية جهة اليمين. (تتحرك العلامة بعدد الأصفار الموجودة)

$$\longrightarrow 7.523 \times 10 = 75.23 \quad (1)$$

$$\longrightarrow 7.523 \times 100 = 752.3 \quad (2)$$

$$\longrightarrow 7.53 \times 100 = 753 \quad (3)$$

$$\longrightarrow 7.5 \times 100 = 750 \quad (4)$$

أوجد الناتج:

$$2.75 \times 10 = \dots\dots\dots (1)$$

$$3.5 \times 10 = \dots\dots\dots (2)$$

$$2.5 \times 100 = \dots\dots\dots (3)$$

القسمة ÷ (10 أو 100)

عند قسمة الكسر العشري أو العدد العشري ÷ 10 يتحرك كل رقم لليمين خانة واحدة

أوجد الناتج مستخدماً جدول القيمة المكانية $57 \div 10 = \dots\dots\dots$

الوحدات			العلامة العشرية	الأجزاء العشرية		
مئات	عشرات	آحاد	.	جزء من عشرة	جزء من مائة	جزء من ألف
	5	7	.			

- قيمة العدد (تزيد - تقل) بالقسمة ÷ 10

- قيمة الرقم 7 تقل من إلى

- قيمة الرقم 5 تقل من إلى

تذكر أن:

* عند ضرب أي رقم (ماعدا الصفر) $\times 10$ تزداد قيمة الرقم 10 أضعاف (أمثال)

* عند ضرب أي رقم (ماعدا الصفر) $\times 100$ تزداد قيمة الرقم 100 أضعاف

أوجد الناتج مستخدما جدول القيمة المكانية $5 \times 10 = \dots\dots\dots$

الوحدات			علامة عشرية	الأجزاء العشرية		
مئات	عشرات	آحاد	.	جزء من عشرة	جزء من مائة	جزء من ألف
			.			

الوحدات			علامة عشرية	الأجزاء العشرية		
مئات	عشرات	آحاد	.	جزء من عشرة	جزء من مائة	جزء من ألف
			.			

* عند قسمة أي عدد $\div 10$ أو $(\times \frac{1}{10})$ تقل قيمة الرقم 10 أضعاف


* عند قسمة أي عدد $\div 100$ أو $(\times \frac{1}{100})$ تقل قيمة الرقم 100 أضعاف


أوجد الناتج مستخدما جدول القيمة المكانية $60 \div 10 = \dots\dots\dots$


القسمة $\div (10$ أو $100)$ بتحريك العلامة

- عند قسمة أي عدد عشري في (10 أو 100 أو 1,000)

تتحرك العلامة العشرية جهة اليسار. (تتحرك العلامة بعدد الأصفار الموجودة)

 $75.23 \div 10 = 7.523$ (1)

 $7.52 \div 10 = 0.752$ (2)

 $25.12 \div 100 = 0.2512$ (3)

 $7.519 \div 100 = 0.07519$ (4)

أوجد الناتج:

$12.5 \div 10 = \dots\dots\dots$ (1)

$4.5 \div 10 = \dots\dots\dots$ (2)

$2.3 \div 100 = \dots\dots\dots$ (3)

ضع علامة (✓) أمام العبارة الصحيحة وعبارة (X) أمام العبارة الخطأ:

(1) عند ضرب العدد $10 \times$ تتحرك أرقامه جهة اليسار. ()

(2) 7 أجزاء من ألف = 7 أجزاء من مائة. ()

(3) قيمة العدد تقل عند القسمة $\div 10$ ()

اكتب القيمة المكانية لما هو مطلوب من العدد (23.475)

(1) قيمة الرقم 7 تساوي

(2) قيمة الرقم 5 تساوي

(3) قيمة الرقم 4 تساوي

اكتب بالصيغة القياسية:

(1) ستة أجزاء من مائة. (.....)

(2) 5 آلاف ، 214 ، و 7 أجزاء من عشرة. (.....)

اختر الإجابة الصحيحة:

(1) عند ضرب العدد $10 \times$ فإن أرقام العدد تتحرك خانة جهة

(اليمين - اليسار - لا تتحرك)

(2) عندما تتحرك أرقام العدد جهة اليمين فإن قيمة العدد

(تقل - تزداد - تبقى كما هي)

(3) عند ضرب العدد 45×10 فإن قيمة الرقم 5 تصبح

(5 - 50 - 500)

أوجد الناتج مستخدماً جدول القيمة المكانية:

$$(1) 8.3 \times 10 = \dots\dots\dots$$

الوحدات			العلامة العشرية	الأجزاء العشرية		
مئات	عشرات	آحاد	.	جزء من عشرة	جزء من مائة	جزء من ألف
		8	.	3		

- قيمة العدد (تزيد - تقل) بالضرب $10 \times$

- قيمة الرقم 8 تزيد من إلى

- قيمة الرقم 3 تزيد من إلى

اختر الإجابة الصحيحة:

- (1) القيمة المكانية للرقم 5 في العدد العشري 3.65 هي
 (أ) جزء من عشرة
 (ب) آحاد
 (ج) جزء من مائة
 (د) عشرات
- (2) الرقم الموجود في خانة جزء من عشرة في العدد 3.51 هو
 (أ) 2
 (ب) 4
 (ج) 3
 (د) 5
- (3) إذا قسم العدد 236 على 10 فإن قيمة الرقم 3 تصبح
 (أ) 3
 (ب) 30
 (ج) 300
 (د) 0.3
- (4) القيمة المكانية للرقم 3 في العدد 2.453 هي
 (أ) جزء من عشرة.
 (ب) جزء من مائة.
 (ج) جزء من ألف.
 (د) ملايين
- (5) عند ضرب 35×10 فإن قيمة الرقم 3 ستساوي
 (أ) 300
 (ب) 0.03
 (ج) 3
 (د) 30
- (6) أي الأعداد الآتية تكون فيها قيمة الرقم 7 فيها تساوي 0.7
 (أ) 7.231
 (ب) 6.271
 (ج) 9.237
 (د) 3.731
- (7) إذا ضرب العدد 235 في 10 فإن قيمة الرقم 3 تصبح
 (أ) 3
 (ب) 30
 (ج) 300
 (د) 0.3

(8) قيمة الرقم 2 في العدد 0.25 تساوي

(أ) 20 (ب) 2

(ج) 0.2 (د) 0.02

(9) $5.4 \times \dots = 540$

(أ) 10 (ب) 100

(ج) 1,000 (د) 10,000

(10) عند ضرب العدد 10 في العدد 6.3 فإن قيمة الرقم 6 تصبح

(أ) 6 (ب) 60

(ج) 600 (د) 6,000

(11) القيمة المكانية للرقم 5 في العدد 4.567

(أ) جزء من عشرة (ب) آحاد

(ج) جزء من مائة (د) عشرات

(12) الرقم الموجود في خانة جزء من عشرة لوزن طائر البلشون 1.27 كجم

(أ) 2 (ب) 7

(ج) 1 (د) غير ذلك

(13) $\dots = 10 \times 6.5$

(أ) 65 (ب) 650

(ج) 6,500 (د) 0.65

أكمل ما يأتي:

(1) 5 أجزاء من ألف، و73 جزء من مائة = جزء من ألف.

(3) تكوين الكسور العشرية وتحليلها

توجد طرق كثيرة لتحليل الكسور والأعداد العشرية

حل العدد: (9.235)

$$9.235 = 9 + 0.2 + 0.03 + 0.005 \quad (1)$$

$$9.235 = 9 + 0.235 \quad (2)$$

$$9.235 = 9 + 0.2 + 0.035 \quad (3)$$

$$9.235 = 9 + 0.23 + 0.005 \quad (4)$$

عبر عن العدد باستخدام جدول القيمة المكانية، ثم حله بـ 3 طرق مختلفة:

الوحدات			علامة عشرية	الأجزاء العشرية		
مئات	عشرات	آحاد	.	جزء من عشرة	جزء من مائة	جزء من ألف
		9	.	2	3	4

العدد: 8.125

(1) الصيغة الممتدة:

(2) الطريقة الثانية:

(3) الطريقة الثالثة:

الوحدات			علامة عشرية	الأجزاء العشرية		
مئات	عشرات	آحاد	.	جزء من عشرة	جزء من مائة	جزء من ألف
			.			

عبر عن العدد باستخدام جدول القيمة المكانية، ثم حله بـ 3 طرق مختلفة:

العدد: 2.934

(1) الصيغة الممتدة:

(2) الطريقة الثانية:

(3) الطريقة الثالثة:

الوحدات			علامة عشرية	الأجزاء العشرية		
مئات	عشرات	آحاد	.	جزء من عشرة	جزء من مائة	جزء من ألف
			.			

- كون أكبر عدد من الأرقام 3 ، 7 ، 1 ، 5 حتى جزء من عشرة

أكبر عدد هو (753.1)

- كون أصغر عدد من الأرقام 3 ، 7 ، 1 ، 5 حتى جزء من مائة

أصغر عدد هو (13.57)

اختر الإجابة الصحيحة:

(1) الصيغة الممتدة الصحيحة للعدد 36.25 هي

أ- $50 + 2 + 0.6 + 0.03$

ب- $30 + 6 + 0.5 + 0.02$

ج- $30 + 6 + 0.2 + 0.05$

د- $50 + 2 + 0.3 + 0.06$

(2) $9 + \dots = 9.06$

أ- 6 ب- 0.6

ج- 60 د- 0.06

(3) أصغر عدد مكون من 5 ، 3 ، 7 ، 4 حتى جزء من مائة هو

أ- 345.7 ب- 34.57

ج- 754.3 د- 345.7

(4) ثلاثة، وأربعة أجزاء من عشرة تُكتب

أ- 3.4 ب- 4.3

ج- 34 د- 3.04

(5) $0.02 + 0.4 + 2 + \dots = 12.42$

أ- 1 ب- 100

ج- 0.1 د- 10

صل من العمود (أ) ما يناسبه من العمود (ب)

م	(أ)	(ب)
1	$2 + 0.5$	2.05 ()
2	$2 + 0.3 + 0.06$	2.5 ()
3	$20 + 7 + 0.5$	2.36 ()
4	$2 + 0.05$	27.5 ()

(4) مقارنة الكسور العشرية

- (1) يجب أن تساوي بين عدد الأرقام يمين العلامة.
- (2) ننظر للرقم الموجود في خانة الآحاد يسار العلامة.
- (3) ننظر إلى خانة (جزء من عشرة)
- (4) ننظر إلى خانة (جزء من مائة)
- (5) ننظر إلى خانة (جزء من ألف)

ضع الأرقام في جدول القيمة المكانية، ثم حدد العدد الأكبر:

ضع علامة ($<$) أو ($=$) أو ($>$):

الوحدات			علامة عشرية	الأجزاء العشرية		
مئات	عشرات	آحاد		جزء من عشرة	جزء من مائة	جزء من ألف
			.			

$$25.123 \quad \square \quad 25.098$$

ضع علامة ($<$) أو ($=$) أو ($>$):

$$\rightarrow 10.2 \quad \square \quad 10.8 \quad \textcircled{2} \quad 0.7 \quad \square \quad 0.3 \quad \textcircled{1}$$

ضع علامة ($<$) أو علامة ($=$) أو علامة ($>$):

$$7.51 \quad \square \quad 7.53 \quad \textcircled{2} \quad 0.07 \quad \square \quad 0.5 \quad \textcircled{1}$$

ضع علامة ($<$) أو علامة ($=$) أو علامة ($>$):

$$0.5 \quad \square \quad \frac{50}{100} \quad \textcircled{2} \quad \frac{5}{10} \quad \square \quad 0.7 \quad \textcircled{1}$$

رتب الكسور العشرية ترتيباً تصاعدياً (من الأصغر إلى الأكبر)

$$(0.11 - 0.25 - 0.02 - 0.3)$$

الترتيب: (..... ، ، ،)

اختر الإجابة الصحيحة:

- (1) الصيغة اللفظية للكسر العشري 0.7 هي
- (أ) سبعة أجزاء من عشرة (ب) سبعة (ج) سبعة أجزاء من مائة (د) سبعون
- (2) القيمة المكانية للرقم 5 في العدد العشري 3.65 هي
- (أ) جزء من عشرة (ب) آحاد (ج) جزء من مائة (د) عشرات
- (3) الرقم الموجود في خانة جزء من عشرة في العدد العشري 3.51 هو
- (أ) 2 (ب) 4 (ج) 3 (د) 5
- (4) 1.49 1.401
- (أ) > (ب) < (ج) = (د) غير ذلك
- صل من العمود (أ) ما يناسبه من العمود (ب)

- ① ستة، و 7 أجزاء من عشرة . - 0.35 ()
- ② 3 أجزاء من عشرة و 5 أجزاء من مائة. - 5.37 ()
- ③ خمسة، و 3 أجزاء من عشرة و 7 أجزاء من مائة. - 0.8 ()
- ④ 8 أجزاء من عشرة . - 6.7 ()

ضع علامة (✓) أو علامة (X) أمام الجمل الآتية :

- (1) قيمة الرقم 2 في العدد 75.25 هي 0.2 ()
- (2) 0.037 = سبعة وثلاثون جزءًا من ألف . ()
- (3) 7 أجزاء من عشرة تساوي 7 أجزاء من مائة. ()

اختر الإجابة الصحيحة:

(1) الصيغة اللفظية للكسر العشري 0.9 هي

- (أ) تسعة أجزاء من عشرة
(ب) تسعة
(ج) تسعة أجزاء من مائة
(د) تسعون

(2) الرقم الموجود في خانة جزء من عشرة في العدد العشري 3.51 هو

- (أ) 2
(ب) 4
(ج) 3
(د) 5

(3) مائة وخمسة وعشرون جزءًا من ألف

- (أ) 125,000
(ب) 0.125
(ج) 1.25
(د) 12.5

(4) 3 أجزاء من عشرة، و6 أجزاء من مائة، و 5 أجزاء من ألف.

- (أ) 0.563
(ب) 365
(ج) 0.365
(د) 3.56

(6) 25 جزء من مائة و 6 أجزاء من ألف =

- (أ) 0.256
(ب) 0.0256
(ج) 0.625
(د) 6.25

(7) 0.25 أكبر من

- (أ) 0.225
(ب) 0.250
(ج) 0.5
(د) 0.30

(8) الكسران العشريان المتساويان هما:

- (أ) $0.50 - 0.05$
(ب) $0.50 - 0.5$
(ج) $0.521 - 0.125$
(د) $0.305 - 0.503$

صل من العمود (أ) ما يناسبه من العمود (ب)

- (1) ثلاثة، و5 أجزاء من عشرة . () 0.4 -
(2) ثلاثة، و5 أجزاء من مائة. () 3.05 -
(3) أربعة أجزاء من عشرة. () 3.5 -

ضع علامة (✓) أو علامة (X) أمام الجمل الآتية :

(1) $0.6 > 0.58$ (.....)

(2) $25.12 < 9.235$ (.....)

(3) عند الضرب $\times 10$ تزداد قيمة الرقم 10 أضعاف. (.....)

(4) $0.725 = 0.7 + 0.02 + 0.005$ (.....)

أكمل ما يأتي:

(1) حل العدد 8.235 بالصيغة الممتدة

صل من العمود (أ) ما يناسبه من العمود (ب)

م	(أ)	(ب)
1	خمسة وثلاثون جزءاً من مائة	() جزء من عشرة
2	خمسة وثلاثون جزءاً من ألف	() جزء من ألف
3	قيمة الرقم 6 في العدد 0.65	() 0.35
4	قيمة الرقم 8 في العدد 0.348	() 0.035

اختر الإجابة الصحيحة:

(1) الرقم الموجود في خانة جزء من عشرة في العدد العشري 3.51 هو

(أ) 2	(ب) 5
(ج) 3	(د) 1

(2) 0.99 1.01

(أ) =	(ب) >
(ج) <	(د) غير ذلك

(5) تقريب الكسور العشرية

التقريب لأقرب وحدة (لأقرب عدد صحيح) (حذف الكسور العشرية)

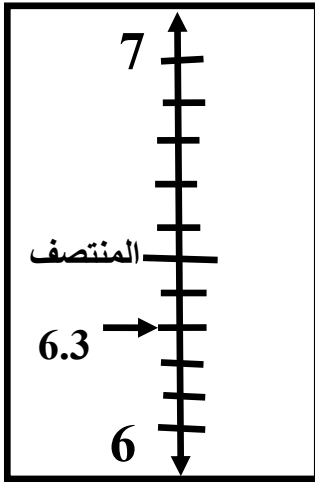
قرب العدد : 6.3 (لأقرب وحدة)

تذكر :

الأعداد البخيلة : 0 - 1 - 2 - 3 - 4

الأعداد الكريمة : 5 - 6 - 7 - 8 - 9

عند التقريب لأقرب وحدة :



• نحذف كل الكسور العشرية الموجود يمين العلامة العشرية.

• نترك العد الصحيح فقط.

• إذا (الجزء من عشرة) أقل من 5 نحذف ونكتب العدد الصحيح فقط كما هو.

• إذا كان (الجزء من عشرة) = 5 أو أكثر يُحذف ونزيد العدد الصحيح بمقدار (1)

(لأقرب وحدة)

$$82.53 \approx 83 \quad (1)$$

(لأقرب وحدة)

$$4.56 \approx 5 \quad (2)$$

(لأقرب وحدة)

$$6.25 \approx 6 \quad (3)$$

قرب الأعداد لأقرب وحدة (لأقرب عدد صحيح):

(1) $7.9 \approx \dots$ (لأقرب وحدة)

(2) $5.6 \approx \dots$ (لأقرب وحدة)

(3) $13.7 \approx \dots$ (لأقرب وحدة)

(4) $52.3 \approx \dots$ (لأقرب وحدة)

التقريب لأقرب جزء من عشرة أو (لأقرب رقم عشري واحد) (0.1) أو $\frac{1}{10}$

قرب لأقرب جزء من عشرة:

التقريب لأقرب جزء من عشرة

- ننظر إلى خانة الجزء من مائة.

- إذا كانت خانة جزء من مائة $5 \leq$

نضيف واحد إلى خانة جزء من عشرة،

وإذا كانت $5 >$ تنقى خانة جزء من

عشرة كما هي.

$$5.\overset{\times}{\underline{6}}3 \simeq 5.6 \quad (1)$$

$$12.\overset{1 \times}{\underline{4}}7 \simeq 12.5 \quad (2)$$

$$534.87 \simeq 534.9 \quad (3)$$

$$7.21 \simeq 7.2 \quad (4)$$

قرب لأقرب جزء من عشرة:

$$12.21 \simeq \dots\dots\dots (1)$$

$$534.47 \simeq \dots\dots\dots (2)$$

$$5.25 \simeq \dots\dots\dots (3)$$

التقريب لأقرب جزء من مائة أو (لأقرب رقمين عشريين) (0.01) أو $\frac{1}{100}$

قرب لأقرب جزء من مائة:

التقريب لأقرب جزء من مائة

- ننظر إلى خانة الجزء من ألف.

- إذا كانت خانة جزء من ألف \leq

5 نضيف واحد إلى خانة جزء من

مائة، وإذا كانت $5 >$ تنقى خانة

جزء من مائة كما هي.

$$5.\overset{\times}{\underline{6}}32 \simeq 5.63 \quad (1)$$

$$12.\overset{1 \times}{\underline{4}}76 \simeq 12.48 \quad (2)$$

$$534.879 \simeq 535.88 \quad (3)$$

$$7.213 \simeq 7.21 \quad (4)$$

قرب لأقرب جزء من مائة:

$$12.231 \simeq \dots\dots\dots (1)$$

$$534.447 \simeq \dots\dots\dots (2)$$

$$5.295 \simeq \dots\dots\dots (3)$$

التقريب لأقرب جزء من ألف أو (0.001) أو $\frac{1}{1000}$

التقريب لأقرب جزء من ألف
 - ننظر إلى خانة الجزء من عشرة آلاف.
 - إذا كانت خانة جزء من عشرة آلاف ≤ 5 نضيف واحد إلى خانة جزء من ألف،
 وإذا كانت > 5 تنقى خانة جزء من ألف كما هي.

$$5.6362^{\times} \approx 5.636 \quad (1)$$

$$12.4746^{1 \times} \approx 12.475 \quad (2)$$

$$535.8769 \approx 535.877 \quad (3)$$

$$7.2143 \approx 7.214 \quad (4)$$

قرب لأقرب جزء من ألف:

$$12.2341 \approx \dots \quad (1) \text{ (لأقرب جزء من ألف)}$$

$$534.4457 \approx \dots \quad (2) \text{ (لأقرب جزء من ألف)}$$

$$5.2925 \approx \dots \quad (3) \text{ (لأقرب جزء من ألف)}$$

اختر الإجابة الصحيحة:

$$2.231 \approx 2.23 \quad (1) \text{ مقرب لأقرب } \dots$$

(أ) وحدة	(ب) جزء من عشرة
(ج) جزء من مائة	(د) جزء من ألف

$$76.231 \approx 76 \quad (2) \text{ مقرب لأقرب } \dots$$

(أ) وحدة	(ب) جزء من عشرة
(ج) جزء من مائة	(د) جزء من ألف

$$2.2327 \approx 2.293 \quad (3) \text{ مقرب لأقرب } \dots$$

(أ) وحدة	(ب) جزء من عشرة
(ج) جزء من مائة	(د) جزء من ألف

اختر الإجابة الصحيحة:

(1) طريق طوله 25.73 كم قرب الطول لأقرب عدد صحيح \approx كم

27	(ب)	25	(أ)
23	(د)	26	(ج)

(2) القيمة المكانية للرقم 7 في العدد 61.672 هو

جزء من مائة	(ب)	جزء من عشرة	(أ)
عشرات	(د)	جزء من ألف	(ج)

(3) $0.89 \approx$ لأقرب عدد صحيح

2	(ب)	1	(أ)
4	(د)	3	(ج)

أكمل ما يأتي:

(1) قيمة الرقم 3 في العدد 5.03 تساوي

(2) اكتب بالصيغة القياسية: سبعة وثلاثون جزءاً من ألف

(3) $534.47 \approx$ (لأقرب جزء من عشرة)

ضع علامة (<) أو علامة (=) أو علامة (>):

3.2 1.5 ② 0.05 0.2 ①

2.13 1.99 ④ 0.6 0.08 ③

صل من العمود (أ) ما يناسبه من العمود (ب)

م	(أ)	(ب)
1	قيم الرقم 4 في العدد 7.45 تساوي	0.008 ()
2	0.65 تساوي	0.4 ()
3	0.75 ≈ لأقرب جزء من عشرة	0.650 ()
4	قيمة الرقم 8 في العدد 0.348	0.8 ()

اختر الإجابة الصحيحة:

(1) القيمة المكانية للرقم 3 في العدد 2.43 هي

(أ) آحاد (ب) جزء من عشرة

(ج) جزء من مائة (د) آلاف

(1) قيمة الرقم 6 في العدد 2.63 هي

(أ) 6 (ب) 60

(ج) 0.06 (د) 0.6

ضع علامة (<) أو علامة (=) أو علامة (>):

(1) 3 أجزاء من عشرة 9 أجزاء من مائة

(2) 70 جزء من مائه 7 أجزاء من عشرة

(3) 2 آحاد 1.99

ضع علامة (✓) أمام العبارة الصحيحة وعبارة (X) أمام العبارة الخطأ:

(1) 7 أجزاء من عشرة = 7 أجزاء من مائة. ()

(2) 0.50 = 0.5 ()

اختر الإجابة الصحيحة مما بين القوسين:

$$3.025 = 3 + 0.02 + \dots \quad (1)$$

(أ) 0.005 (ب) 0.5

(ج) 0.05 (د) 50

(2) قيمة الرقم 4 في العدد 5.234 هي

(أ) 4 (ب) 0.004

(ج) 0.4 (د) 4,000

ضع علامة (✓) أمام العبارة الصحيحة وعبارة (X) أمام العبارة الخاطئة:

(1) القيمة المكانية للرقم 3 في العدد 5.32 هي جزء من عشرة. ()

(2) العدد 99.5 مقرباً لأقرب عدد صحيح يساوي 100 ()

(3) تقريب العدد 6.43 لأقرب جزء من عشرة يساوي 6.5 ()

صل من العمود (أ) ما يناسبه من العمود (ب)

م	(أ)	(ب)
1	$3 + 0.2 + 0.05$	5 أجزاء من عشرة ()
2	50 جزءاً من مائة	0.2 ()
3	قيمة الرقم 2 في العدد 3.26	0.25 ()
4	خمسة وعشرون جزءاً من مائة	3.25 ()

أكمل ما يأتي:

(1) العدد 6.437 مقرباً لأقرب جزء من مائة يساوي

(2) خمسة وعشرون جزءاً من مائة تُكتب بالصيغة القياسية

(3) العدد $16.728 \approx$ مقرباً لأقرب جزء من عشرة.

اختر الإجابة الصحيحة مما بين القوسين:

- (1) القيمة المكانية للرقم 4 في العدد 5.241
 (أ) جزء من عشرة. (ب) جزء من ألف.
 (ج) جزء من مائة. (د) عشرات.
- (2) أي الأعداد الآتية فيها قيمة 6 تساوي 0.6
 (أ) 6.234 (ب) 3.643
 (ج) 4.236 (د) 5.462

ضع علامة (✓) أمام العبارة الصحيحة وعبارة (X) أمام العبارة الخاطئة:

- (1) $0.30 = 0.3$ ()
 (2) ستة أجزاء من مائة تُكتب 0.6 ()
 (3) $14.11 < 9.23$ ()

صل من العمود (أ) ما يناسبه من العمود (ب)

م	(أ)	(ب)
1	القيمة المكانية للرقم 4 في العدد 0.41	()
2	$10 \times 65 = \dots\dots\dots$	جزء من عشرة
3	الرقم الموجود في خانة جزء من مائة 0.45	650

أكمل ما يأتي:

- (1) اكتب بالأرقام: ثلاثة وعشرون جزءًا من مائة
 (2) $5.2 \times 10 = \dots\dots\dots$
 (3) $2.79 \approx \dots\dots\dots$ (لأقرب جزء من عشرة)
 (4) $8.12 \approx \dots\dots\dots$ (لأقرب عدد صحيح)

(6) تقدير مجموع الأعداد العشرية

استراتيجيات تقدير مجموع عددين أو كسرين عشريين:

(1) استراتيجيات التقدير من خلال أول رقم من اليسار:

$$0.92 + 2.57 = \dots\dots\dots$$

$$0 + 2 = \dots\dots\dots 2$$

(2) استراتيجية التقدير باستخدام التقريب (لأقرب جزء من عشرة):

$$0.92 + 2.51 = \dots\dots\dots$$

$$0.9 + 2.5 = \dots\dots\dots 3.4$$

تذكر أن:

(3) استراتيجية أعداد عشرية لها قيمة مميزة: -ال (0) قيمة مميزة لـ (0.1 – 0.01)

-ال (0.5) قيمة مميزة لـ (0.5 – 0.50)

-ال (1) قيمة مميزة لـ (0.9 – 0.99)

$$0.92 + 2.57 = \dots\dots\dots$$

$$1 + 2.5 = \dots\dots\dots 3.5$$

قدر ناتج كل مسألة باستخدام استراتيجية أعداد عشرية لها قيمة مميزة:

$$0.92 + 4.05 = \dots\dots\dots (1)$$

$$\dots\dots\dots + \dots\dots\dots = \dots\dots\dots$$

$$1.92 + 0.51 = \dots\dots\dots (2)$$

$$\dots\dots\dots + \dots\dots\dots = \dots\dots\dots$$

جمع الكسور العشرية من رقمين عشريين باستخدام جدول القيمة المكانية:

$$= 0.23 + 0.45 (1)$$

استخدم الطريقة الرأسية لتسهيل الجمع

اجمع:

$$0.45 +$$

$$0.23$$

.....

الوحدات			علامة عشرية	الأجزاء العشرية		
مئات	عشرات	آحاد		جزء من عشرة	جزء من مائة	جزء من ألف
			.			
+						

(7) نمذجة جمع الكسور العشرية

اجمع: $1.262 + 5.475 = \dots\dots\dots$

استخدم الطريقة الرأسية لتسهيل الجمع

الوحدات			علامة عشرية	الأجزاء العشرية		
مئات	عشرات	آحاد		جزء من عشرة	جزء من مائة	جزء من ألف
			.			

اجمع:

$$\begin{array}{r} 5.475 \\ + \\ \underline{1.262} \\ \hline \end{array}$$

.....

+

- كون أكبر كسر عشري، وأصغر كسر عشري، وأوجد ناتج الجمع، ثم أوجد ناتج التقدير باستراتيجيتين مختلفتين: (3 ، 7 ، 4)

- أكبر كسر عشري هو: 0.743 - أصغر كسر عشري هو: 0.347
 (الناتج الفعلي) (استراتيجية التقريب لأقرب جزء من عشرة) (استراتيجية التقريب لأقرب جزء من مائة)

اجمع:

$$\begin{array}{r} 0.74 \\ + \\ \underline{0.35} \\ \hline 1.09 \end{array}$$

اجمع:

$$\begin{array}{r} 0.7 \\ + \\ \underline{0.3} \\ \hline 1.0 \end{array}$$

اجمع:

$$\begin{array}{r} 0.743 \\ + \\ \underline{0.347} \\ \hline 1.090 \end{array}$$

- كون أكبر كسر عشري، وأصغر كسر عشري، وأوجد ناتج الجمع، ثم أوجد ناتج التقدير باستراتيجيتين مختلفتين: (3 ، 6 ، 5)

- أكبر كسر عشري هو: - أصغر كسر عشري هو:
 (الناتج الفعلي) (استراتيجية التقريب لأقرب جزء من عشرة) (استراتيجية التقريب لأقرب جزء من مائة)

اجمع:

.....

.....

.....

اجمع:

.....

.....

.....

اجمع:

.....

.....

.....

اختر الإجابة الصحيحة: (استخدم الطريقة الرأسية في الجمع)

اجمع:

(1) العدد الذي له قيمة مميزة للكسر العشري 0.9 هو

أ- الصفر ب- 1

ج- 0.5 د- 2

اجمع:

(2) ناتج جمع: $7.56 + 3.35 =$

أ- 10.12 ب- 10.91

ج- 10.19 د- 10.11

اجمع:

(3) **أوجد الناتج الفعلي:** (نساوي بين عدد الكسور يمين العلامة)

(أ) $2.15 + 9.2 =$

(ب) $1.637 + 4.345 =$

(ج) $2.345 + 3.32 =$

اجمع:

(4) **أوجد الناتج بالتقريب لأقرب جزء من عشرة:**

(أ) $3.41 + 2.35 =$

..... + =

(ب) $7.53 + 6.09 =$

..... + =

اجمع:

اجمع:

(5) **أوجد الناتج بالتقريب لأقرب جزء من مائة:**

(أ) $1.349 + 5.563 =$

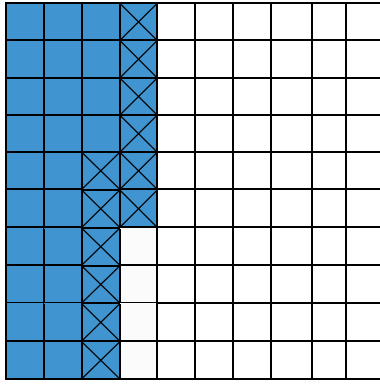
..... + =

(ب) $2.421 + 8.325 =$

..... + =

اجمع:

(8) نمذجة طرح الكسور العشرية



استراتيجيات تقدير مجموع عددين أو كسرين عشريين:

(1) استراتيجية النماذج:

$$0.36 - 0.12 = \dots\dots\dots$$

- المربعات المظللة تمثل الكسر العشري الأكبر

- المربعات الموجودة بها (x) هي الكسر العشري الأصغر

- المربعات المتبقية تمثل ناتج الطرح

(2) استراتيجية جدول القيمة المكانية:

$$0.95 - 0.43 = \dots\dots\dots$$

الوحدات			علامة عشرية	الاجزاء العشرية		
مئات	عشرات	آحاد	.	جزء من عشرة	جزء من مائة	جزء من ألف
		0	.	9	5	
		0	.	4	3	

-

(2) استراتيجية الطرح بالطريقة الرأسية:

$$0.75 - 0.23 = \dots\dots\dots$$

اطرح:

$$\begin{array}{r} 0.75 \\ - 0.23 \\ \hline \dots\dots\dots \end{array}$$

- تقدير الفرق بين عددين عشريين

أوجد الناتج: $7.945 - 2.531 = \dots\dots\dots$

(أول رقم من اليسار) (التقريب لأقرب جزء من عشرة) (التقريب لأقرب جزء من مائة)

اطرح:

$$\begin{array}{r} 7.95 \\ - 2.53 \\ \hline 5.42 \end{array}$$

اطرح:

$$\begin{array}{r} 7.9 \\ - 2.5 \\ \hline 5.4 \end{array}$$

اطرح:

$$\begin{array}{r} 7.000 \\ - 2.000 \\ \hline 5.000 \end{array}$$

الناتج الفعلي = $7.945 - 2.531 = \dots\dots\dots 5.413$

(9) تقدير الفرق بين عددين عشريين

أوجد الناتج: $5.941 - 3.578 = \dots\dots\dots$

(أول رقم من اليسار) (التقريب لأقرب جزء من عشرة) (التقريب لأقرب جزء من مائة)

اطرح:

.....

.....

اطرح:

.....

.....

اطرح:

.....

.....

الناتج الفعلي $5.941 - 3.578 = \dots\dots\dots = \dots\dots\dots$

(10) طرح الأعداد العشرية مع إعادة التسمية حتى الجزء بالألف

أوجد الناتج: $8.942 - 3.535 = \dots\dots\dots$

جدول القيمة المكانية

طريقة الخوارزمية المعيارية

الوحدات			علامة عشرية	الأجزاء العشرية		
مئات	عشرات	آحاد		جزء من عشرة	جزء من مائة	جزء من ألف
		8	.	9	4	2
		3	.	5	3	5

اطرح:

^{3 12}

8.942

- 3.535

5.407

أوجد الناتج: $46.345 - 31.192 = \dots\dots\dots$

جدول القيمة المكانية

طريقة الخوارزمية المعيارية

الوحدات			علامة عشرية	الأجزاء العشرية		
مئات	عشرات	آحاد		جزء من عشرة	جزء من مائة	جزء من ألف

اطرح:

.....

.....

أوجد الناتج:

- كون أكبر كسر عشري، وأصغر كسر عشري، وأوجد ناتج الجمع، ثم أوجد ناتج التقدير باستراتيجيتين مختلفتين:

$$(9 , 5 , 6)$$

- أكبر كسر عشري هو: 0.965 - أصغر كسر عشري هو: 0.569
(الناتج الفعلي) (استراتيجية التقريب لأقرب جزء من عشرة) (استراتيجية التقريب لأقرب جزء من مائة)

اطرح:

$$\begin{array}{r} 0.97 \\ - 0.57 \\ \hline 0.40 \end{array}$$

اطرح:

$$\begin{array}{r} 1.0 \\ - 0.6 \\ \hline 0.4 \end{array}$$

اطرح:

$$\begin{array}{r} 0.965 \\ - 0.569 \\ \hline 0.396 \end{array}$$

أوجد الناتج:

- كون أكبر كسر عشري، وأصغر كسر عشري، وأوجد ناتج الجمع، ثم أوجد ناتج التقدير باستراتيجيتين مختلفتين:

$$(5 , 7 , 3)$$

- أكبر كسر عشري هو: - أصغر كسر عشري هو:
(الناتج الفعلي) (استراتيجية التقريب لأقرب جزء من عشرة) (استراتيجية التقريب لأقرب جزء من مائة)

اطرح:

$$\begin{array}{r} \\ \\ \hline \\ \end{array}$$

اطرح:

$$\begin{array}{r} \\ \\ \hline \\ \end{array}$$

اطرح:

$$\begin{array}{r} \\ \\ \hline \\ \end{array}$$

اختر الإجابة الصحيحة:

اطرح:

.....

.....

.....

(1) $3.86 - 2.32 =$

أ- 4.52 ب- 5.02

اطرح:

.....

.....

.....

ج- 1.45 د- 1.54

(2) ناتج طرح: $1.6 - 0.2 =$

أ- 1.8 ب- 1

اطرح:

.....

.....

.....

ج- 0.4 د- 1.4

(3) أوجد الناتج الفعلي:

(أ) $5.3 - 2.1 =$

(ب) $25.67 - 4.23 =$

(ج) $35.45 - 12.09 =$

اطرح:

.....

.....

.....

(4) أوجد الناتج بالتقريب لأقرب جزء من عشرة:

(أ) $3.86 - 2.32 =$

..... - =

(ب) $10.53 - 6.09 =$

..... - =

اطرح:

.....

.....

.....

(5) أوجد الناتج بالتقريب لأقرب جزء من مائة:

(أ) $8.427 - 2.325 =$

..... - =

(ب) $7.349 - 5.523 =$

..... - =

اطرح:

.....

.....

.....

اطرح:

.....

.....

.....

اختر الإجابة الصحيحة مما بين القوسين:

.....

.....

.....

(1) $57 + 0.235$

(أ) 57.253 (ب) 57.325

(ج) 258.57 (د) 57.235

(2) القيمة المكانية للرقم 5 في العدد 7.358

(أ) جزء من عشرة (ب) آحاد

(ج) جزء من مائة (د) عشرات

.....

.....

.....

(3) $2.6 - 0.95 =$

(أ) 1.65 (ب) 3.55

(ج) 0.65 (د) 61.5

ضع علامة (✓) أمام العبارة الصحيحة وعبارة (X) أمام العبارة الخاطئة:

(1) العدد 8.359 مقرباً لأقرب جزء من عشرة هو 8.36 ()

صل من العمود (أ) ما يناسبه من العمود (ب)

م	(أ)	(ب)
1	$4.36 + 3.25$	33.9 ()
2	9.8 مقرباً لأقرب عدد صحيح	$11.81 - 4.2$ ()
3	$31.71 + 2.19$	10 ()

أكمل ما يأتي:

.....

.....

.....

.....

.....

.....

(1) $42.7 + 4.72 =$

(2) $7.831 - 2.625 =$

(3) $2.14 +$ = 3.75

(11) مسائل كلامية على الكسور والأعداد العشرية

الطرح (-)

- الباقي
- المتبقي - المتبقية
- الفرق
- الوزن الصافي

الجمع (+)

- مجموع - مجموعهما
- ما مع الاثنين - ما معهما
- المسافة الكلية
- في اليومين - في الشهرين

(1) ذهبت سلمى إلى السوق واشترت 2.75 كيلوجرام من البطاطس، و 1.2 كجم

اجمع:

من اللحم. أوجد مجموع كتلتي ما اشترته.

مجموع ما اشترته كجم = +

(2) يجري أحمد مسافة 2.35 كم كل يوم، ويجري صديقه سامح مسافة 3.27 كم

أوجد مجموع المسافتين.

مجموع المسافتين =

(3) طريق طوله 35.75 كم، قامت الدولة بتشجير مسافة 12.25 كم من الطريق

أوجد المسافة المتبقية.

اطرح:

المسافة المتبقية =

(4) قطعتان من القماش طول القطعة الأولى 9.35 مترا ، وطول القطعة الثانية،

وطول القطعة الثانية 4.75 مترا. أوجد الفرق بين القطعتين.

المسافة المتبقية =

اختر الإجابة الصحيحة:

(1) سيارة تحمل 65.45 كجم من الفاكهة، وسيارة أخرى تحمل

24.63 كجم من الفاكهة. فإن مجموع ما تحمله السيارتان

= كجم

(أ) 80.90 (ب) 90.08

(ج) 90.09 (د) 80.09

(2) إذا كانت كتلة مروان 45.25 كجم، وكتلة زميله مصطفى

42.75 كجم. أوجد الفرق بين كتليهما.

= كجم

(أ) 2.5 (ب) 1.5

(ج) 3.5 (د) 2.05

أوجد الناتج:

(1) مع بسمة 12.25 جنيها، ومع أخيها باسم 15.75 جنيها، أوجد مجموع ما

مع الاثنين.

مجموع ما معهما =

(2) تتناول أسرة أحمد 5.25 لترا من الماء كل يوم، وتتناول أسرة باسم 3.15 لترا

يوميًا، أوجد الفرق بين الأسرتين.

الفرق =

اختر الإجابة الصحيحة مما بين القوسين:

(1) القيمة المكانية للرقم 3 في العدد 1.345

(أ) جزء من عشرة (ب) جزء من ألف

(ج) جزء من مائة (د) عشرات

(2) 4 أجزاء من عشرة + 27 جزء من ألف

(أ) 0.427 (ب) 0.274

(ج) 0.724 (د) 0.247

صل من العمود (أ) ما يناسبه من العمود (ب)

م	(أ)	(ب)
1	$17.2 - 14.5$	() 48.8
2	$1.3 + 1.2$	() 2.7
3	$25.2 + 23.6$	() 2.5

أجب عما يأتي:

(1) اشترت سعاد قطعة من القماش طولها 42.5 متراً، واشترت هدى قطعة طولها 32.61 متراً . كم يكون طول القطعتين معاً.

- طول القطعتين: متراً

(2) اشترى باسم قميصاً ثمنه 203.5 جنية بعد الخصم، فإذا كان ثمنه قبل الخصم 213.7 جنية، فما الفرق بين سعر القميص قبل الخصم وبعد الخصم.

- الفرق: جنية

.....

.....

.....

.....

.....

.....

اختر الإجابة الصحيحة مما بين القوسين:

(1) $3.94 \approx$ (لأقرب عدد صحيح)

(أ) 4 (ب) 9

(ج) 5 (د) 3

(2) أي الأعداد الآتية هي الأكبر

(أ) 65.231 (ب) 65.099

(ج) 65.123 (د) 65.812

ضع علامة (✓) أمام العبارة الصحيحة وعبارة (X) أمام العبارة الخاطئة:

(1) $0.150 = 0.15$ ()

(2) قيمة الرقم 6 في العدد 0.65 هي 0.06 ()

(3) $14.11 < 14.23$ ()

صل من العمود (أ) ما يناسبه من العمود (ب)

م	(أ)	(ب)
1	القيمة المكانية للرقم 4 في العدد 0.04	()
2	$100 \times 65 =$	جزء من مائة
3	الرقم الموجود في خانة جزء من عشرة 0.45	()

أكمل ما يأتي:

(1) اكتب بالأرقام: ثلاثة أجزاء من مائة

(2) $5.2 \times 100 =$

(3) $2.79 \approx$ (لأقرب عدد صحيح)

(4) $6.72 + 1.24 =$

الوحدة الثانية المفهوم الأول (1) التعبيرات الرياضية والمعادلات والمتغيرات

- اشترت أسرة سامح 7 لترات من الماء، وشربت الأسرة كمية مجهولة (غير معروفة) من الماء، وكانت كمية الماء المتبقية هي 3 لتر.

المعادلة التي تمثل هذه المسألة هي

$$7 - X = 3 \quad (\text{معادلة رياضية بها مجهول})$$

الجملة الرياضية: جملة تحتوي على أعداد ورموز وعمليات رياضية.

$$9 = 3 + 6 \quad \text{أو} \quad 1 + 4 \quad (\text{جملة رياضية})$$

المتغير: حرف أو رمز يُستخدم للتعبير عن كمية مجهولة (غير معروفة)

$$3 + L = 8 \quad (\text{معادلة بها مجهول } L)$$

التعبيرات الرياضية: جملة رياضية لا تحتوي على علامة يساوي (=)

$$3.2 + 1.6$$

المعادلات الرياضية: جملة رياضية تحتوي على علامة يساوي (=)

$$1.2 - M = 3.5$$

علاقة تساوي ← متغير (مجهول)

حدد التعبير الرياضي والمعادلة فيما يأتي:

معادلة	تعبير رياضي	الجملة الرياضية
..... ✓	$3.2 + 1.6$
.....	$4.3 + 2.5 = 6.8$
.....	$1.2 - 0.6 = 0.6$
.....	$3 + 6$

حدد المتغير في كل معادلة رياضية

- (1) $3 + L = 8$ المتغير هو
- (2) $7 - 3 = X$ المتغير هو
- (3) $M + 2.5 = 6.8$ المتغير هو

التعبير عن المسائل الكلامية بمعادلة رياضية:

- مع سامح 25.75 جنيها، اشترى كرة ثمنها 12.25 جنيها.

عبر عن الموقف السابق بمعادلة رياضية.

$$25.75 - 12.25 = X \quad \text{المعادلة الأولى (معادلة الطرح):}$$

$$12.25 + X = 25.75 \quad \text{المعادلة الأولى (معادلة الجمع):}$$

عبر عن كل موقف مما يأتي بمعادلة:

(1) مع سامح 12.75 جنيها أعطاه والده 10.25 جنيها. ما مجموع ما معه.

(2) مع كريم 35.75 جنيها، صرف منها 12.25. أوجد الباقي.

(3) اشترت أسرة سامح 7.5 لترات من الماء، شربت منه 2.5 لترا. أوجد الباقي.

اختر الإجابة الصحيحة مما بين القوسين:

(1) مع كريم 6.75 جنيها، ومع أخيه 2.5 جنيهاً، فإن المعادلة التي تعبر عن الفرق بين ما معهما.

(أ) $6.75 - 2.5 = X$

(ب) $6.75 + 2.5 = X$

(ج) $6.75 - 2.5$

(د) $6.75 + 2.5$

(2) تريد بسمة كتابة معادلة تمثل إضافة عدد ما إلى 12.5 ليكون الناتج 15

(أ) $15 + X = 12.5$

(ب) $X + 12.5 = 15$

(ج) $15 + 12.5 = X$

(د) $12.5 + 15 = X$

الدرس (2) المتغيرات في المعادلات وإيجاد المجهول

اكتشف العدد الناقص (المجهول)

$$\dots\dots\dots + 5 = 8 \quad (2) \quad 9 - 4 = \dots\dots\dots \quad (1)$$

$$3.4 + 1.2 = X \quad (4) \quad 1 + X = 6 \quad (3)$$

$$X + 0.4 = 0.6 \quad (6) \quad X + 5 = 8 \quad (5)$$

إيجاد قيمة المجهول في المعادلات:

أوجد قيمة الرمز (X) في المعادلات:

$$3.2 + X = 4.6 \quad (1)$$

الطريقة الأولى: استخدام النموذج الشرطي

تذكر أن:
- في الجمع يكون العدد الأكبر هو ناتج الجمع (العدد الأخير).
- في الطرح يكون العدد الأكبر هو المطروح منه (العدد الأول)

4.6	
3.2	X

الكل (العدد الأكبر)	
الجزء	الجزء

$$X = 4.6 - 3.2 = 1.4$$

الطريقة الثانية: باستخدام العلاقة بين الجمع والطرح

$$3.2 + X = 4.6$$

$$X = 4.6 - 3.2 = 1.4$$

أوجد قيمة الرمز (X) في المعادلات:

$$X + 3.45 = 4.68 \quad (2)$$

الطريقة الأولى: النموذج الشرطي

.....	
.....

$$X = \dots\dots\dots - \dots\dots\dots = \dots\dots\dots$$

حل مسألة: $2 + X = 8$

$$8 - 2 = 6 \quad \text{نطرح:}$$

حل مسألة: $X + 4 = 9$

$$9 - 4 = 5 \quad \text{نطرح:}$$

حل مسألة: $7 - X = 4$

$$7 - 4 = 3 \quad \text{نطرح:}$$

حل مسألة: $X - 2 = 5$

$$5 + 2 = 7 \quad \text{نجمع:}$$

الطريقة الثانية: العلاقة بين الجمع والطرح

$$X + 3.45 = 4.68$$

$$X = \dots\dots\dots - \dots\dots\dots = \dots\dots\dots$$

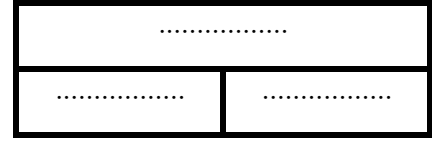
$$T - 2.45 = 0.26 \quad (3)$$

الطريقة الثانية: العلاقة بين الجمع والطرح

$$T - 2.45 = 0.26$$

$$T = \dots + \dots = \dots$$

الطريقة الأولى: النموذج الشرطي



$$T = \dots + \dots = \dots$$

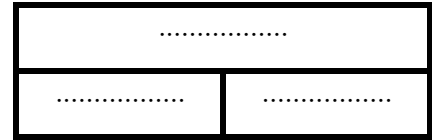
$$8.23 + P = 10.24 \quad (4)$$

الطريقة الثانية: العلاقة بين الجمع والطرح

$$8.23 + P = 10.24$$

$$P = \dots - \dots = \dots$$

الطريقة الأولى: النموذج الشرطي



$$P = \dots - \dots = \dots$$

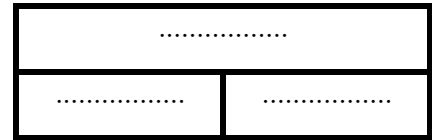
$$2.45 + R = 5.24 \quad (5)$$

الطريقة الثانية: العلاقة بين الجمع والطرح

$$2.45 + R = 5.24$$

$$R = \dots - \dots = \dots$$

الطريقة الأولى: النموذج الشرطي



$$R = \dots - \dots = \dots$$

(6) أوجد قيمة الرمز المجهول (X) في المعادلة:

$$5.12 + 2.11 + X = 9.23$$

..... -

..... -

$$2.30 + 3.10 = 1.30 + X \quad (7)$$

..... -

..... -

الدرس (3) كتابة مسألة كلامية

(1) اكتب مسألة كلامية تعبر عن المعادلة الآتية:

$$5 + X = 9 \quad \text{المعادلة:}$$

- نحدد أي موضوع للمسألة (جنيهات - كتلة - شراء أي قصة)
- نحدد ما يمثله الرقم 9
- نحدد ما يمثله الرقم 5
- نحدد ما يرمز له الرمز (X)
- نكتب المسألة الكلامية.

مثال:

مع سامح وأخيه باسم 9 جنيهات، فإذا كان ما مع سامح 5 جنيهات، فكم يكون ما مع باسم؟

(3) اكتب مسألة كلامية تعبر عن المعادلة الآتية:

$$12.75 - X = 5.25 \quad \text{المعادلة:}$$

(4) اكتب مسألة كلامية تعبر عن المعادلة الآتية:

$$3.5 + X = 10 \quad \text{المعادلة:}$$

اختر الإجابة الصحيحة مما بين القوسين:(1) لإيجاد قيمة W في المعادلة $10 - W = 6.7$ نقوم بعملية

(أ) طرح (ب) جمع

(ج) ضرب (د) قسمة

(2) المتغير في المعادلة $S - 3.4 = 5.7$

(أ) 5.7 (ب) =

(ج) 3.4 (د) S

(3) $h - 6.72 = 1.23$ فإن قيمة h =

(أ) 5.49 (ب) 7.95

(ج) 0.6 (د) 5.23

ضع علامة (✓) أمام العبارة الصحيحة وعبارة (X) أمام العبارة الخاطئة:(1) لإيجاد قيمة R في المعادلة $2.1 + R = 4.6$ نجمع 2.1 و 4.6 ()(2) قيمة X في المعادلة $3.2 + X = 4.6$ تساوي 1.4 ()(3) المتغير في المعادلة $8.23 + P = 10.24$ هو P ()صل من العمود (أ) ما يناسبه من العمود (ب)

م	(أ)	(ب)
1	$8.23 + P = 10.24$	() تعبير رياضي
2	أنا أحب مادة الرياضيات	() معادلة
3	$4.345 + 2.245$	() ليست معادلة ولا تعبير رياضي

أكمل ما يأتي:(1) المتغير في المعادلة $8.23 + P = 10.24$ هو(2) قيمة X في المعادلة $X + 3.45 = 4.68$ هي

(3) جملة رياضية تحتوي على علامة يساوي (=)

(4) إذا كان $45 \div m = 9$ فإن قيمة m =

اختر الإجابة الصحيحة مما بين القوسين:

(1) المتغير في المعادلة $x + 11 = 21.3$ هو

(أ) 21.3 (ب) x

(ج) 11 (د) +

(2) قيمة المتغير x في المعادلة $x + 5 = 6.4$ هو

(أ) 1.4 (ب) 11.4

(ج) 5 (د) 6.2

(3) قيمة المتغير m في المعادلة $m + 3.5 = 8$ هي

(أ) 3.5 (ب) 5.4

(ج) 4.5 (د) 65.5

ضع علامة (✓) أمام العبارة الصحيحة وعبارة (X) أمام العبارة الخاطئة:

(1) قيمة المتغير x في المعادلة $x + 0.2 = 5.2$ هو 5 ()

(2) المتغير x في المعادلة $5.6 - x = 2.5$ هو الفرق بين 6.2 - 3.1 ()

صل من العمود (أ) ما يناسبه من العمود (ب)

م	(أ)	(ب)
1	المتغير b في المعادلة $b - 3.2 = 5$	3.1 ()
2	قيمة الرقم 4 في العدد 7.143	8.2 ()
3	$9.6 - 6.5$	0.04 ()

أكمل ما يأتي:

(1) القيمة المكانية للرقم 6 في العدد 0.265 هي

(2) سبعة وثلاثون جزءًا من مائة بالصيغة القياسية =

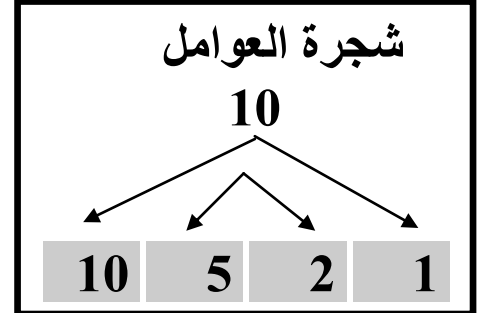
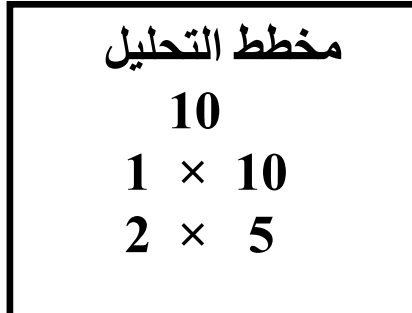
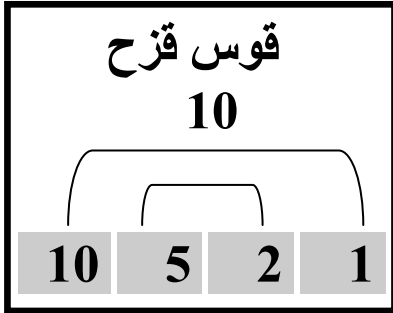
(3) العدد 35.68 \approx لأقرب عدد صحيح.

(4) العدد 35.67 \approx لأقرب جزء من عشرة.

الوحدة الثانية المفهوم الثانية الدرس (4) العوامل وتحليل العدد

عوامل العدد: الأعداد التي يمكن ضربها لتكون العدد. مثل: (2 ، 5) من عوامل العدد 10

طرق إيجاد عوامل العدد: أوجد عوامل العدد 10



عوامل العدد (الواحد هو العامل المشترك لجميع الأعداد)

أوجد عوامل العدد 8

$$1 \times 8 = 8$$

$$2 \times 4 = 8$$

عوامل العدد 8 = (8 ، 4 ، 2 ، 1)

أوجد عوامل العدد 6

$$1 \times 6 = 6$$

$$2 \times 3 = 6$$

عوامل العدد 6 = (6 ، 3 ، 2 ، 1)

أوجد عوامل العدد 12

$$1 \times 12 = 12$$

$$2 \times 6 = 12$$

$$3 \times 4 = 12$$

عوامل العدد 12 = (12 ، 6 ، 4 ، 3 ، 2 ، 1)

أوجد عوامل العدد 10

$$1 \times 10 = 10$$

$$2 \times 5 = 10$$

عوامل العدد 10 = (10 ، 5 ، 2 ، 1)

أوجد عوامل العدد 18

$$1 \times 18 = 18$$

$$2 \times 9 = 18$$

$$3 \times 6 = 18$$

عوامل العدد 18 = (18 ، 9 ، 6 ، 3 ، 2 ، 1)

أوجد عوامل العدد 15

$$1 \times 15 = 15$$

$$3 \times 5 = 15$$

عوامل العدد 15 = (15 ، 5 ، 3 ، 1) =

ضع دائرة حول عوامل كل عدد :

10 (5) 2 = 15 ①

10 5 2 = 12 ②

10 5 2 = 30 ③

10 5 2 = 24 ④

10 5 2 = 25 ⑤

أوجد عوامل العدد 6

..... × = 6

..... × = 6

عوامل العدد 6 =,,,

أوجد عوامل العدد 9

..... × = 9

..... × = 9

عوامل العدد 9 =,,

أوجد عوامل العدد 12

..... × = 12

..... × = 12

..... × = 12

عوامل العدد 12 =,,,,

أوجد عوامل العدد 10

..... × = 10

..... × = 10

عوامل العدد 10 =,,

أوجد عوامل العدد 20

..... × = 20

..... × = 20

..... × = 20

عوامل العدد 20 =,,,

.....,,,,

أوجد عوامل العدد 15

..... × = 15

..... × = 15

عوامل العدد 15 =,,

.....,,,

الأعداد الأولية

أي عدد له عاملان فقط يعتبر عدداً أولياً . وكلها أعداد فردية ماعدا 2
(عدد لا يقبل القسمة غير ÷ نفسه ، و ÷ 1 فقط)

الأعداد الأولية الأقل من 100

2	3	5	7	11
13	17	19	23	29
31	37	41	43	47
53	59	61	67	71
73	79	83	89	97

- ملحوظة - كل الأعداد الأولية أعداد فردية ماعدا 2 عدد زوجي .
- الواحد الصحيح ليس عدداً أولياً لأن عوامله واحد فقط .
- الواحد الصحيح هو العامل المشترك لجميع الأعداد الأولية .

أوجد عوامل كل عدد ثم حدد هل هو عدد أولي أم غير أولي:

① العدد 21 = ×

..... × =

عوامل العدد 21 = ، ، ، (له عوامل)

إذا العدد 21 عدد

② العدد 7 = ×

عوامل العدد 7 = ، (له عامل)

إذا العدد 7 عدد

③ العدد 13 = ×

عوامل العدد 13 = ، (له عامل)

إذا العدد 13 عدد

أوجد عوامل العدد 10

$$\dots \times \dots = 10$$

$$\dots \times \dots = 10$$

عوامل العدد 10

$$\dots, \dots, \dots, \dots =$$

أوجد عوامل العدد 18

$$\dots \times \dots = 18$$

$$\dots \times \dots = 18$$

$$\dots \times \dots = 18$$

$$\dots, \dots, \dots, \dots, \dots, \dots = 18$$

أوجد عوامل العدد 12

$$\dots \times \dots = 12$$

$$\dots \times \dots = 12$$

$$\dots \times \dots = 12$$

عوامل العدد 12

$$\dots, \dots, \dots, \dots, \dots, \dots = \dots, \dots, \dots, \dots, \dots, \dots =$$

أوجد عوامل العدد 20

$$\dots \times \dots = 20$$

$$\dots \times \dots = 20$$

$$\dots \times \dots = 20$$

عوامل العدد 20

أوجد عوامل كل عدد ثم حدد هل هو عدد أولي أم غير أولي:

① العدد 15 $\dots \times \dots =$

$$\dots \times \dots =$$

عوامل العدد 15 = $\dots, \dots, \dots, \dots$ (له عوامل)

إذا العدد 15 عدد

② العدد 11 $\dots \times \dots =$

عوامل العدد 11 = \dots, \dots (له عامل)

إذا العدد 11 عدد

③ العدد 19 $\dots \times \dots =$

عوامل العدد 19 = \dots, \dots (له عامل)

إذا العدد 19 عدد

اختر الإجابة الصحيحة مما بين القوسين :

- 1- كل الأعداد الأولية فردية ما عدا (2 ، 4 ، 6 ، 8)
- 2- العدد الذي له عامل واحد فقط هو (1 ، 2 ، 3 ، 4)
- 3- العدد الأولي هو العدد الذي له عامل. (1 ، 2 ، 3 ، 4)
- 4- الأعداد الاتية أولية ما عدا (7 ، 11 ، 24 ، 31)
- 5- من الأعداد الأولية المحصورة بين 10 و 20 (15 ، 18 ، 19)
- 6- عدد عوامل العدد الأولي (واحد - اثنان - ثلاثة - أربعة)
- 7- العامل المشترك لجميع الأعداد هو (صفر ، 1 ، 2 ، 3)
- 8- العدد 15 له عوامل. (3 ، 4 ، 5 ، 6)
- 9- من عوامل العدد 12 : (2 ، 3 ، 4 ، جميع ما سبق)
- 10- أي مما يأتي عدد أولي (7 ، 15 ، 24 ، 12)

أكمل :

- 1- العامل المشترك لجميع الأعداد هو
- 2- كل الأعداد الأولية أعداد فردية ما عدا
- 3- أصغر عدد أولي هو
- 4- عوامل العدد 7 هي ،
- 5- العدد الذي له عاملان فقط يسمى العدد
- 6- جملة رياضية تحتوي على علامة يساوي (=)

السؤال الأول: ضع خطاً تحت الإجابة الصحيحة مما بين القوسين

(1) أي من الأعداد الآتية عدد أولي

(أ) 1 (ب) 50

(ج) 14 (د) 11

(2) كل الأعداد الأولية فردية ما عدا

(أ) 1 (ب) 2

(ج) 4 (د) 10

السؤال الثاني: ضع علامة (✓) أو علامة (×)

(1) العامل المشترك لجميع الأعداد هو 1 ()

(2) الأعداد الأولية لها عاملان فقط. ()

السؤال الثالث: صل من (أ) ما يناسبه من (ب)

(ب)	(أ)
2 ()	1- أصغر عدد أولي فردي هو
3 ()	2- عامل من عوامل العدد 20
10 ()	3- العددان 3 ، 4 من عوامل العدد
12 ()	4- أصغر عدد أولي زوجي هو

اكتب جميع عوامل العدد 24 ثم حدد هل العدد (24) أولي أم غير أولي

.....

.....

.....

.....

.....

.....

اختر الإجابة الصحيحة مما بين القوسين:

(1) كل الأعداد الآتية ليست أعداد أولية ما عدا

- (أ) 15 (ب) 1
(ج) 7 (د) 12

(2) العامل المشترك لجميع الأعداد هو

- (أ) 0 (ب) 2
(ج) 1 (د) 3

ضع علامة (✓) أمام العبارة الصحيحة وعبارة (X) أمام العبارة الخاطئة:

- (1) الرقم 5 من عوامل العدد 12 ()
(2) أي عدد له عاملان فقط يُسمى عدد أولي. ()
(3) الصفر هو العامل المشترك لجميع الأعداد. ()

صل من العمود (أ) ما يناسبه من العمود (ب)

م	(أ)	(ب)
1	العامل المشترك لجميع الأعداد	3 ()
2	أصغر عدد أولي	1 ()
3	أصغر عدد أولي فردي	2 ()

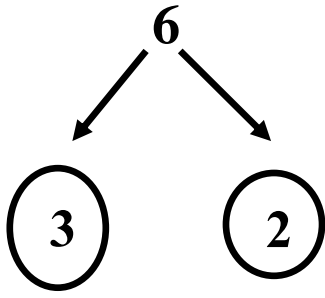
أكمل ما يأتي:

- (1) عوامل العدد 15 هي ، ، ، ،
(2) العدد هو العامل المشترك لجميع الأعداد.
(3) عوامل العدد 12 هي ، ، ،

تحليل العدد إلى عوامله الأولية: (باستخدام شجرة العوامل)

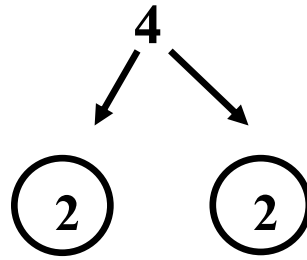
الأعداد الأخير في التحليل لازم تكون أعداد أولية (2 ، 3 ، 5 ، 7 ، 11 ...)

حلل العدد 6



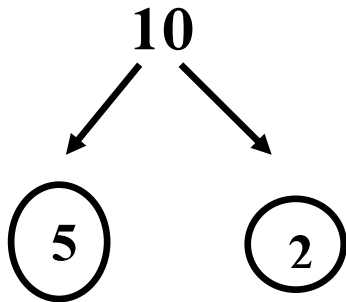
$$6 = 3 \times 2$$

حلل العدد 4



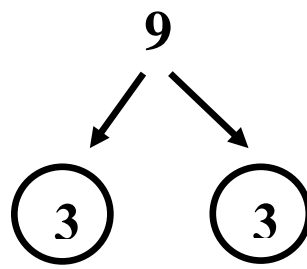
$$4 = 2 \times 2$$

حلل العدد 10



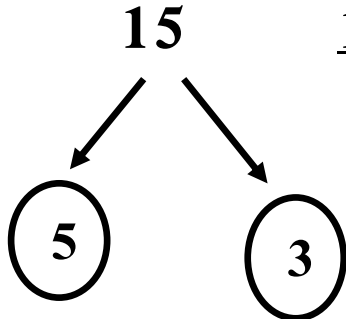
$$10 = 5 \times 2$$

حلل العدد 9



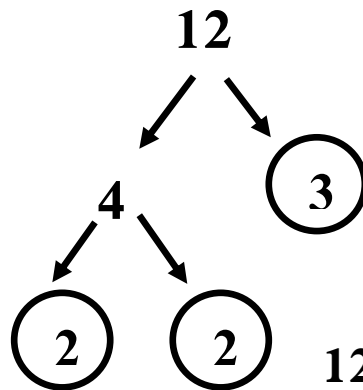
$$9 = 3 \times 3$$

حلل العدد 15



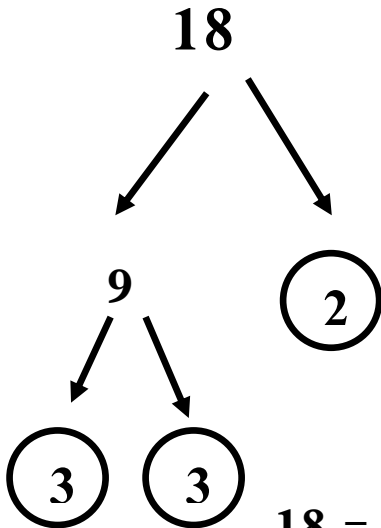
$$15 = 5 \times 3$$

حلل العدد 12



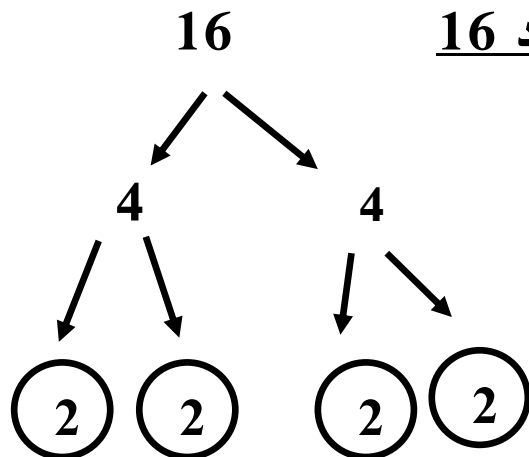
$$12 = 2 \times 2 \times 3$$

حلل العدد 18



$$18 = 3 \times 3 \times 2$$

حلل العدد 16

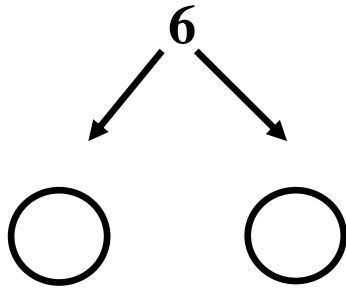


$$16 = 2 \times 2 \times 2 \times 2$$

تحليل العدد إلى عوامله الأولية

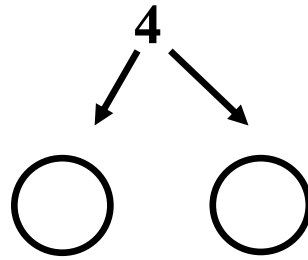
الأعداد الأخير في التحليل لازم تكون أعداد أولية (2 ، 3 ، 5 ، 7 ، 11 ..)

حلل العدد 6



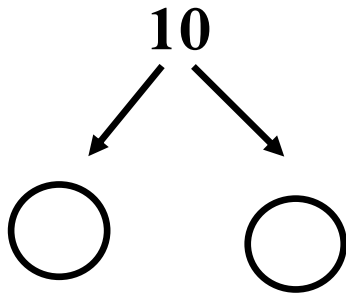
$6 = \dots \times \dots$

حلل العدد 4



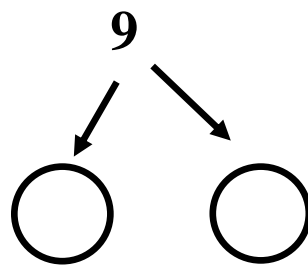
$4 = \dots \times \dots$

حلل العدد 10



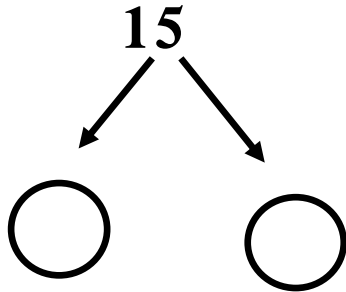
$10 = \dots \times \dots$

حلل العدد 9



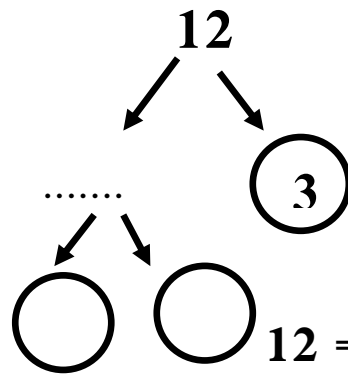
$9 = \dots \times \dots$

حلل العدد 15



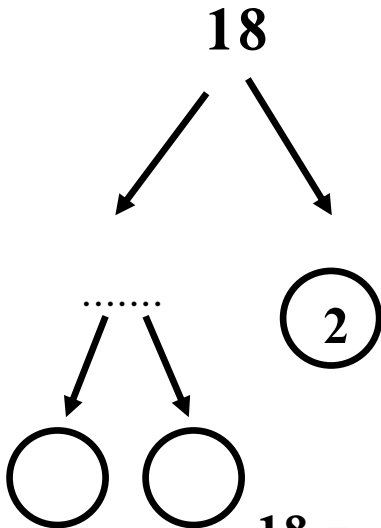
$15 = \dots \times \dots$

حلل العدد 12



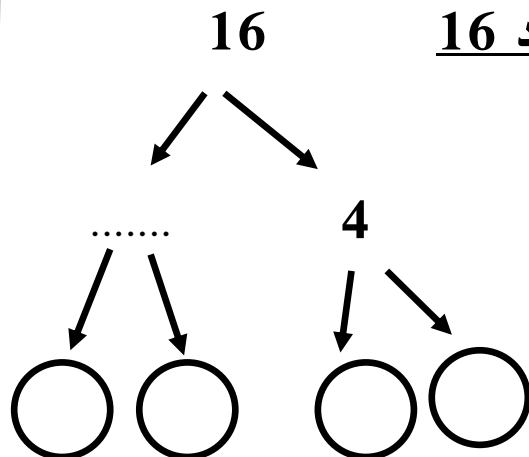
$12 = \dots \times \dots \times \dots$

حلل العدد 18



$18 = \dots \times \dots \times \dots$

حلل العدد 16

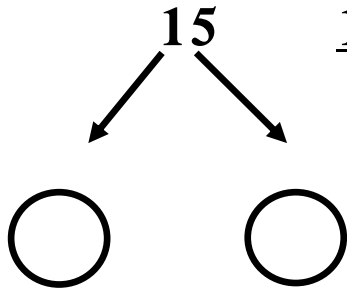


$16 = \dots \times \dots \times \dots \times \dots$

تحليل العدد إلى عوامله الأولية

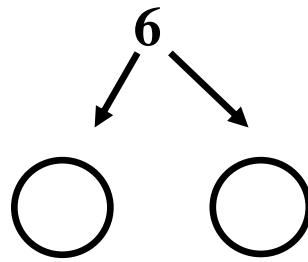
الأعداد الأخير في التحليل لازم تكون أعداد أولية (2 ، 3 ، 5 ، 7 ، 11 ...)

حلل العدد 15



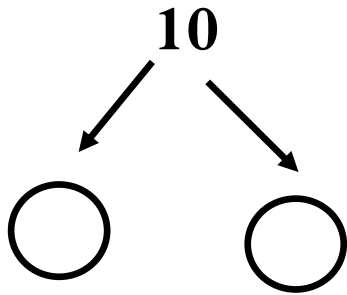
$$15 = \dots \times \dots$$

حلل العدد 6



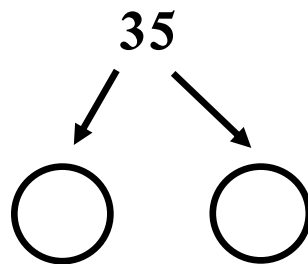
$$6 = \dots \times \dots$$

حلل العدد 10



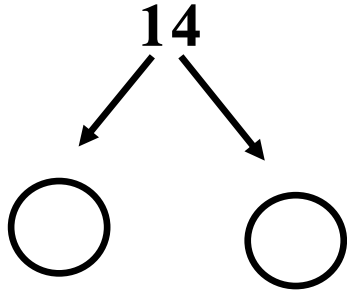
$$10 = \dots \times \dots$$

حلل العدد 35



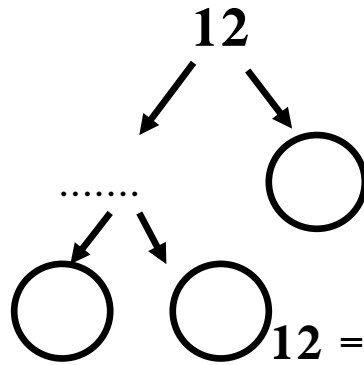
$$35 = \dots \times \dots$$

حلل العدد 14



$$14 = \dots \times \dots$$

حلل العدد 12



$$12 = \dots \times \dots \times \dots$$

العوامل الأولية للعدد

أكمل ما يأتي:

- (1) العدد الذي عوامله الأولية (2 ، 2 ، 3) هو
- (2) العدد الذي عوامله الأولية (2 ، 2 ، 5) هو
- (3) العدد الذي عوامله الأولية (2 ، 3 ، 3) هو
- (4) العدد الذي عوامله الأولية (2 ، 2 ، 2) هو

الدرس (5) : العامل المشترك الأكبر (ع . م . أ)

$30 \times 1 = 30 =$ عوامل العدد

$20 \times 1 = 20 =$ عوامل العدد

$15 \times 2 =$

$10 \times 2 =$

$10 \times 3 =$

$5 \times 4 =$

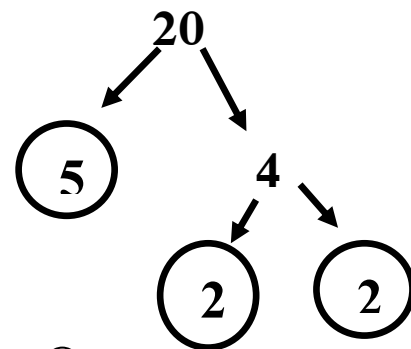
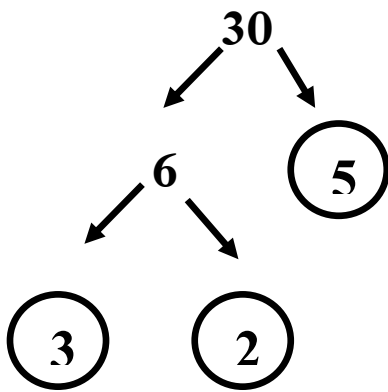
$6 \times 5 =$

عوامل العدد 20 = 1, 2, 4, 5, 10, 20

عوامل العدد 30 = 1, 2, 3, 5, 6, 10, 15, 30

العامل المشترك الأكبر (ع . م . أ) للعددين 30 ، 20 هو 10

أوجد (ع . م . أ) للعددين (30 ، 20)



$20 =$

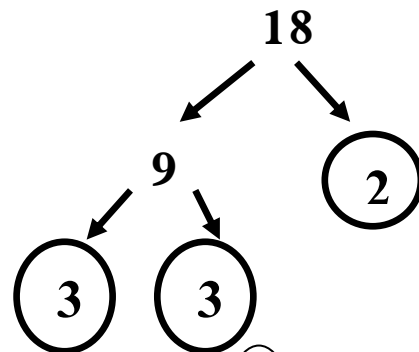
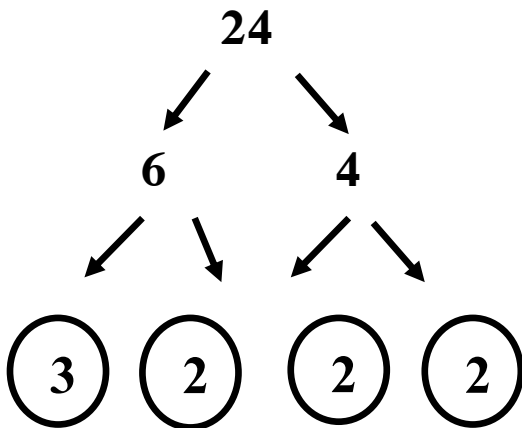
$2 \times 2 \times 5$

$30 =$

$2 \times 3 \times 5$

(ع . م . أ) = $2 \times 5 = 10$

أوجد (ع . م . أ) للعددين (24 ، 18)



$18 =$

$2 \times 3 \times 3$

$24 =$

$2 \times 3 \times 2 \times 2$

(ع . م . أ) = $2 \times 3 = 6$

أوجد (ع.م.أ) للعددين 15 ، 30

أوجد (ع.م.أ) للعددين 9 ، 12

أوجد (ع.م.أ) للعددين 8 ، 12

أوجد (ع.م.أ) للعددين 4 ، 8

أوجد (ع.م.أ) للعددين 20 ، 10

أوجد (ع.م.أ) للعددين 10 ، 15

اختر الإجابة الصحيحة مما بين القوسين:

(1) العددان (2 ، 3) عاملان للعدد

(أ) 10 (ب) 8

(ج) 6 (د) 9

(2) (ع.م.أ.) للعددين 6 ، 9 هو

(أ) 2 (ب) 3

(ج) 4 (د) 5

(3) العوامل الأولية للعدد 12 هي

(أ) 3 ، 2 ، 2 (ب) 3 ، 3 ، 2

(ج) 6 ، 2 (د) 4 ، 3

ضع علامة (✓) أمام العبارة الصحيحة وعبارة (X) أمام العبارة الخاطئة:

(1) الصفر هو العامل المشترك لجميع الأعداد. ()

(2) العامل المشترك للأعداد الأولية هو الواحد. ()

(3) العدد الذي عوامله الأولية (2 ، 5) هو الـ 12 ()

(4) العدد الأولي له عاملان فقط. ()

صل من العمود (أ) ما يناسبه من العمود (ب)

م	(أ)	(ب)
1	ع.م.أ. للعددين 5 ، 7	() 3
2	أصغر عدد أولي	() 2
3	أصغر عدد أولي فردي	() 1

أكمل ما يأتي:

(1) العامل المشترك لجميع الأعداد هو

(2) أصغر عدد أولي هو

اختر الإجابة الصحيحة مما بين القوسين:

- (1) العوامل الأولية للعدد 27 هي
- (أ) $2 \times 2 \times 5$ (ب) $3 \times 3 \times 3$
- (ج) $2 \times 2 \times 2$ (د) $2 \times 3 \times 2$

- (2) العامل المشترك لجميع الأعداد هو
- (أ) 0 (ب) 2
- (ج) 1 (د) 3

صل من العمود (أ) ما يناسبه من العمود (ب)

م	(أ)	(ب)
1	العدد الذي عوامله الأولية (3 ، 2 ، 2) هو ...	18 ()
2	العدد الذي عوامله الأولية (3 ، 3 ، 2) هو ...	20 ()
3	العدد الذي عوامله الأولية (5 ، 2 ، 2) هو ...	12 ()

أكمل ما يأتي:

- (1) العدد الذي عوامله الأولية (3 ، 2 ، 2) هو
- (2) العدد الذي عوامله الأولية (5 ، 2 ، 2) هو
- (3) العامل المشترك الأكبر للعددين 8 ، 12 هو

.....

.....

.....

.....

.....

.....

.....

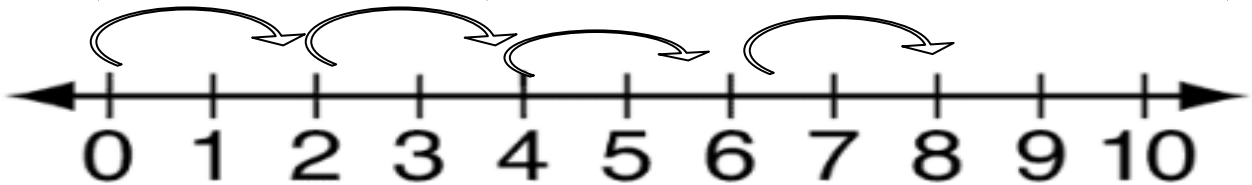
.....

(6) المضاعفات

- مضاعفات العدد 2 هي : 2 ، 4 ، 6 ، 8 ، ،
- مضاعفات العدد 3 هي : 3 ، 6 ، 9 ، 12 ، ،
- مضاعفات العدد 4 هي : 4 ، 8 ، 12 ، 16 ، ،
- مضاعفات العدد 5 هي : 5 ، 10 ، 15 ، 20 ، ،
- مضاعفات العدد 10 هي : 10 ، 20 ، 30 ، 40 ، ،

تحديد مضاعفات العدد:

(1) القفز على خط الأعداد بمقدار العدد (مضاعفات العدد 2)



(2) باستخدام نواتج حاصل ضرب العدد \times (1 ، 2 ، 3 ، 4 ، 5 ،)

$$2 \times 1 = \underline{2} \quad , \quad 2 \times 2 = \underline{4} \quad , \quad 2 \times 3 = \underline{6} \quad , \quad 2 \times 4 = \underline{8}$$

ملاحظة إذا ضربنا أي عدد $\times 3$ يكون الناتج من مضاعفات العدد 3

العدد 30 من مضاعفات العدد 3 لأن $3 \times 10 = 30$.

ضع خطأً تحت مضاعفات العدد 2 فيما يأتي

- 20 ، 2 ، 13 ، 4 ، 26 ، 5 ، 17

ضع خطأً تحت مضاعفات العدد 3 فيما يأتي

- 22 ، 12 ، 10 ، 3 ، 21 ، 15 ، 4

ضع خطأً تحت مضاعفات العدد 5 فيما يأتي

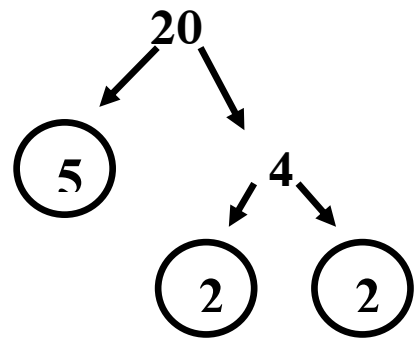
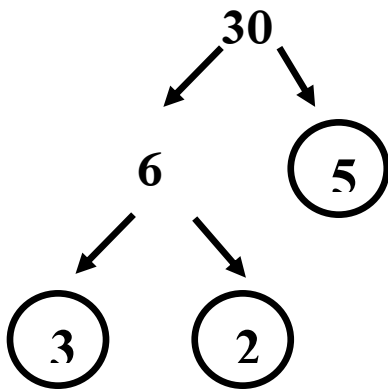
- 20 ، 8 ، 5 ، 51 ، 40 ، 15 ، 23

ملاحظة مضاعف أي عدد يقبل القسمة علي هذا العدد

مثل : 40 تقبل القسمة علي 10 فإن 40 من مضاعفات العدد 10

الدرس (7) المضاعف المشترك الأصغر (م . م . أ)

أوجد (م . م . أ) للعددين (20 ، 30)

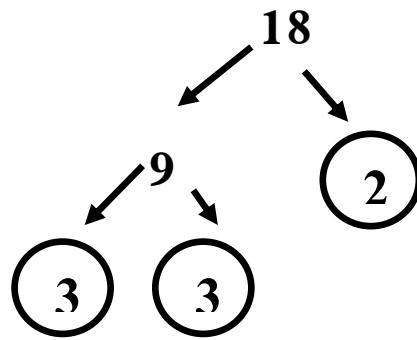
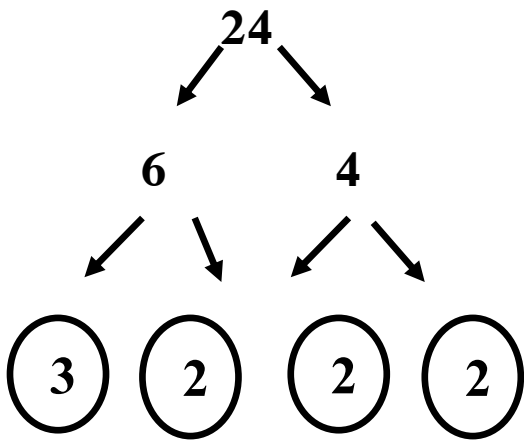


$$20 = 2 \times 2 \times 5$$

$$30 = 2 \times 3 \times 5$$

(م . م . أ) = $2 \times 2 \times 5 \times 3 = 60$

أوجد (م . م . أ) للعددين (24 ، 18)



$$18 = 2 \times 3 \times 3$$

$$24 = 2 \times 3 \times 2 \times 2$$

(م . م . أ) = $2 \times 3 \times 3 \times 2 \times 2 = 72$

أوجد (م . م . أ) للعددين 30 ، 15

.....

.....

.....

.....

.....

.....

أوجد (م . م . أ) للعددين 12 ، 6

أوجد (م . م . أ) للعددين 20 ، 30

أوجد (م . م . أ) للعددين 10 ، 15

السؤال الأول: ضع خطاً تحت الإجابة الصحيحة مما بين القوسين

(1) (م. م. أ.) للعددين 3 ، 5 هو

(أ) 10 (ب) 15

(ج) 21 (د) 18

(2) العدد 24 من مضاعفات العدد

(أ) 8 (ب) 7

(ج) 5 (د) 9

السؤال الثاني: أكمل ما يلي

(1) أصغر عدد أولي فردي هو

(2) من مضاعفات الرقم 5 ،

(3) العامل المشترك الأصغر لجميع الأعداد هو

السؤال الثالث: ضع علامة (✓) أو علامة (×)

(1) عوامل العدد 10 هي 1 ، 2 ، 5 ، 10 ()

(2) الأعداد (1 ، 2 ، 3 ، 5) جميعها أعداد أولية. ()

السؤال الرابع: صل

(1) من عوامل العدد 20 - 9 ()

(2) من مضاعفات العدد 11 - 10 ()

(3) مضاعف مشترك للعددين 3 ، 9 - 55 ()

السؤال الخامس: أوجد العامل المشترك الأكبر (ع. م. أ.) للعددين 30 ، 45

.....

.....

.....

.....

.....

.....

.....

.....

.....

.....

اختر الإجابة الصحيحة مما بين القوسين:

(1) م. م. م. أ. للعددين 5 ، 7 هو

(أ) 5 (ب) 35

(ج) 7 (د) 2

(2) م. م. م. أ. للعددين 5 ، 10 هو

(أ) 5 (ب) 10

(ج) 15 (د) 20

صل من العمود (أ) ما يناسبه من العمود (ب)

م	(أ)	(ب)
1	من مضاعفات العدد 2	25 ()
2	من مضاعفات العدد 3	10 ()
3	من مضاعفات العدد 5	6 ()

أكمل ما يأتي:

(1) أصغر عدد أولي هو

(2) العدد الذي عوامل الأولية (2 ، 2 ، 2 ، 3) هو

أوجد (م . م . م . أ) للعددين 12 ، 10

أوجد (م . م . أ) للعددين 12 ، 6

أوجد (م . م . أ) للعددين 20 ، 10

أوجد (م . م . أ) للعددين 20 ، 30

اختر الإجابة الصحيحة مما بين القوسين:

- (1) أصغر عدد أولي هو
- (أ) 1 (ب) 2 (ج) 3 (د) 5
- (2) العامل المشترك لجميع الأعداد هو
- (أ) 1 (ب) 2 (ج) 3 (د) 5
- (3) العددان 3 ، 5 من عوامل العدد
- (أ) 10 (ب) 12 (ج) 15 (د) 20
- (4) (ع. م. أ.) للعددين (4 ، 8)
- (أ) 2 (ب) 4 (ج) 5 (د) 8

ضع علامة (✓) أمام العبارة الصحيحة وعبارة (X) أمام العبارة الخاطئة:

- (1) العددان (2 ، 6) من عوامل العدد 18 ()
- (2) الأعداد (1 ، 2 ، 3 ، 5) جميعها أعداد أولية. ()
- (3) العدد 7 له عاملان فقط. ()

صل من العمود (أ) ما يناسبه من العمود (ب)

م	(أ)	(ب)
1	العامل المشترك لجميع الأعداد	2 ()
2	أصغر عدد أولي	6 ()
3	من مضاعفات العدد 3	1 ()

أكمل ما يأتي:

- (1) العدد الذي عوامله الأولية (2 ، 2 ، 3) هو
- (2) عوامل العدد 18 هي ، ، ، ،

الوحدة الثالثة الدرس (1) الضرب باستخدام نموذج المستطيل

أوجد حاصل ضرب (36×25) باستخدام نموذج المستطيل

×	30	6
20	600	120
5	150	30

+	600
+	150
+	120
+	<u>30</u>
	900

$$36 \times 25 = 900$$

- نحل كل عدد إلى صيغته الممتدة.

$$36 = 30 + 6$$

$$25 = 20 + 5$$

- نوجد مساحة كل مستطيل.

- نجمع كل نواتج المساحات.

- أوجد حاصل ضرب (46×35) باستخدام نموذج المستطيل

×
.....
.....

.....
+
.....
+
.....
+
<u>.....</u>
.....

$$..... \times =$$

- نحل كل عدد إلى صيغته الممتدة.

$$46 =$$

$$35 =$$

- نوجد مساحة كل مستطيل.

- نجمع كل نواتج المساحات.

(2) الضرب باستخدام خاصية التوزيع

أوجد حاصل ضرب (3×15) باستخدام خاصية التوزيع

$$3 \times \underline{15} = 3 \times (\underline{5 + 10})$$

$$(3 \times 5) + (3 \times 10) =$$

$$15 + 30 = 45$$

انظر إلى نموذج المستطيل وأوجد الناتج

$58 \times 42 = \dots\dots\dots$

×	50	8
40	2,000	320
2	100	16

$\dots\dots\dots + \dots\dots\dots + \dots\dots\dots + \dots\dots\dots = \dots\dots\dots$ الناتج:

استخدم النموذج وأوجد حاصل ضرب: $83 \times 14 = \dots\dots\dots$

×
.....
.....

$\dots\dots\dots + \dots\dots\dots + \dots\dots\dots + \dots\dots\dots = \dots\dots\dots$ الناتج:

السؤال الثاني: أكمل

$1,000 \times \dots\dots\dots = 7,000$ (1)

$7 \text{ كجم} = \dots\dots\dots \text{ جم}$ (2)

(3) النموذج المقابل يمثل حاصل ضرب

$\dots\dots\dots \times \dots\dots\dots$

	50	3
20	1,000	60
7	350	50

استخدم نموذج مساحة المستطيل في إيجاد الناتج:

$15 \times 12 = \dots\dots\dots - \dots\dots\dots$

×
.....
.....

$\dots\dots\dots + \dots\dots\dots + \dots\dots\dots + \dots\dots\dots = \dots\dots\dots$ الناتج:

المفهوم الثاني: الدرس (3) ضرب الأعداد متعددة الأرقام

الضرب باستخدام الخوارزمية المعيارية:

- طريقة للضرب تتميز بالسهولة والدقة.

$$\begin{array}{r}
 2 \\
 57 \\
 \times 23 \\
 \hline
 171 \\
 1,140 + \\
 \hline
 1,311
 \end{array}$$

أوجد الناتج:

$23 \times 57 = \dots\dots\dots$ ①

$26 \times 72 = \dots\dots\dots$ ②

$35 \times 46 = \dots\dots\dots$ ③

$44 \times 63 = \dots\dots\dots$ ④

(4) ضرب عدد مكون من أكثر من رقم باستراتيجيات متعددة

(1) نموذج مساحة المستطيل

أوجد حاصل ضرب: 236×25

×	200	30	6
20	4,000	600	120
5	1,000	150	30

النتيجة: $4,000 + 1,000 + 600 + 150 + 120 + 30 = 5,900$

(2) نموذج التجزئة:

أوجد حاصل ضرب: 236×25

	236
×	25
(5 × 200) =	1,000
(5 × 30) =	150
(5 × 6) =	30
(20 × 200) =	4,000
(20 × 30) =	600
(20 × 6) =	120
	5,900

(3) خوارزمية الضرب المعيارية:

أوجد حاصل ضرب: 236×25

236	
× 25	
1,180	$236 \times 25 =$
+ 4,720	
5,900	

أوجد الناتج :

(1) $9,315 \times 24 = \dots\dots\dots$

(2) $3,471 \times 63 = \dots\dots\dots$

(3) $2,516 \times 72 = \dots\dots\dots$

(5) مسائل كلامية على الضرب

(4) اشترى سعيد هاتفًا وقسط ثمنه على 12 شهرًا بحيث يدفع 275 جنيهاً كل شهر.
فما ثمن الهاتف.

ثمن الهاتف =

أوجد الناتج :

(1) سيارة تحمل 95 كجم من الفاكهة، فإن كتلة الشاحنة بالجم =

(2) إذا كان ثمن جهاز الكمبيوتر 5,525 جنيهاً. فما ثمن 25 جهازاً؟

الثمن =

(3) موظف راتبه الشهري 3,815 جنيهاً. احسب مرتبه في 16 شهراً.

مرتب 16 شهر =

(4) اشترت هند 14 متر من القماش، إذا كان ثمن المتر الواحد 27 جنيهاً.

فما ثمن القماش؟

ثمن القماش =

اختر الإجابة الصحيحة مما بين القوسين:

.....
×
.....
.....
+
.....
.....

$25 \times \dots = 2500$ (1)

(أ) 10 (ب) 100

(ج) 1,000 (د) 10,000

$21 \times 30 = \dots$ (2)

(أ) 630 (ب) 51

(ج) 360 (د) 63

$14 \times 11 = \dots$ (3)

(أ) 145 (ب) 150

(ج) 154 (د) 140

.....
×
.....
.....
+
.....
.....

(4) يعمل وائل في محل للبقلوة، ويستخدم 170 جم من المكسرات، فإذا زاد عدد العملاء واحتاج لضرب مقادير الوصفة في 18، ما عدد الجرامات التي يحتاجها.

(أ) 3,060 (ب) 6.030

(ج) 188 (د) 170

اقرأ، ثم أجب:

.....
×
.....
.....
+
.....
.....

(1) مدرسة بها 23 فصلا، في كل فصل 60 طالبًا

ما العدد الكلي لطلاب المدرسة؟

.....-

.....
×
.....
.....
+
.....
.....

(2) ينفق باسم 235 جنيها في الأسبوع.

ما المبلغ الذي ينفقه في 10 أسبوعًا؟

.....-

اختر الإجابة الصحيحة مما بين القوسين:

×	30	6
20	600	120
5	150	30

(1) في نموذج المستطيل يكون ناتج الضرب

(أ) 600 (ب) 900

(ج) 700 (د) 500

(2) اشترت تاجر 625 قلمًا سعر القلم 4 جنيهات، ما يدفعه =

(أ) 1,500 (ب) 2,500

(ج) 6,500 (د) 3,200

ضع علامة < أو = أو >

(1) $10 \div 675$ 10×675

(2) 7 أجزاء من عشرة 70 أجزاء من مائة

(3) العامل المشترك للأعداد أصغر عدد أولي

أكمل ما يأتي:

(1) $375 \times 23 = \dots\dots\dots$

أجب عما يأتي:

(1) مدرسة بها 17 فصلًا، بكل فصل 35 تلميذًا،

فما العدد الكلي لتلاميذ المدرسة؟

عدد التلاميذ:

فهم عملية القسمة

الوحدة الرابعة:

$$15 \div 5 = 3$$

خارج القسمة = المقسوم عليه ÷ المقسوم

(1) إذا كان عدد تلاميذ الفصل 45 تلميذاً وأراد معلم التربية الموسيقية تقسيمهم على 5 مجموعات بالتساوي. فكم يكون عدد كل مجموعة؟

$$45 \div 5 = 9 \quad \text{عدد كل مجموعة}$$

(2) قسم معلم التربية الرياضية 15 تلميذاً إلى 3 فريق للممارسة لعبة كرة القدم. فكم عدد أفراد كل فريق؟

طريقة المخطط الشريطي

15		
5	5	5

$$X = 5$$

طريقة معادلة القسمة

$$15 \div 3 = X$$

$$X = 5$$

(3) مع بسمة 23 تفاحة تريد توزيعها على 5 من أولاد بالتساوي. هل تستطيع تقسيمها؟ ما الباقي؟

نصيب كل ولد $4 = 23 \div 5$ ، والباقي $3 =$ تفاحات

أكمل الجدول:

م	المقسوم	المقسوم عليه	خارج القسمة	الباقي
①	16	3	5	1
②	27	5
③	13	3
④	34	4
⑤	43	5

الدرس (2) القسمة باستخدام نموذج مساحة المستطيل

الصيغة الممتدة

اقسم:

$$900 + 30 + 6 = 936$$

$$936 \div 3 = \dots\dots\dots \textcircled{1}$$

÷	300	10	2	
3	900	30	6	
	300	+	10	+
			2	=
				312

اقسم:

$$93$$

$$\underline{80}$$

$$13 -$$

$$\underline{12} -$$

$$01$$

(العدد 9 ليس من مضاعفات 4) $93 \div 4 = \dots\dots\dots \textcircled{3}$

$$\div \quad 20 \quad 3$$

4	80	12	
---	----	----	--

$$20 + 3 = 23 \quad \text{والباقى 1}$$

اقسم: $486 \div 2 = \dots\dots\dots \textcircled{4}$ (باستخدام نموذج مساحة المستطيل)

--	--	--

اقسم: $240 \div 6 = \dots\dots\dots \textcircled{4}$ (باستخدام نموذج مساحة المستطيل)

--	--	--

الدرس (3 - 4) القسمة باستخدام التجزئة

اقسم:

$$896 \div 4 = \dots\dots\dots -$$

① نبدأ القسمة من جهة اليسار ، نجد أن العدد 8 يقبل القسمة $\div 4$ (العدد 8 في خانة المئات)

$$\text{إذا } 800 \div 4 = 200$$

نطرح 896 من 800

نكرر نفس الخطوة السابقة مع العدد 96

② نبدأ القسمة من جهة اليسار ، نجد أن العدد

$$9 \text{ لا يقبل القسمة } \div 4$$

الأقل منه هو الرقم 8 يقبل القسمة $\div 4$

(الرقم 8 في خانة العشرات)

$$\text{إذا } 80 \div 4 = 20$$

نطرح 80 من 96

نكرر نفس الخطوة السابقة مع العدد 16

③ نبدأ القسمة من جهة اليسار ، نجد أن العدد

$$16 \text{ يقبل القسمة } \div 4$$

$$\text{إذا } 16 \div 4 = 4$$

نطرح 16 من 16

④ أخيرا نجمع النواتج

$$224 = 4 + 20 + 200$$

$$\begin{array}{r} 4 \overline{) 896} \quad 200 \\ - 800 \\ \hline 96 \end{array}$$

$$\begin{array}{r} 4 \overline{) 896} \quad 200 \\ - 800 \\ \hline 96 \quad 20 \\ - 80 \\ \hline 16 \end{array}$$

$$\begin{array}{r} 4 \overline{) 896} \quad 200 \\ - 800 \\ \hline 96 \quad 20 \\ - 80 \\ \hline 16 \quad 4 \\ - 16 \\ \hline 00 \end{array}$$

القسمة باستخدام التجزئة

اقسم باستخدام استراتيجية التجزئة:

$$565 \div 5 = \dots\dots\dots \textcircled{1}$$

$$645 \div 3 = \dots\dots\dots \textcircled{2}$$

$$75 \div 3 = \dots\dots\dots \textcircled{3}$$

Handwriting practice area with 25 horizontal dotted lines.

الدرس (2) تقدير خارج القسمة

قدر خارج القسمة لأقرب رقم جهة اليسار:

أوجد الناتج: $1,428 \div 14 = \dots\dots\dots$

(1) التقدير: $1,428 \div 14 = \dots\dots\dots$

$1,000 \div 10 = 100$

14	102	
	1,428	100
	1,400	
	28	
	28	2
	00	

(2) الناتج الفعلي:

- الناتج الفعلي = 102

- ناتج التقدير = 100 (التقدير مقبول؛ لأنه قريب من الناتج الفعلي)

قدر خارج القسمة لأقرب رقم جهة اليسار:

أوجد الناتج: $1,236 \div 12 = \dots\dots\dots$

(1) التقدير: $1,236 \div 12 = \dots\dots\dots$

$\dots\dots\dots \div \dots\dots\dots = \dots\dots\dots$

12	1,236	

	
	-	

(2) الناتج الفعلي:

- الناتج الفعلي =

- ناتج التقدير =

اختر الإجابة الصحيحة مما بين القوسين:

(1) $450 \div \dots = 5$

(أ) 60 (ب) 70

(ج) 80 (د) 90

(2) $36 \div 4 = \dots$

(أ) 7 (ب) 8

(ج) 9 (د) 10

(3) $850 \div 10 = \dots$

(أ) 58 (ب) 10

(ج) 85 (د) 5

(4) $60 \div \dots = 10$

(أ) 16 (ب) 6

(ج) 60 (د) 1

(5) إذا قسمنا 36 تفاحة على 3 أكياس فإن خارج القيمة يُمثل

(أ) إجمالي عدد التفاح (ب) عدد الأكياس

(ج) عدد التفاح في كل كيس (د) عدد التفاح المتبقي

أوجد خارج القسمة وأكمل المخطط الشريطي:

	12	
.....

(1) $12 \div 3 = \dots$

.....			
.....

(2) $24 \div 4 = \dots$

اقرأ، ثم أوجد الناتج:

(1) وزعت الأم 18 قطعة من الحلوي على 3 أطباق بالتساوي، كم قطعت وضعتها الأم في كل طبق؟

(3) اشترى كريم 6 لعب من نفس النوع بسعر 180 جنيهاً. كم ثمن اللعبة الواحدة؟

اختر الإجابة الصحيحة مما بين القوسين:

(1) (والباقي 4) $254 \div 5 = 50$ المقسوم في المسألة هو

- (أ) 4 (ب) 5
(ج) 50 (د) 254

(2) العدد الناقص المخطط الشريطي $12 \div 3 = 4$

.....		
4	4	4

- (أ) 3 (ب) 4
(ج) 12 (د) 36

ضع علامة (✓) أمام العبارة الصحيحة وعبارة (X) أمام العبارة الخاطئة:

- (1) قيمة المتغير X في المعادلة $X = 2 + 4.1$ هو 2.1 ()
(2) الواحد هو العامل المشترك لجميع الأعداد. ()

أكمل ما يأتي:

(1) $4,500 \div 100 =$

(2) عوامل العدد 21 هي ، ، ،

(3) $1,500 \div 15 =$

اقرأ، ثم أوجد الناتج:

(1) إذا كان ثمن 9 كتب هو 45 جنية، فإن ثمن الكتاب الواحد = جنية.

(1) وزعت أب 25 جنيها على 3 من أبنائه. كم يكون نصيب كل ابن؟ وكم الباقي؟

– نصيب الابن الواحد:

– الباقي:

الدرس (3) الخوارزمية المعيارية للقسمة

أوجد الناتج كما في المثال :

(1) لدي تاجر 1,320 كجم من الفاكهة وزعها على 3 سيارات . أوجد ما تحمله كل سيارة .

$$1,320 \div 3 = \dots\dots\dots$$

	3	1,320
3	1	
6	2	
9	3	
12	4	
15	5	
18	6	
21	7	
24	8	
27	9	

$$1,215 \div 5 = \dots\dots\dots (2)$$

	5	1,215
1		
2		
3		
4		
5		
6		
7		
8		
9		

(3) إذا وزع أب مبلغ 3,250 جنيهاً بالتساوي على

5 من أولاده. فإن نصيب كل ولد =

نصيب الولد =

الدرس (4) الخوارزمية المعيارية للقسمة

أوجد الناتج كما في المثال :

$$1,320 \div 3 = \dots\dots\dots (1)$$

	3	1,320
3	1	
6	2	
9	3	
12	4	
15	5	
18	6	
21	7	
24	8	
27	9	

$$1,215 \div 5 = \dots\dots\dots (2)$$

	5	1,215
1		
2		
3		
4		
5		
6		
7		
8		
9		

$$2,704 \div 4 = \dots\dots\dots (3)$$

أوجد الناتج كما في المثال :

$$5,715 \div 45 = \dots\dots\dots 127 \dots (1)$$

$$2,990 \div 13 = \dots\dots\dots (2)$$

$$6,540 \div 18 = \dots\dots\dots (3)$$

		127			
	45	5,715	45	-	
45	1			-	
90	2	121		-	
135	3	90		-	
180	4			-	
225	5	315		-	
270	6	315		-	
315	7			-	
360	8	000		-	
405	9			-	

		2,990			
	13			-	
1				-	
2				-	
3				-	
4				-	
5				-	
6				-	
7				-	
8				-	
9				-	

		6,540			
	18			-	
1				-	
2				-	
3				-	
4				-	
5				-	
6				-	
7				-	
8				-	
9				-	

أوجد الناتج كما في المثال :

		333
	21	7,010
21	1	63 -
42	2	71
63	3	63 -
180	4	
225	5	80
270	6	63 -
315	7	
360	8	17
405	9	

$$7,010 \div 21 = \dots\dots 000 \dots (1)$$

والباقي = 17

$$3,125 \div 25 = \dots\dots\dots (2)$$

	25	3,125
1		
2		
3		
4		
5		
6		
7		
8		
9		

(3) يقطع قارب مسافة 504 كم في 24 ساعة.

ما المسافة التي يقطعها القارب في الساعة؟

المسافة =

الدرس (5) مسائل كلامية متعددة الخطوات

(1) استخدم مصنع للنسيج 11,650 مترًا من أقمشة القطن، واستخدم من أقمشة الحرير أقل من القطن بمقدار 4,950 مترًا، واستخدم أقمشة من الصوف أقل من الحرير بمقدار 3,500 متر. ما إجمالي ما استخدمه المصنع من الأقمشة؟

- ما استخدمه المصنع من القطن:
- ما استخدمه المصنع من الحرير:
- ما استخدمه المصنع من الصوف:
- إجمالي ما استخدمه المصنع:

.....

.....

.....

.....

.....

.....

.....

.....

.....

(3) سيذهب مالك وعائلته لمنزل جدته الذي يبعد مسافة 465 كم، سيقطعون مسافة 124 كم يوم الجمعة، ومسافة 210 كم يوم السبت. كم كيلومترا سيقطعونها يوم الأحد للوصول لمنزل الجدة؟

- ما قطعتة الأسرة يوم الجمعة والسبت:
- ما تقطعه الأسرة يوم الأحد:

.....

.....

.....

.....

.....

.....

اختر الإجابة الصحيحة:

(1) $33 \div 3 = \dots\dots\dots$

(أ) 3 (ب) 11 (ج) 6 (د) 22

(2) باقي قسمة $150 \div 12$ هو

(أ) 2 (ب) 3 (ج) 4 (د) 5

(3) $120 \div 4 = \dots\dots\dots$

(أ) 3 (ب) 30 (ج) 50 (د) 11

(4) $120 \div 5 = \dots\dots\dots$

(أ) 20 (ب) 24 (ج) 40 (د) 42

(5) $300 \div 5 = \dots\dots\dots$

(أ) 6 (ب) 15 (ج) 12 (د) 60

(6) $23 \div 3 = 7$ ، والباقي =

(أ) 1 (ب) 2 (ج) 3 (د) 4

(7) تقدير ناتج قسمة $9,420 \div 31$

(أ) 3 (ب) 30 (ج) 300 (د) 3,000

(8) مع باسم 20 هدية يريد توزيعها بالتساوي على 4 من أصدقائه. فإن عدد

الهدايا التي سيحصل عليها كل صديق هو

(أ) 4 (ب) 2 (ج) 8 (د) 5

(9) $120 \div 8 = \dots\dots\dots$

(أ) 10 (ب) 5 (ج) 15 (د) 51

(10) $180 \div 3 = \dots\dots\dots$

(أ) 6 (ب) 60 (ج) 150 (د) 600

السؤال الأول: ضع خطاً تحت الإجابة الصحيحة مما بين القوسين

(1) إذا تم توزيع 37 برتقالة على 5 أطباق بالتساوي، فكم يتبقى من البرتقال؟

(أ) 5 (ب) 2

(ج) 7 (د) 0

(2) $6,524 \div 4 = \dots\dots\dots$

(أ) 1,631 (ب) 1,151

(ج) 1,361 (د) 1,631

السؤال الثاني: أكمل ما يلي(1) $7,000 \div 7 = \dots\dots\dots$ السؤال الثالث: ضع علامة (✓) أو علامة (×) :(1) لإيجاد خارج قسمة: $4,500 \div 5 = 900$ يمكن استخدام حقيقة القسمةالتالية $45 \div 5 = 9$ ()السؤال الرابع: صل

() 29	-1 $555 \div 5 = \dots\dots\dots$
() 101	-2 $224 \div 7 = \dots\dots\dots$
() 111	-3 $145 \div 5 = \dots\dots\dots$
() 32	-4 $505 \div 5 = \dots\dots\dots$

السؤال الخامس: أوجد

(1) إذا وضعنا 18 ثمرة برقوق في أكياس. وكان كل كيس يحتوي على 3 ثمرات.

فما عدد الأكياس؟

—

أجب عما يأتي:

(1) اشترت سارة 25 كتابًا بثمن 3,375 جنيهاً. أوجد
ثمن الكتاب الواحد إذا علمت أن الكتب من نفس النوع.
- ثمن الكتاب:

أجب عما يأتي:

(2) يرغب تاجر فاكهة في توزيع 5,420 كجم من الفاكهة
على 20 قفصاً بالتساوي. أوجد كتلة القفص الواحد.
- كتلة القفص:

أجب عما يأتي:


(1) إذا كان ثمن 11 علبة من الألوان هو 121 جنيهاً،
فما ثمن العلبة الواحدة؟
- حمولة السيارة:


الوحدة الخامسة مفهوم 1 الدرس (1) الضرب في قوى العدد 10

- عند ضرب أي عدد عشري في (10 أو 100 أو 1,000) تتحرك العلامة العشرية جهة اليمين. (تتحرك العلامة بعدد الأصفار الموجودة)

 $7.523 \times 10 = 75.23$ (1)

 $7.523 \times 100 = 752.3$ (2)


 $7.523 \times 1000 = 7,523$ (3)

 $7.5 \times 100 = 750$ (4)


- عند ضرب أي عدد عشري في (0.1 أو 0.01 أو 0.001)

تتحرك العلامة العشرية جهة اليسار

 $75.23 \times 0.1 = 7.523$ (1)

 $75.23 \times 0.01 = 0.7523$ (2)

 $75.23 \times 0.001 = 0.07523$ (3)

 $7.5 \times 0.001 = 0.0075$ (4)

أكمل ما يأتي:

$2.345 \times 100 = \dots\dots\dots$ (2) $65.34 \times 10 = \dots\dots\dots$ (1)

$56.4 \times 0.1 = \dots\dots\dots$ (4) $4.6 \times 100 = \dots\dots\dots$ (3)

$3.5 \times 0.01 = \dots\dots\dots$ (6) $34.3 \times 0.01 = \dots\dots\dots$ (5)

$3.5 \times 0.001 = \dots\dots\dots$ (8) $2.5 \times 1.000 = \dots\dots\dots$ (7)

$0.3 \times 10 = \dots\dots\dots$ (10) $5.65 \times 100 = \dots\dots\dots$ (9)

أوجد الناتج:

- إذا كان ثمن كشكول 3.75 جنيهاً. فما ثمن 100 كشكول من نفس النوع؟

الدرس (2) ضرب الأعداد العشرية في أعداد صحيحة

أوجد ناتج: $0.5 \times 3 = 1.5$

يمكن استخدام الجمع المتكرر: $0.5 + 0.5 + 0.5 = 1.5$

أوجد حاصل ضرب:

(1) $0.4 \times 2 = \dots\dots\dots$

(2) $0.3 \times 2 = \dots\dots\dots$

(3) $0.3 \times 7 = \dots\dots\dots$

عدد الأماكن العشرية في ناتج الضرب =
عدد الأماكن العشرية في الكسور العشرية.

ضرب الأعداد العشرية في عدد صحيح

(استخدم الطريقة الرأسية)

(1) $5.4 \times 2 = \dots\dots\dots$

(2) $2.45 \times 2 = \dots\dots\dots$

(3) $12.3 \times 7 = \dots\dots\dots$

(4) $12.35 \times 7 = \dots\dots\dots$

- استخدم حقائق عملية الضرب للوصول لناتج عملية الضرب:

مثال: $3 \times 5 = 15$ إذا $0.3 \times 5 = 1.5$

- فكر في معقولة الإجابة في أسئلة الاختيار من متعدد:

مثال: اختر: $2.3 \times 3 = \dots\dots\dots$ (0.69 ، 6.9 ، 69)

- 0.69 إجابة غير صحيحة؛ لأن العلامة العشرية بعد رقمين.

- 69 غير صحيحة؛ لأنه رقم كبير وحاصل ضرب الأعداد الصحيحة $6 = 2 \times 3$

أوجد الناتج:

- إذا كان ثمن القلم 2.75 جنيهاً. فما ثمن 5 أقلام من نفس النوع؟

- ثمن الأقلام: $\dots\dots\dots$

اضرب:

.....
.....
.....

الدرس (3) ضرب الأجزاء من عشرة في الأجزاء من عشرة

أوجد ناتج: $0.5 \times 0.3 = 0.15$

أوجد حاصل ضرب:

$0.4 \times 0.3 = \dots\dots\dots$ (1)

$0.3 \times 0.2 = \dots\dots\dots$ (2)

$0.3 \times 7 = \dots\dots\dots$ (3)

ضرب الأعداد العشرية في عدد صحيح

(استخدم الطريقة الرأسية)

$0.2 \times 0.6 = \dots\dots\dots$ (1)

$0.5 \times 0.4 = \dots\dots\dots$ (2)

$2.3 \times 0.7 = \dots\dots\dots$ (3)

$1.8 \times 0.6 = \dots\dots\dots$ (4)

- استخدم حقائق عملية الضرب للوصول لناتج عملية الضرب:

مثال: $3 \times 4 = 12$ إذا $0.3 \times 0.4 = 0.12$

- استخدام التقدير للتأكد من معقولية الإجابة:

أوجد ناتج الضرب: 12.3×1.8

$12.3 \times 1.8 = 22.14$ الناتج الفعلي:

$12 \times 2 = 24$ التقدير لأقرب عدد صحيح:

$12 \times 2 = 24$ استخدام أعداد له قيمة مميزة:

أوجد الناتج:

- إذا كان ثمن كيلو الطماطم 4.5 جنيهاً. فما ثمن 0.5 كجم ؟

- ثمن الكجم:

عدد الأماكن العشرية في ناتج الضرب =
عدد الأماكن العشرية في الكسور العشرية.

اضرب:
.....
.....
.....

اضرب:
.....
 0.2
 $\times 0.6$
.....
 0.12

اضرب:
.....
.....
.....

اضرب:
.....
.....
.....

اضرب:
 12.3
 $\times 1.8$
.....
 984
 1.230 +
.....
 22.14

اضرب:
.....
.....
.....

السؤال الأول: اختر الإجابة الصحيحة مما بين القوسين

$7 \times 100 = \dots\dots\dots$ (2)

700 (ب) 7 (أ)

7.000 (د) 70 (ج)

(2) تقدير ناتج ضرب 15.2×0.9 باستخدام أعداد لها قيمة مميزة هو

90 (ب) 15 (أ)

150 (د) 16 (ج)

(3) تقدير ناتج ضرب: 1.6×1.2

16 (ب) 4 (أ)

12 (د) 2 (ج)

$25.5 \times 0.1 = \dots\dots\dots$ (4)

2.55 (ب) 0.255 (أ)

25.5 (د) 255 (ج)

$7.5 \times 100 = \dots\dots\dots$ (5)

0.75 (ب) 75 (أ)

0.075 (د) 750 (ج)

$6.5 \times \dots\dots\dots = 6,500$ (6)

1,000 (ب) 10 (أ)

10,000 (د) 100 (ج)

$3.615 \times 100 \dots\dots\dots 361.5 \times 10$ (7)

> (ب) < (أ)

غير ذلك (د) = (ج)

$7.6 \times \dots\dots\dots = 0.076$ (8)

0.1 (ب) 1 (أ)

0.001 (د) 0.01 (ج)

السؤال الثاني: أكمل

$$43.5 \times 0.01 = \dots\dots\dots (1)$$

$$2.5 \times 100 = \dots\dots\dots (2)$$

$$0.2 \times 0.4 = \dots\dots\dots (3)$$

$$5.4 \times 0.1 = \dots\dots\dots (4)$$

$$2.8 \text{ كم} = \dots\dots\dots \text{متر} (54)$$

السؤال الثالث: اقر، ثم أجب

(1) يركض باسم 0.75 كم كل يوم. ما المسافة التي يركضها في 100 يوم؟

– المسافة:

(2) مستطيل طوله 10 سم، وعرضه 5.35 سم. فإن مساحته = سم²

أكمل ما يأتي:

$$25.78 \times 0.1 = \dots\dots\dots (1)$$

$$12.25 \times 10 = \dots\dots\dots (2)$$

اقرأ، ثم أجب:

(1) اشترى مازن 9 أقلام من نفس النوع، فإذا كان ثمن

القلم الواحد 5.5 جنيهاً. أوجد ثمن الأقلام.

– ثمن الأقلام:

اضرب:

.....
.....
.....

اضرب:

.....
.....
.....

(1) إذا كان ثمن لتر اللبن 12.5 جنيه، فما ثمن 10 لترات

من نفس النوع؟

– ثمن اللبن:

الدرس (4)

ضرب الكسور العشرية باستخدام نموذج المستطيل

أوجد حاصل ضرب (3.6×2.5) باستخدام نموذج المستطيل

×	3	0.6
2	6	1.2
0.3	0.9	0.18

+	6.00
+	0.90
+	1.20
+	<u>0.18</u>
	8.28

- نحل كل عدد إلى صيغته الممتدة.

$$3.6 = 3 + 0.6$$

$$2.3 = 2 + 0.3$$

- نوجد مساحة كل مستطيل.

- نجمع كل نواتج المساحات.

$$3.6 \times 2.3 = 8.28$$

- أوجد حاصل ضرب (4.6×3.5) باستخدام نموذج المستطيل

×
.....
.....

.....
+
.....
+
.....
+
<u>.....</u>
.....

- نحل كل عدد إلى صيغته الممتدة.

$$4.6 = \dots\dots\dots$$

$$3.5 = \dots\dots\dots$$

- نوجد مساحة كل مستطيل.

- نجمع كل نواتج المساحات.

الدرس (6-7)

ضرب الكسور العشرية حتى دزء من مائة وجزء من ألف

(نقوم بعملية الضرب بدون العلامات العشرية، ثم نضعها في ناتج الضرب)

أوجد الناتج

اضرب:

123

 $\times 18$

984

1.230

2214

$$12.3 \times 1.8 = 22.14 \quad (1)$$

اضرب:

$$2.13 \times 2.5 = \dots\dots\dots (2)$$

$$21.3 \times 2.5 = \dots\dots\dots (3)$$

اضرب:

$$5.231 \times 4.9 = \dots\dots\dots (4)$$

اضرب:

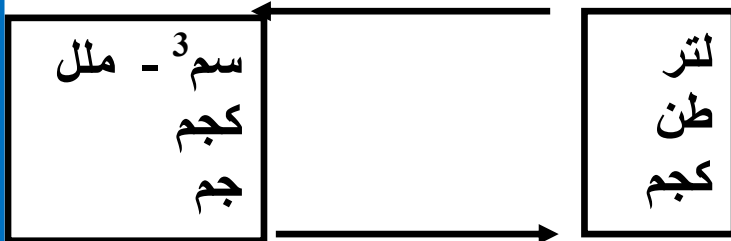
الدرس (7 - 8) الكسور العشرية والنظام المتري والقياس

السعة
ل = 1,000 ملل
ملل = 0.001 ل

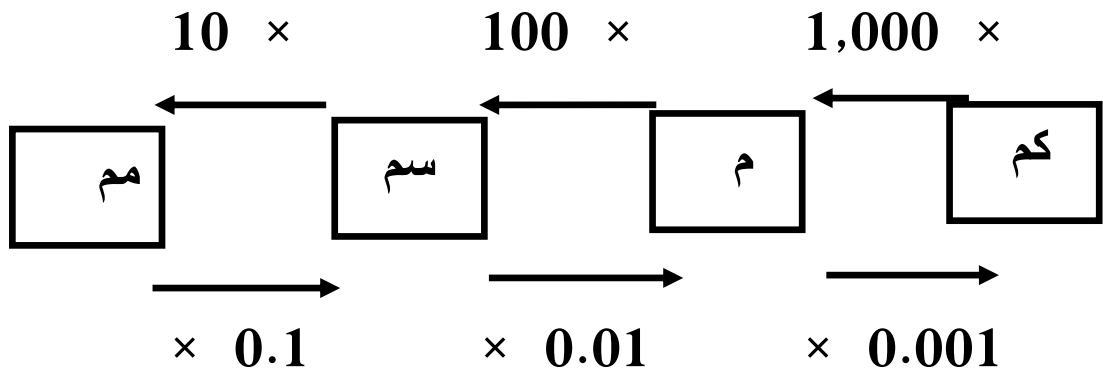
الكتلة
الطن = 1,000 كجم
كجم = 1,000 جم
كجم = 0.001 طن
جم = 0.001 كجم

الطول
كم = 1,000 م
م = 100 سم
سم = 10 مم
م = 0.001 كم
سم = 0.01 م
مم = 0.1 سم

$1,000 \times$



$\times 0,001$



اكتب القياس المتكافئ لكل مما يأتي:

- (1) 5.235 جم = كجم (2) 1.5 متر = سم
 (3) 3.25 لتر = ملل (4) 230 سم = م
 (4) 0.5 متر = سم (6) 4,800 ملل = لتر
 (7) 15.3 سم = مم (8) 5.5 كجم = جم
 (9) 95.3 متر = كم (10) 6,410 م = كم

الدرس (9) حل المسائل الكلامية متعددة الخطوات

(1) يقوم مروان بإصلاح كمبيوتر يتكون من ثلاث قطع كتلة كل منها 2 كجم، 600 جم، 0.03 كجم، ومنتظر مروان وصول القطعة الرابعة التي تبلغ 1,750 جم لإصلاحها. احسب كتلة الأربع قطع معا.

القطعة الأولى:

$$2 \times 1,000 = 2,000 \text{ جم}$$

القطعة الثانية:

$$600 \text{ جم}$$

القطعة الثالثة:

$$0.3 \times 1,000 = 300 \text{ جم}$$

القطعة الرابعة:

$$1,750 \text{ جم}$$

$$2,000 + 600 + 300 + 1,750 = 4,650 \text{ جم} \quad \text{طول الأربع قطع:}$$

(2) أعدت داليا لترا من عصير القصب، وشربت منه 320 مليلتر، وشرب والدها منه 0.25 لتر، ما مقدار اللترات المتبقي من عصير القصب؟

(3) إذا كان طول إيهاب 138.2 سم في يناير، وفي نهاية السنة أصبح طوله 1.5 متر، ما مقدار الزيادة في طول إيهاب؟

اختر الإجابة الصحيحة مما بين القوسين:

(1) 0.245 لتر = ملل

(أ) 2.45 (ب) 245

(ج) 24.5 (د) 0.543

(2) يشرب باسم 1.25 لتر من الماء صباحًا، و 600 ملل مساءً.

فإن كمية ما يشربه باسم من الماء = ملل

(أ) 2,850 (ب) 7,625

(ج) 1,850 (د) 1.85

(3) 9 لتر = ملل

(أ) 900 (ب) 0.009

(ج) 9,000 (د) 0.09

(4) عند ضرب أي عدد في 10 ما عدا الصفر فإن قيمة العدد

(أ) تزداد (ب) لا تتغير

(ج) تقل (د) تبقى كما هي

(5) 10.870 كجم = جم

(أ) 10870 (ب) 10.87

(ج) 108.7 (د) 1.087

(6) 22 سم = متر

(أ) 2,200 (ب) 220

(ج) 2.2 (د) 0.22

(7) تقدير ناتج ضرب 1.8×1.8 هو

(أ) 2 (ب) 4

(ج) 3 (د) 5

اختر الإجابة الصحيحة مما بين القوسين:

(1) القيمة المكانية للرقم 5 في العدد 1.253 هي

(أ) جزء من عشرة (ب) جزء من ألف

(ج) جزء من مائة (د) عشرات

(2) 7.25 كجم تساوي جرام

(أ) 725 (ب) 7,250

(ج) 0.750 (د) 750

ضع علامة (✓) أمام العبارة الصحيحة وعبارة (X) أمام العبارة الخاطئة:

(1) 0.9 لتر = 900 مل ()

(2) 5.34 كجم = 53.4 ()

(3) 0.5 متر = 50 سم ()

أكمل ما يأتي:

(1) $1.5 \times 3.2 = \dots\dots\dots$

اضرب:

.....

اضرب:

(2) $23.5 \times 1.2 = \dots\dots\dots$

.....

المفهوم الثاني الدرس (10 - 11) القسمة على قوى العدد 10

- عند قسمة أي عدد عشري في (10 أو 100 أو 1,000)
تتحرك العلامة العشرية جهة اليسار. (تتحرك العلامة بعدد الأصفار الموجودة)

$$\leftarrow 75.23 \div 10 = 7.523 \quad (1)$$

$$\leftarrow 752.3 \div 100 = 7.523 \quad (2)$$

$$\leftarrow 25.12 \div 100 = 0.2512 \quad (3)$$

$$\leftarrow 75.19 \div 1000 = 0.07519 \quad (4)$$

- عند قسمة أي عدد عشري في (0.1 أو 0.01 أو 0.001)

تتحرك العلامة العشرية جهة اليمين

$$\rightarrow 7.523 \div 0.1 = 75.23 \quad (1)$$

$$\rightarrow 0.7523 \div 0.01 = 75.23 \quad (2)$$

$$\rightarrow 0.07523 \div 0.001 = 75.23 \quad (3)$$

$$\rightarrow 0.0075 \div 0.001 = 7.5 \quad (4)$$

أكمل ما يأتي:

$$23.45 \div 100 = \dots\dots\dots (2) \quad 65.34 \div 10 = \dots\dots\dots (1)$$

$$56.4 \div 0.1 = \dots\dots\dots (4) \quad 4.6 \div 100 = \dots\dots\dots (3)$$

$$0.35 \div 0.01 = \dots\dots\dots (6) \quad 34.3 \div 0.01 = \dots\dots\dots (5)$$

$$31.7 \div 0.001 = \dots\dots\dots (8) \quad 25.5 \div 1.000 = \dots\dots\dots (7)$$

$$0.23 \div 10 = \dots\dots\dots (10) \quad 51.65 \div 100 = \dots\dots\dots (9)$$

أوجد الناتج:

- سلك طوله 5.2 مترًا، يُراد تقسيمه على 10 قطع أوجد طول كل قطعه؟

العلاقة بين الضرب والقسمة

تتحرك العلامة العشرية جهة اليمين

$$\text{الضرب} \times (10 - 100 - 1,000) = \text{القسمة} \div (0.1 - 0.01 - 0.001)$$

تتحرك العلامة العشرية جهة اليسار

$$\text{القسمة} \div (10 - 100 - 1,000) = \text{الضرب} \times (0.1 - 0.01 - 0.001)$$

أوجد خارج القسمة:

$$(1) \quad 2,500 \div 100 = \dots\dots\dots$$

$$(2) \quad 800 \div 100 = \dots\dots\dots$$

$$(3) \quad 2.16 \div 0.01 = \dots\dots\dots$$

$$(4) \quad 12.8 \div 0.01 = \dots\dots\dots$$

$$(5) \quad 0.4 \div 10 = \dots\dots\dots$$

$$(6) \quad 29.08 \div 0.1 = \dots\dots\dots$$

$$(7) \quad 0.4 \div 0.001 = \dots\dots\dots$$

$$(8) \quad 712 \text{ مل} = \dots\dots\dots \text{ لتر}$$

$$(9) \quad 23 \text{ م} = \dots\dots\dots \text{ سم}$$

$$(10) \quad 5,200 \text{ مم} = \dots\dots\dots \text{ سم}$$

فكر وأجب:

(1) يتم نفخ الزجاج، ويصبح طين الفخار صلباً عندما تصل درجة الحرارة 1,100 درجة مئوية، احسب درجة غليان الماء، علماً بأنها تغلي عندما تصل إلى جزء من عشرة من درجة الحرارة المذكورة.

$$\text{درجة حرارة الماء:} \quad 1,100 \div 0.1 = 110 \text{ درجة مئوية}$$

اختر الإجابة الصحيحة مما بين القوسين:

(1) 645 متر = كم

(أ) 6.45 (ب) 0.645

(ج) 64.5 (د) 0.0645

(2) تقدير خارج قسمة $3 \div 11.9$ هو

(أ) 2 (ب) 3

(ج) 4 (د) 5

(3) $0.09 \times 0.1 =$

(أ) 0.001 (ب) 0.009

(ج) 0.09 (د) 9.0

(4) 5 لترات = مثل

(أ) 50 (ب) 500

(ج) 5,000 (د) 50,000

صل من العمود (أ) ما يناسبه من العمود (ب)

م	(أ)	(ب)
1	1.2×2.5	0.3 ()
2	0.03×10	30 ()
3	6×5	3.00 ()

اقرأ، ثم أجب:

(1) تصنع هدى شرائط للشعر، لديها 5.6 أمتار من القماش، يحتاج كل شريط إلى 0.34 متر من القماش، ما عدد شرائط الشعر التي يمكن أن صنعها هدى؟

– المقسوم:

– المقسوم عليه:

– خارج القسمة:

اختر الإجابة الصحيحة مما بين القوسين:

12.8 ÷ 0.01 = (1)

128 (أ) 128 (ب)

0.128 (ج) 1,280 (د)

5,300 جم = كجم (2)

5.3 (أ) 53 (ب)

0.53 (ج) 3.5 (د)

ضع علامة (✓) أمام العبارة الصحيحة وعبارة (X) أمام العبارة الخاطئة:

(1) العدد الذي عوامله (3 × 2 × 7) هو العدد 21 ()

(2) 5.5 لتر = 5,500 ملل. ()

(3) عند قسمة العدد على 10 تتحرك العلامة العشرية جهة اليسار. ()

صل من العمود (أ) ما يناسبه من العمود (ب)

م	(أ)	(ب)
1	المتغير b في المعادلة 5 = b - 3.2	3.1 ()
2	قيمة الرقم 4 في العدد 7.143	3.7 ()
3	9.6 - 6.5	0.04 ()

أكمل ما يأتي:

9.18 ÷ 0.01 = (1)

0.53 ÷ 0.01 = (2)

8.8 ÷ 8 = (3)

الدرس (12) قسمة الأعداد العشرية على أعداد صحيحة

			3
		150	
40	1	120	-
80	2	30	
120	3		
160	4		
200	5		

(1) لدى رضا سلك من النحاس طوله 150 مترًا، ويريد تقطيعها (تقسيمها) إلى 40 قطعة متساوية الطول، فكم سيكون طول كل قطعة؟ وكم مترًا سيتبقى معه؟

- طول القطعة: أمتار $150 \div 40 = 3$

- الباقي = 30 متر

(نفس المسألة السابقة)

الحصول على خارج للقسمة

(1) لدى رضا سلك من النحاس طوله 150 مترًا، ويريد تقطيعها (تقسيمها) إلى 40 قطعة متساوية الطول، فكم سيكون طول كل قطعة؟

			3.75
		150	
40	1	120	-
80	2	300	
120	3	280	-
160	4	200	
200	5	200	-
240	6	000	
280	7		
320	8		
360	9		

- العدد (30) أصغر من (40)

(المقسوم أصغر من المقسوم عليه)

- نضع صفر يمين العدد (30)

ونضع علامة عشرية (.) يمين خارج القسمة

- وفي كل مرة يكون المقسوم أصغر من المقسوم عليه نضع له صفر حتى تنتهي المسألة.

- طريقة أخرى لإجابة المسألة $150 \div 40$

نقوم بقسمة $15 \div 4$

أوجد الناتج كما في المثال :

(1) $149.1 \div 7 = \dots\dots\dots$

- عند الوصول إلى العلامة العشرية
نضعها في خارج القسمة.

(2) $51.65 \div 5 = \dots\dots\dots$

(3) $62.24 \div 16 = \dots\dots\dots$

أوجد الناتج كما في المثال :

(13) قسمة كسور عشرية على كسور عشرية

$$1.52 \div 0.04 = \dots\dots\dots (1)$$

- المقسوم عليه يجب أن يكون عددا صحيحا
(بدون علامة عشرية)

نضرب المقسوم والمقسوم عليه $\times 100$

للتخلص من العلامة العشرية في المقسوم عليه

المسألة: $152 \div 4 = \dots\dots\dots$

$$24.5 \div 3.5 = \dots\dots\dots (2)$$

$$1.43 \div 0.05 = \dots\dots\dots (3)$$

1
2
3
4
5
6
7
8
9

1
2
3
4
5
6
7
8
9

1
2
3
4
5
6
7
8
9

اختر الإجابة الصحيحة مما بين القوسين:

(1) عبوة عصير سعتها 2.5 لتر، فإن سعتها بالمليتر ملل

(أ) 25 (ب) 250

(ج) 2,500 (د) 25,000

(2) $8.5 \div 100 = \dots\dots\dots$

(أ) 0.085 (ب) 8,500

(ج) 850 (د) 85

(3) 15.4 جم = كجم

(أ) 0.0154 (ب) 0.154

(ج) 154 (د) 1.540

(4) تقدير خارج قسمة $30.2 \div 2.8$ هو

(أ) 10 (ب) 8

(ج) 3 (د) 2

صل من العمود (أ) ما يناسبه من العمود (ب)

م	(أ)	(ب)
1	$7.2 \div 8 = \dots\dots\dots$	0.09 ()
2	$72 \div 8 = \dots\dots\dots$	0.9 ()
3	$0.72 \div 8 = \dots\dots\dots$	9 ()

أكمل ما يأتي:

(1) لدى تاجر 94.2 كجم من الفاكهة قام بتوزيعها بالتساوي

على 6 صناديق. ما كتلة الصندوق الواحد.

—

— جنيهاً

.....

.....

.....

.....

.....

.....

.....

.....

.....

.....

اختر الإجابة الصحيحة مما بين القوسين:

(1) $4.2 \div 7 = \dots\dots\dots$

(أ) 6 (ب) 60

(ج) 0.6 (د) 0.06

(2) 5 لترات = مل

(أ) 50 (ب) 500

(ج) 5,000 (د) 50,000

ضع علامة (✓) أمام العبارة الصحيحة وعبارة (X) أمام العبارة الخاطئة:

(1) قيمة X في المعادلة $3.2 + X = 4.6$ تساوي 1.4 ()

أوجد الناتج:

(1) $2,750 \div 5 = \dots\dots\dots$

(2) $81.6 \div 1.2 = \dots\dots\dots$

الوحدة السادسة الدرس (1) ترتيب إجراء العمليات الحسابية

ترتيب العمليات

- ① ما بين القوسين
- ② الضرب والقسمة (من اليسار إلى اليمين)
- ③ الجمع والطرح (من اليسار إلى اليمين)

أوجد الناتج : (ابدأ أولاً بمسائل الضرب والقسمة) حددها بأقواس

$$2 \times 4 + 5 \quad \textcircled{1}$$

$$(2 \times 4) + 5$$

$$\dots\dots\dots 13 = 8 + 5$$

$$3 \times 4 + 10 = \dots\dots\dots \textcircled{2}$$

—
—

$$4 + 2 \times 7 - 15 = \dots\dots\dots \textcircled{3}$$

—
—

$$15 \div 3 - 4 = \dots\dots\dots \textcircled{4}$$

—
—

$$18 \div 2 + 4 \times 10 = \dots\dots\dots \textcircled{4}$$

—
—

احسب قيمة كل من التعبيرات العددية الآتية:

$$\begin{array}{r} 145.42 \\ - 71.10 \\ \hline 74.32 \end{array}$$

$$145.42 - 7.11 \times 10 + 13.2$$

(1) نبدأ بالضرب أولاً.

(2) ثم الطرح من جهة اليسار. (3) ثم الجمع.

$$\begin{array}{r} 74.32 \\ + 13.20 \\ \hline 87.52 \end{array}$$

$$- 145.42 - 7.11 \times 10 + 13.2$$

$$- 145.42 - 71.1 + 13.2$$

$$- 74.32 + 13.2$$

$$- 87.52$$

احسب قيمة كل من التعبيرات العددية الآتية:

$$\begin{array}{r} \\ \\ \\ \\ \hline \end{array}$$

$$1,403.5 - 12.3 \div 0.01 + 9.8$$

(1) نبدأ بالقسمة أولاً.

(2) ثم الطرح من جهة اليسار. (3) ثم الجمع

$$\begin{array}{r} \\ \\ \\ \\ \hline \end{array}$$

$$\begin{array}{r} \\ \\ \\ \\ \hline \end{array}$$

$$\begin{array}{r} \\ \\ \\ \\ \hline \end{array}$$

$$\begin{array}{r} \\ \\ \\ \\ \hline \end{array}$$

$$- \dots$$

$$- \dots$$

$$- \dots$$

$$- \dots$$

احسب قيمة كل من التعبيرات العددية الآتية:

$$102.15 + 6 \div 1.2 - 34 \times 2.2$$

(1) نبدأ بالقسمة أولاً، ثم الضرب.

(2) ثم الجمع، وبعده الطرح.

$$- \dots$$

$$- \dots$$

$$- \dots$$

$$- \dots$$

الدرس (2) التعبيرات العددية التي تتضمن أقواساً

(1) مع وجود الأقواس نبدأ بما بين القوسين.

(2) إذا تعددت العمليات الحسابية بين القوسين نبدأ بـ:

– الضرب والقسمة من اليسار إلى اليمين.

– ثم الجمع والطرح من اليسار إلى اليمين.

.....
.....
.....
.....

–

احسب قيمة كل من التعبيرات العددية الآتية:

$$30 \times (2.5 + 47.18 - 3.12 \div 0.1)$$

(1) نبدأ بما بين القوسين القسمة ثم الجمع ثم الطرح.

(2) ثم الضرب $\times 30$

.....
.....
.....
.....

–

–

–

–

–

–

.....
.....
.....
.....

.....
.....
.....
.....

احسب قيمة كل من التعبيرات العددية الآتية:

$$45.84 + (13.05 \div 5 + 20.32 - 1.14) \times 2.1$$

(1) نبدأ بما بين القوسين القسمة ثم الجمع ثم الطرح.

(2) ثم خارج القوسين الضرب ثم الجمع.

.....
.....
.....
.....

–

–

–

–

–

.....
.....
.....
.....

ضع أقواسًا للحصول على القيمة المعطاة:

$$28 - 5 \times 4 \div 2 \quad (\text{القيمة } 18) \quad (1)$$

$$- \dots\dots\dots 28 - 5 \times (4 \div 2)$$

$$- \dots\dots\dots 28 - \underline{5 \times 2}$$

$$- \dots\dots\dots 28 - 10 = 18$$

$$28 - 5 \times 4 \div 2 \quad (\text{القيمة } 4) \quad (2)$$

$$- \dots\dots\dots$$

$$- \dots\dots\dots$$

$$- \dots\dots\dots$$

$$28 - 5 \times 4 \div 2 \quad (\text{القيمة } 46) \quad (3)$$

$$- \dots\dots\dots$$

$$- \dots\dots\dots$$

$$- \dots\dots\dots$$

$$6 - 5 \times 7 + 2 \quad (\text{القيمة } 9) \quad (4)$$

$$- \dots\dots\dots$$

$$- \dots\dots\dots$$

$$- \dots\dots\dots$$

$$2 \times 18 \div 9 + 9 \quad (\text{القيمة } 13) \quad (5)$$

$$- \dots\dots\dots$$

$$- \dots\dots\dots$$

$$- \dots\dots\dots$$

الدرس (3) كتابة تعبير عددي لتمثيل موقف ما

اكتب التعبير العددي، ثم أوجد قيمته:

(1) اقسـم 93 على 0.3 ثم اجمع 114.4 بعد ذلك، واقسم الناتج على 5

التعبير العددي هو: $(93 \div 0.3 + 114.4) \div 5$

$$(93 \div 0.3 + 114.4) \div 5$$

$$(3.1 + 114.4) \div 5$$

$$117.5 \div 5$$

$$23.5$$

اكتب التعبير العددي، ثم أوجد قيمته:

(1) اضرب 7.6 في 100 ثم اطرح 34.3 ثم اجمع 12.4 ، بعد ذلك اقسـم

الناتج على 0.1

التعبير العددي هو:

اكتب التعبير العددي، ثم أوجد قيمته:

(1) اجمع 30.4 و 8.7 و 17.5 ثم اطرح الناتج من 224.7 واضرب

الناتج في 100

التعبير العددي هو:

اختر الإجابة الصحيحة مما بين القوسين:

(1) $(6 - 5) \times 7 - 2 = \dots\dots\dots$

(أ) 6 (ب) 5

(ج) 7 (د) 2

(2) $4.1 + 62 \times 0.1 - 20.5 \div 5 = \dots\dots\dots$

(أ) 0.62 (ب) 60.2

(ج) 62 (د) 6.2

(3) $2.1 + 3.4 \times 6 - 5.02 = \dots\dots\dots$

(أ) 27.98 (ب) 17.48

(ج) 5.390 (د) 0.48

(4) قيمة التعبير العددي $35.2 \times 0.1 + 3.5$ هي $\dots\dots\dots$

(أ) 6.52 (ب) 355.5

(ج) 7.2 (د) 6.57

(5) $3.2 \div 0.1 - 12 = \dots\dots\dots$

(أ) 12 (ب) 20

(ج) 15 (د) 22

ضع علامة (✓) أمام العبارة الصحيحة وعبارة (X) أمام العبارة الخاطئة:

(2) $10 - 5 \times 2 + 2 = 2$ ()

أكمل ما يأتي:

(1) ضع أقواساً للحصول على القيمة المعطاة:

(القيمة 18) $28 - 5 \times 4 \div 2$

أكمل ما يأتي:

(1) اكتب التعبير العددي، ثم أوجد قيمته في كل مما يأتي:

- اضرب 8.2 في 10 ثم اطرح 34.9 ثم اجمع 16.3 ، اقسّم الناتج على 0.1

اختر الإجابة الصحيحة مما بين القوسين:

(1) طرح العدد 3.1 من العدد 4.62 ثم اضرب الناتج في 2 التعبير العددي هو.....

(أ) $(4.62 - 3.1) \times 2$ (ب) $2 \times 4.62 - 3.1$

(ج) $4.62 - 3.1 \times 2$ (د) $3.1 \times 2 - 4.62$

(2) $3.2 \div 0.1 - 12 = \dots\dots\dots$

(أ) 10 (ب) 30

(ج) 20 (د) 22

ضع علامة (✓) أمام العبارة الصحيحة وعبارة (X) أمام العبارة الخاطئة:

(1) أصغر عدد أولي فردي هي 3 ()

(2) لإيجاد قيمة التعبير العدد $12 + 33.2 \div 0.2 - 70.5$ نبدأ بعملية

الجمع أولاً. ()

صل من العمود (أ) ما يناسبه من العمود (ب)

م	(أ)	(ب)
1	$3.5 \times 10 - 2$	20 ()
2	$4.6 \div 0.1 + 4$	33 ()
3	$3.2 \div 0.1 - 12$	50 ()

ضع أقواسا للحصول على القيم المعطاة:

(1) (القيمة 11) $88 \div 11 - 7 + 4$

(2) (القيمة 9) $6 - 5 \times 7 + 2$

(3) (القيمة 4) $28 - 5 \times 4 \div 2$

الدرس (4) تحديد الأنماط العددية

- النمط البصري: تكرار أشكال أو رموز بنظام معين.
- النمط العددي: تتابع من الأعداد وفقاً لقاعدة معينة.

لاحظ النمط، ثم حدد القاعدة، وأكمّله:

- (1) (كل عدد مضروب $\times 2$) 80 40 ، 20 ، 10 ، 5 -
- (2) (يُجمع كل مرة 1.5 على) 7.5 6 ، 4.5 ، 3 ، 1.5 -
- (3) (يُطرح كل مرة 10 من العدد) 50 60 ، 70 ، 80 ، 90 -
- (4) (حاصل جمع آخر رقمين) 3 2 ، 1 ، 1 ، 0 -
- (5) (يُجمع 11 على كل عدد) 55 44 ، 33 ، 22 ، 11 -

لاحظ النمط، ثم حدد القاعدة، وأكمّله:

- (1) (.....) 7 ، 5 ، 3 ، 1 -
- (2) (.....) 6 ، 8 ، 10 ، 12 -
- (3) (.....) 2 ، 1 ، 1 ، 0 -
- (4) (.....) 3 ، 6 ، 9 ، 12 -
- (5) (.....) 2 ، 1.5 ، 1 ، 0.5 -

لاحظ كل جدول وحدد القاعدة واكتب متغيراً للقاعدة

المخرج	المدخل
1	7
2	14
3	21
4	28

المخرج	المدخل
2	10
4	20
6	30
8	40

- كل عدد مقسوم $\div 5$ (n تمثل العدد) - كل عدد مقسوم $\div 7$ (n تمثل العدد)
- القاعدة ($n \div 5$) القاعدة (..... \div )

لاحظ كل جدول وحدد القاعدة واكتب متغيراً للقاعدة

المدخل	المخرج
1	3
2	6
3	9
4	12

المدخل	المخرج
3	5
4	6
5	7
6	8

كل عدد -

كل عدد -

القاعدة ()

القاعدة ()

أكمل النمط واكتب القاعدة:

المدخل	المخرج
3	1.5
4	2
5	2.5
6	3
.....

المدخل	المخرج
8	5
10	7
12	9
14	11
.....

القاعدة ()

القاعدة ()

اختر الإجابة الصحيحة مما بين القوسين:

(1) قاعدة النمط ، 8 ، 4 ، 2 ، 1

(ب) $n + 2$

(أ) $n \times 2$

(د) $n - 2$

(ج) $n \div 2$

(2) النمط البصري التالي هي ، ■●●● ، ■●● ، ■● ، ■●

(ب) ■●●●●

(أ) ■●■●

(د) ● ■●●

(ج) ■●●■

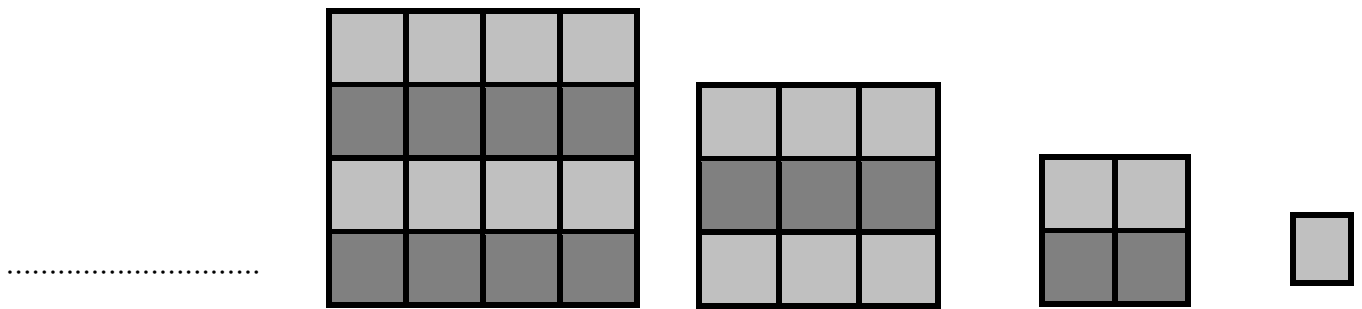
جدول وحدد القاعدة، ثم أكمل واكتب متغيرًا للقاعدة

المدخل	المخرج
1	4
3	6
5	8
.....	10

المدخل	المخرج
1	1
2	4
3	9
4

القاعدة (.....) القاعدة (.....)

انظر إلى النمط البصري، ثم حدد عدد المربعات في المرحلة الخامسة:



(5) (4) (3) (2) (1)

- التعبير عن النمط البصري السابق بالنمط العددي ، 16 ، 9 ، 4 ، 1

- إذا عدد المربعات في المرحلة الخامسة = مربعًا

اكتب أول خمسة أعداد في النمط الذي عدد بدايته 2 وقاعدته $(n + 3)$

- العدد الأول هو 2

- العدد الثاني هو 5 لأن: $(2 + 3) = 5$

- العدد الثالث هو 8 لأن: $(5 + 3) = 8$

- العدد الرابع هو 11 لأن: $(8 + 3) = 11$

- العدد الخامس هو 14 لأن: $(11 + 3) = 14$

لاحظ الأنماط وأكمل كل نمط بما يناسبه:

(1) 11 ، 22 ، 33 ، 44 ،

(2) 10 ، 20 ، 30 ، 40 ،

(3) 18 ، 15 ، 12 ، 9 ،

(4) 11 ، 22 ، 33 ، 44 ،

(5) 13 ، 17 ، 21 ، 25 ،

(6) 5 ، 10 ، 15 ، 20 ،

(7) 7 ، 14 ، 21 ، 28 ،

(8) 0.5 ، 1 ، 1.5 ، 2 ،

(9) 1.3 ، 1.6 ، 1.9 ، 2.2 ،

لاحظ كل جدول وحدد القاعدة، ثم أكمل واكتب متغيراً للقاعدة

المخرج	المدخل
1	4
3	6
5	8
.....	10

المخرج	المدخل
20	5
24	6
28	7
.....	8

القاعدة (.....)

القاعدة (.....)

عدد البداية: 2 والقاعدة هي $(n + 3)$

النمط هو ، ، ، →

اختر الإجابة الصحيحة مما بين القوسين:

(1) قاعدة النمط: 9 ، 5 ، 3 ، 2 هي

(أ) $(n \times 2)$ (ب) $(n \times 2) - 1$

(ج) $(n \times 2) + 1$ (د) $(n \div 2)$

(2) المرحلة الثالثة في النمط الذي قاعدته $(n - 2)$ وعدد بدايته 15 هي

(أ) 13 (ب) 11

(ج) 9 (د) 7

(2) العدد التالي في النمط ، 8 ، 5 ، 3 ، 2 ، 1 ، 1 هي

(أ) 11 (ب) 13

(ج) 139 (د) 14

ضع علامة (✓) أمام العبارة الصحيحة وعبارة (X) أمام العبارة الخاطئة:

(1) قاعدة النمط: ، 15 ، 10 ، 5 هي $(n + 2)$ ()

(2) قاعدة النمط: ، 9 ، 5 ، 1 هي $(n + 4)$ ()

صل من العمود (أ) النمط الذي يناسبه من العمود (ب)

م	(أ)	(ب)
1 ، 15 ، 10 ، 5	() 7.5
2 ، 9 ، 6 ، 3	() 20
3 ، 6 ، 4.5 ، 3	() 12

أكمل ما يأتي:

(1) المرحلة الخامسة في النمط: 15 ، 10 ، 5 هي

(2) قاعدة النمط: 9 ، 5 ، 3 ، 2 هي

اختر الإجابة الصحيحة مما بين القوسين:

(1) إذا كان المدخل 0.6 والمخرج 6 فإن القاعدة هي

(أ) $n \times 10$ (ب) $n + 10$

(ج) $n \div 10$ (د) $n - 10$

(1) إذا كان المدخل 14 والمخرج 7 فإن القاعدة هي

(أ) $n \times 2$ (ب) $n + 2$

(ج) $n \div 2$ (د) $n - 2$

(1) قاعدة النمط ، 8 ، 6 ، 4 ، 2 هي

(أ) $n \times 3$ (ب) $n + 2$

(ج) $n \div 2$ (د) $n - 4$

ضع علامة (✓) أمام العبارة الصحيحة وعبارة (X) أمام العبارة الخاطئة:

(1) قاعدة النمط: ، 9 ، 6 ، 3 هي $(n + 2)$ ()

(2) قاعدة النمط: ، 9 ، 5 ، 1 هي $(n + 4)$ ()

صل من العمود (أ) ما يناسبه من العمود (ب)

م	(أ)	(ب)
1	قاعدة النمط ، 8 ، 5 ، 2 هي	8 ()
2	العدد التالي في النمط ، 6 ، 4 ، 2	$n \div 2$ ()
3	قاعدة النمط ، 5 ، 10 ، 20 هي	$n + 3$ ()

اقرأ، ثم أجب:

(1) أوجد أول 5 أعداد من النمط الذي عدد بدايته 2 وقاعدته $n + 7$

- ، ، ، ،

(مراجعة)

اختر الإجابة الصحيحة:

- (1) القيمة المكانية للرقم 5 في العدد العشري 3.65 هي
 (أ) جزء من عشرة
 (ب) آحاد
 (ج) جزء من مائة
 (د) عشرات
- (2) الرقم الموجود في خانة جزء من عشرة في العدد 3.51 هو
 (أ) 2
 (ب) 4
 (ج) 3
 (د) 5
- (3) إذا قسم العدد 236 على 10 فإن قيمة الرقم 3 تصبح
 (أ) 3
 (ب) 30
 (ج) 300
 (د) 0.3
- (4) القيمة المكانية للرقم 3 في العدد 2.453 هي
 (أ) جزء من عشرة.
 (ب) جزء من مائة.
 (ج) جزء من ألف.
 (د) ملايين
- (5) عند ضرب 35 × 10 فإن قيمة الرقم 3 ستساوي
 (أ) 300
 (ب) 0.03
 (ج) 3
 (د) 30
- (6) أي الأعداد الآتية تكون فيها قيمة الرقم 7 فيها تساوي 0.7
 (أ) 7.231
 (ب) 6.271
 (ج) 9.237
 (د) 3.731
- (7) إذا ضرب العدد 235 في 10 فإن قيمة الرقم 3 تصبح
 (أ) 3
 (ب) 30
 (ج) 300
 (د) 0.3
- (8) قيمة الرقم 2 في العدد 0.25 تساوي
 (أ) 20
 (ب) 2
 (ج) 0.2
 (د) 0.02
- (9) 540 = 5.4 ×
 (أ) 10
 (ب) 100
 (ج) 1,000
 (د) 10,000

(10) عند ضرب العدد 10 في العدد 6.3 فإن قيمة الرقم 6 تصبح

- (أ) 6
(ب) 60
(ج) 600
(د) 6,000

(11) القيمة المكانية للرقم 5 في العدد 4.567

- (أ) جزء من عشرة
(ب) آحاد
(ج) جزء من مائة
(د) عشرات

(12) الرقم الموجود في خانة جزء من عشرة لوزن طائر البلشون 1.27 كجم

- (أ) 2
(ب) 7
(ج) 1
(د) غير ذلك

(13) = 10 × 6.5

- (أ) 65
(ب) 650
(ج) 6,500
(د) 0.65

أكمل ما يأتي:

(1) 5 أجزاء من ألف، و 73 جزء من مائة = جزء من ألف.

(2) حلل العدد 8.235 بالصيغة الممتدة

(1) قيمة الرقم 3 في العدد 5.03 تساوي

(2) اكتب بالصيغة القياسية: سبعة وثلاثون جزءًا من ألف

(3) \approx 534.47 (لأقرب جزء من عشرة)

اختر الإجابة الصحيحة:

(1) الصيغة اللفظية للكسر العشري 0.9 هي

- (أ) تسعة أجزاء من عشرة
(ب) تسعة
(ج) تسعة أجزاء من مائة
(د) تسعون

(2) الرقم الموجود في خانة جزء من عشرة في العدد العشري 3.51 هو

- (أ) 2
(ب) 4
(ج) 3
(د) 5

(3) مائة وخمسة وعشرون جزءًا من ألف

(أ) 125,000 (ب) 0.125

(ج) 1.25 (د) 12.5

(4) 3 أجزاء من عشرة، و 6 أجزاء من مائة، و 5 أجزاء من ألف.

(أ) 0.563 (ب) 365

(ج) 0.365 (د) 3.56

(6) 25 جزء من مائة و 6 أجزاء من ألف =

(أ) 0.256 (ب) 0.0256

(ج) 0.625 (د) 6.25

(7) 0.25 أكبر من

(أ) 0.225 (ب) 0.250

(ج) 0.5 (د) 0.30

(8) الكسران العشريان المتساويان هما:

(أ) $0.50 - 0.05$ (ب) $0.50 - 0.5$

(ج) $0.521 - 0.125$ (د) $0.305 - 0.503$

(3) $5.2925 \approx$ (لأقرب جزء من ألف)

اختر الإجابة الصحيحة:

(1) $2.231 \approx 2.23$ مقرب لأقرب

(أ) وحدة	(ب) جزء من عشرة
(ج) جزء من مائة	(د) جزء من ألف

(2) $76.231 \approx 76$ مقرب لأقرب

(أ) وحدة	(ب) جزء من عشرة
(ج) جزء من مائة	(د) جزء من ألف

(3) طريق طوله 25.73 كم قرب الطول لأقرب عدد صحيح = كم

27	(ب)	25	(أ)
23	(د)	26	(ج)

(4) القيمة المكانية للرقم 7 في العدد 61.672 هو

جزء من مائة	(ب)	جزء من عشرة	(أ)
عشرات	(د)	جزء من ألف	(ج)

(5) 0.89 = لأقرب عدد صحيح

2	(ب)	1	(أ)
4	(د)	3	(ج)

أكمل ما يأتي:

(1) قيمة الرقم 3 في العدد 5.03 تساوي

(2) اكتب بالصيغة القياسية: سبعة وثلاثون جزءًا من ألف

(3) = 534.47 (لأقرب جزء من عشرة)

اختر الإجابة الصحيحة: (استخدم الطريقة الرأسية في الجمع)

(1) العدد الذي له قيمة مميزة للكسر العشري 0.9 هو

أ- الصفر ب- 1

ج- 0.5 د- 2

(2) ناتج جمع: = 7.56 + 3.35

أ- 10.12 ب- 10.91

ج- 10.19 د- 10.11

اجمع:

.....
.....
.....

اختر الإجابة الصحيحة مما بين القوسين:

.....

.....

.....

$57 + 0.235$ (1)

57.325 (ب) 57.253 (أ)

57.235 (د) 258.57 (ج)

$2.6 - 0.95 =$ (3)

3.55 (ب) 1.65 (أ)

61.5 (د) 0.65 (ج)

أوجد الناتج:

(1) مع بسمة 12.25 جنيها، ومع أخيها باسم 15.75 جنيها، أوجد مجموع ما

مع الاثنين.

.....

.....

.....

مجموع ما معهما =

(2) تتناول أسرة أحمد 5.25 لترا من الماء كل يوم، وتتناول أسرة باسم 3.15 لترا

يوميًا، أوجد الفرق بين الأسرتين.

.....

.....

.....

الفرق =

أكمل ما يأتي:

(1) المتغير في المعادلة $8.23 + P = 10.24$ هو

(2) قيمة X في المعادلة $X + 3.45 = 4.68$ هي

(3) جملة رياضية تحتوي على علامة يساوي (=)

(4) إذا كان $45 \div m = 9$ فإن قيمة m =

اختر الإجابة الصحيحة مما بين القوسين:

(1) لإيجاد قيمة W في المعادلة $10 - W = 6.7$ نقوم بعملية

(أ) طرح (ب) جمع

(ج) ضرب (د) قسمة

(2) المتغير في المعادلة $S - 3.4 = 5.7$

(أ) 5.7 (ب) =

(ج) 3.4 (د) S

(3) $h - 6.72 = 1.23$ فإن قيمة h =

(أ) 5.49 (ب) 7.95

(ج) 0.6 (د) 5.23

(4) المتغير في المعادلة $x + 11 = 21.3$ هو

(أ) 21.3 (ب) x

(ج) 11 (د) +

(5) قيمة المتغير x في المعادلة $x + 5 = 6.4$ هو

(أ) 1.4 (ب) 11.4

(ج) 5 (د) 6.2

(6) قيمة المتغير m في المعادلة $m + 3.5 = 8$ هي

(أ) 3.5 (ب) 5.4

(ج) 4.5 (د) 65.5

أكمل ما يأتي:

(1) القيمة المكانية للرقم 6 في العدد 0.265 هي

(2) سبعة وثلاثون جزءاً من مائة بالصيغة القياسية =

(3) العدد 35.68 \approx لأقرب عدد صحيح.

(4) العدد 35.67 \approx لأقرب جزء من عشرة.

ضع خطأ تحت الإجابة الصحيحة مما بين القوسين

- (1) أي من الأعداد الآتية عدد أولي
- | | | | |
|----|-----|----|-----|
| 50 | (ب) | 1 | (أ) |
| 11 | (د) | 14 | (ج) |

- (2) كل الأعداد الأولية فردية ما عدا
- | | | | |
|----|-----|---|-----|
| 2 | (ب) | 1 | (أ) |
| 10 | (د) | 4 | (ج) |

السؤال الثاني: ضع علامة (✓) أو علامة (×)

- (1) العامل المشترك لجميع الأعداد هو 1 ()
- (2) الأعداد الأولية لها عاملان فقط. ()

اكتب جميع عوامل العدد 20 ثم حدد هل العدد (20) أولي أم غير أولي

.....

.....

.....

.....

اختر الإجابة الصحيحة مما بين القوسين:

- (1) كل الأعداد الآتية ليست أعداد أولية ما عدا
- | | | | |
|----|-----|----|-----|
| 1 | (ب) | 15 | (أ) |
| 12 | (د) | 7 | (ج) |
- (2) العامل المشترك لجميع الأعداد هو
- | | | | |
|---|-----|---|-----|
| 2 | (ب) | 0 | (أ) |
| 3 | (د) | 1 | (ج) |

اختر الإجابة الصحيحة مما بين القوسين:

(1) العددان (2 ، 3) عاملان للعدد

(أ) 10 (ب) 8

(ج) 6 (د) 9

(2) (ع.م.أ.) للعددين 6 ، 9 هو

(أ) 2 (ب) 3

(ج) 4 (د) 5

(3) العوامل الأولية للعدد 12 هي

(أ) 3 ، 2 ، 2 (ب) 2 ، 3 ، 3

(ج) 6 ، 2 (د) 4 ، 3

(4) العوامل الأولية للعدد 27 هي

(أ) $2 \times 2 \times 5$ (ب) $3 \times 3 \times 3$

(ج) $2 \times 2 \times 2$ (د) $2 \times 3 \times 2$

أكمل ما يأتي:

(1) العامل المشترك لجميع الأعداد هو

(2) أصغر عدد أولي هو

(3) العدد الذي عوامله الأولية (2 ، 2 ، 3) هو

(4) العدد الذي عوامله الأولية (2 ، 2 ، 5) هو

(5) العامل المشترك الأكبر للعددين 8 ، 12 هو

-

ضع خطاً تحت الإجابة الصحيحة مما بين القوسين

(1) (م. م. أ.) للعددين 3 ، 5 هو

(أ) 10 (ب) 15

(ج) 21 (د) 18

(2) العدد 24 من مضاعفات العدد

(أ) 8 (ب) 7

(ج) 5 (د) 9

أكمل ما يلي

(1) أصغر عدد أولي فردي هو

(2) من مضاعفات الرقم 5 ،

(3) العامل المشترك الأصغر لجميع الأعداد هو

أوجد العامل المشترك الأكبر (ع. م. أ.) للعددين 30 ، 45

اختر الإجابة الصحيحة مما بين القوسين:

(1) م. م. أ. للعددين 5 ، 7 هو

(أ) 5 (ب) 35

(ج) 7 (د) 2

(2) م. م. أ. للعددين 5 ، 10 هو

(أ) 5 (ب) 10

(ج) 15 (د) 20

أوجد (م . م . أ) للعددين 12 ، 10

اختر الإجابة الصحيحة مما بين القوسين:

- (1) أصغر عدد أولي هو
- (أ) 1 (ب) 2 (ج) 3 (د) 5
- (2) العامل المشترك لجميع الأعداد هو
- (أ) 1 (ب) 2 (ج) 3 (د) 5
- (3) العددان 3 ، 5 من عوامل العدد
- (أ) 10 (ب) 12 (ج) 15 (د) 20
- (4) (ع . م . أ.) للعددين (4 ، 8)
- (أ) 2 (ب) 4 (ج) 5 (د) 8
- (5) $3 \times 1,000 =$
- (أ) 30 (ب) 300 (ج) 3,000 (د) 30,000
- (6) 5 لتر = مثل
- (أ) 50 (ب) 500 (ج) 5,000 (د) 50,000

(7) عدد نواتج ضرب 37×24

(أ) 2 (ب) 3

(ج) 4 (د) 5

(8) 1.25 كجم = جم

(أ) 125 (ب) 12.5

(ج) 1,250 (د) 0.125

(9) $5.2 \times 100 =$

(أ) 52 (ب) 0.52

(ج) 520 (د) 5,200

(10) 1 سم = متر

(أ) 0.1 (ب) 100

(ج) 10 (د) 0.01

(11) تقدير ضرب 12×29 باستخدام أول رقم من اليسار هو

(أ) 2 (ب) 10

(ج) 200 (د) 1,000

السؤال الثاني: أكمل

(1) $1,000 \times$ = 7,000

(2) $7,341 \times$ = 73,410

(3) 7 كجم = جم

(3) النموذج المقابل يمثل حاصل ضرب

..... \times

20

7

50	3
1,000	60
350	50

اقرأ ثم أجب:

(1) يجري كريم مسافة 5 كم يوميًا.. ما المسافة التي يجريها بالمتري؟

(2) مدرسة بها 10 فصول، كل فصل به 45 تلميذًا. كم عدد تلاميذ المدرسة؟

اختر الإجابة الصحيحة مما بين القوسين:

×
×
+
+
×
×
+
+

$25 \times \dots = 2500$ (1)

(أ) 10 (ب) 100

(ج) 1,000 (د) 10,000

$21 \times 30 = \dots$ (2)

(أ) 630 (ب) 51

(ج) 360 (د) 63

$14 \times 11 = \dots$ (3)

(أ) 145 (ب) 150

(ج) 154 (د) 140

(4) يعمل وائل في محل للبقلاوة، ويستخدم 170 جم من المكسرات، فإذا زاد عدد العملاء واحتاج لضرب مقادير الوصفة في 18، ما عدد الجرامات التي يحتاجها.

(أ) 3,060 (ب) 6.030

(ج) 188 (د) 170

اقرأ، ثم أجب:

(1) مدرسة بها 23 فصلا، في كل فصل 60 طالبًا

ما العدد الكلي لطلاب المدرسة؟

.....

(2) ينفق باسم 235 جنيها في الأسبوع.

ما المبلغ الذي ينفقه في 10 أسبوعًا؟

.....

اختر الإجابة الصحيحة مما بين القوسين:

×	30	6
20	600	120
5	150	30

(1) في نموذج المستطيل يكون ناتج الضرب

- (أ) 600 (ب) 900
(ج) 700 (د) 500

.....	×
.....	
.....	+
.....	

(2) اشترت تاجر 625 قلمًا سعر القلم 4 جنيهات، ما يدفعه =

- (أ) 1,500 (ب) 2,500
(ج) 6,500 (د) 3,200

اختر الإجابة الصحيحة مما بين القوسين:

(1) (والباقي 4) $50 = 5 \div 254$ المقسوم في المسألة هو

- (أ) 4 (ب) 5
(ج) 50 (د) 254

(2) العدد الناقص المخطط الشريطي $4 = 3 \div 12$

.....
4	4	4

- (أ) 3 (ب) 4
(ج) 12 (د) 36

أكمل ما يأتي:

(1) $4,500 \div 100 = \dots\dots\dots$

(2) عوامل العدد 21 هي ، ، ،

(3) $1,500 \div 15 = \dots\dots\dots$

اقرأ، ثم أوجد الناتج:

(1) إذا كان ثمن 9 كتب هو 45 جنية، فإن ثمن الكتاب الواحد = جنية.

(1) وزعت أب 25 جنيها على 3 من أبنائه. كم يكون نصيب كل ابن؟ وكم الباقي؟

– نصيب الابن الواحد:

– الباقي:

اختر الإجابة الصحيحة:

(1) $33 \div 3 = \dots\dots\dots$

(أ) 3 (ب) 11 (ج) 6 (د) 22

(2) باقي قسمة $150 \div 12$ هو

(أ) 2 (ب) 3 (ج) 4 (د) 5

(3) $120 \div 4 = \dots\dots\dots$

(أ) 3 (ب) 30 (ج) 50 (د) 11

(4) $120 \div 5 = \dots\dots\dots$

(أ) 20 (ب) 24 (ج) 40 (د) 42

(5) $300 \div 5 = \dots\dots\dots$

(أ) 6 (ب) 15 (ج) 12 (د) 60

(6) $23 \div 3 = 7$ ، والباقي =

(أ) 1 (ب) 2 (ج) 3 (د) 4

(7) تقدير ناتج قسمة $9,420 \div 31$

(أ) 3 (ب) 30 (ج) 300 (د) 3,000

ضع خطاً تحت الإجابة الصحيحة مما بين القوسين

(1) إذا تم توزيع 37 برتقالة على 5 أطباق بالتساوي، فكم يتبقى من البرتقال؟

(أ) 5 (ب) 2

(ج) 7 (د) 0

(2) $6,524 \div 4 = \dots\dots\dots$

(أ) 1,631 (ب) 1,151

(ج) 1,361 (د) 1,631

أكمل ما يلي(1) $7,000 \div 7 = \dots\dots\dots$ أوجد

(1) إذا وضعنا 18 ثمرة برقوق في أكياس. وكان كل كيس يحتوي على 3 ثمرات.

فما عدد الأكياس؟

السؤال الأول: اختر الإجابة الصحيحة مما بين القوسين(2) $7 \times 100 = \dots\dots\dots$

(أ) 7 (ب) 700

(ج) 70 (د) 7.000

(2) تقدير ناتج ضرب 15.2×0.9 باستخدام أعداد لها قيمة مميزة هو

(أ) 15 (ب) 90

(ج) 16 (د) 150

(3) تقدير ناتج ضرب: 1.6×1.2

(أ) 4 (ب) 16

(ج) 2 (د) 12

(4) $25.5 \times 0.1 = \dots\dots\dots$

(أ) 0.255 (ب) 2.55

(ج) 255 (د) 25.5

$7.5 \times 100 = \dots\dots\dots$ (5)

0.75 (ب) 75 (أ)

0.075 (د) 750 (ج)

$6.5 \times \dots\dots\dots = 6,500$ (6)

1,000 (ب) 10 (أ)

10,000 (د) 100 (ج)

$3.615 \times 100 \dots\dots\dots 361.5 \times 10$ (7)

> (ب) < (أ)

غير ذلك (د) = (ج)

$7.6 \times \dots\dots\dots = 0.076$ (8)

0.1 (ب) 1 (أ)

0.001 (د) 0.01 (ج)

السؤال الثاني: أكمل

$43.5 \times 0.01 = \dots\dots\dots$ (1)

$2.5 \times 100 = \dots\dots\dots$ (2)

$0.2 \times 0.4 = \dots\dots\dots$ (3)

$5.4 \times 0.1 = \dots\dots\dots$ (4)

$\dots\dots\dots \text{متر} = 2.8 \text{ كم}$ (54)

السؤال الثالث: اقر، ثم أجب

(1) يركض باسم 0.75 كم كل يوم. ما المسافة التي يركضها في 100 يوم؟

– المسافة:

(2) مستطيل طوله 10 سم، وعرضه 5.35 سم. فإن مساحته = سم²

–

–

اختر الإجابة الصحيحة مما بين القوسين:

- (1) 645 متر = كم
 (أ) 6.45 (ب) 0.645
 (ج) 64.5 (د) 0.0645
- (2) تقدير خارج قسمة $3 \div 11.9$ هو
 (أ) 2 (ب) 3
 (ج) 4 (د) 5
- (3) $0.09 \times 0.1 =$
 (أ) 0.001 (ب) 0.009
 (ج) 0.09 (د) 9.0
- (4) 5 لترات = ملل
 (أ) 50 (ب) 500
 (ج) 5,000 (د) 50,000

اختر الإجابة الصحيحة مما بين القوسين:

- (1) $12.8 \div 0.01 =$
 (أ) 128 (ب) 128
 (ج) 1,280 (د) 0.128
- (2) 5,300 جم = كجم
 (أ) 5.3 (ب) 53
 (ج) 0.53 (د) 3.5

أكمل ما يأتي:

- (1) $9.18 \div 0.01 =$
- (2) $0.53 \div 0.01 =$
- (3) $8.8 \div 8 =$

اختر الإجابة الصحيحة مما بين القوسين:

(1) عبوة عصير سعتها 2.5 لتر، فإن سعتها بالمليتر ملل

(أ) 25 (ب) 250

(ج) 2,500 (د) 25,000

(2) $8.5 \div 100 = \dots\dots\dots$

(أ) 0.085 (ب) 8,500

(ج) 850 (د) 85

(3) 15.4 جم = كجم

(أ) 0.0154 (ب) 0.154

(ج) 154 (د) 1.540

(4) تقدير خارج قسمة $30.2 \div 2.8$ هو

(أ) 10 (ب) 8

(ج) 3 (د) 2

أكمل ما يأتي:

(1) لدى تاجر 94.2 كجم من الفاكهة قام بتوزيعها بالتساوي

على 6 صناديق. ما كتلة الصندوق الواحد.

-

اختر الإجابة الصحيحة مما بين القوسين:(1) $(6 - 5) \times 7 - 2 = \dots\dots\dots$

(أ) 6 (ب) 5

(ج) 7 (د) 2

(2) $4.1 + 62 \times 0.1 - 20.5 \div 5 = \dots\dots\dots$

(أ) 0.62 (ب) 60.2

(ج) 62 (د) 6.2

$$2.1 + 3.4 \times 6 - 5.02 = \dots\dots\dots (3)$$

17.48 (ب) 27.98 (أ)

0.48 (د) 5.390 (ج)

..... (4) قيمة التعبير العددي $35.2 \times 0.1 + 3.5$ هي

355.5 (ب) 6.52 (أ)

6.57 (د) 7.2 (ج)

$$3.2 \div 0.1 - 12 = \dots\dots\dots (5)$$

20 (ب) 12 (أ)

22 (د) 15 (ج)

ضع أقواسًا للحصول على القيمة المعطاة:

$$28 - 5 \times 4 \div 2 \quad (\text{القيمة } 18)$$

اختر الإجابة الصحيحة مما بين القوسين:

..... (1) قاعدة النمط: 2 ، 3 ، 5 ، 9 هي

(أ) $(n \times 2)$ (ب) $(n \times 2) - 1$

(ج) $(n \times 2) + 1$ (د) $(n \div 2)$

..... (2) المرحلة الثالثة في النمط الذي قاعدته $(n - 2)$ وعدد بدايته 15 هي

11 (ب) 13 (أ)

7 (د) 9 (ج)

..... (2) العدد التالي في النمط ، 8 ، 5 ، 3 ، 2 ، 1 ، 1 هي

13 (ب) 11 (أ)

14 (د) 139 (ج)

أكمل ما يأتي:

(1) المرحلة الخامسة في النمط: 5 ، 10 ، 15 هي

(2) قاعدة النمط: 2 ، 3 ، 5 ، 9 هي

اختر الإجابة الصحيحة مما بين القوسين:

(1) إذا كان المدخل 0.6 والمخرج 6 فإن القاعدة هي

(أ) $n \times 10$ (ب) $n + 10$

(ج) $n \div 10$ (د) $n - 10$

(1) إذا كان المدخل 14 والمخرج 7 فإن القاعدة هي

(أ) $n \times 2$ (ب) $n + 2$

(ج) $n \div 2$ (د) $n - 2$

(1) قاعدة النمط ، 8 ، 6 ، 4 ، 2 هي

(أ) $n \times 3$ (ب) $n + 2$

(ج) $n \div 2$ (د) $n - 4$

صل من العمود (أ) ما يناسبه من العمود (ب)

م	(أ)	(ب)
1	قاعدة النمط ، 8 ، 5 ، 2 هي	8 ()
2	العدد التالي في النمط ، 6 ، 4 ، 2	$n \div 2$ ()
3	قاعدة النمط ، 5 ، 10 ، 20 هي	$n + 3$ ()

اقرأ، ثم أجب:

(1) أوجد أول 5 أعداد من النمط الذي عدد بدايته 2 وقاعدته $n + 7$

..... ، ، ، ،

محافظة

امتحان رياضيات 2024

إدارة

(امتحان 1) الصف الخامس (نصف العام)

مدرسة

الزمن: ساعة ونصف

السؤال الأول: اختر الإجابة الصحيحة مما بين القوسين

(1) $3 \times 1000 = \dots\dots\dots$

(أ) 3,000 (ب) 30,000 (ج) 200 (د) 3

(2) 10 أمثال العدد 5 = $\dots\dots\dots$

(أ) 500 (ب) 50 (ج) 5,000 (د) 0.5

(3) المخطط التالي يمثل قسمة $\dots\dots\dots$

24			
6	6	6	6

(أ) $24 \div 4 = 6$ (ب) $24 \div 3 = 8$ (ج) $12 \div 3 = 4$ (د) $6 \div 2 = 3$

(4) العدد الذي إذا قسم على 100 يكون الناتج 45 هو

(أ) 450 (ب) 4.5 (ج) 45 (د) 4,500

(5) $180 \div 3 = \dots\dots\dots$

(أ) 6 (ب) 60 (ج) 150 (د) 600

(6) $550 \div 50 = \dots\dots\dots$

(أ) 11 (ب) 10 (ج) 100 (د) 1.1

(7) 1.25 كجم = $\dots\dots\dots$ جم

(أ) 125 (ب) 12.5 (ج) 1,250 (د) 0.125

السؤال الثاني: أكمل ما يأتي

(1) عند ضرب الرقم $\dots\dots\dots$ في 10,000 يكون الناتج 50,000(2) طريق طوله 8 كيلو متر، فإن طوله بالمترات = $\dots\dots\dots$ مترا

(3) $43.5 \times 0.1 = \dots\dots\dots$

(4) إذا كان $m = 9$ $45 \div m =$ فإن قيمة $m = \dots\dots\dots$ (5) المقسوم عليه في المسألة $350 \div 7 = 50$ هو $\dots\dots\dots$

(6) $215 \times 12 = \dots\dots\dots$

(7) $2.79 \approx \dots\dots\dots$ (لأقرب جزء من عشرة)

(8) $12 \times 15 = 12 \times (5 + \dots\dots\dots)$

السؤال الثالث: اختر الإجابة الصحيحة مما بين القوسين

- (1) 5 لتر = ملل
 (أ) 50 (ب) 500 (ج) 5,000 (د) 50.000
- (2) قيمة الرقم 2 في العدد 0.25 تساوي
 (أ) 20 (ب) 2 (ج) 0.2 (د) 0.02
- (3) ثلاثة، وأربعة أجزاء من عشرة تُكتب
 (أ) 3.4 (ب) 4.3 (ج) 34 (د) 3.04
- (4) $2.23 \approx 2.231$ مقرب لأقرب
 (أ) وحدة (ب) جزء من عشرة (ج) جزء من مائة (د) جزء من ألف
- (5) $2.6 - 0.95 =$
 (أ) 1.65 (ب) 3.55 (ج) 0.65 (د) 61.5
- (6) العوامل الأولية للعدد 27 هي
 (أ) $2 \times 2 \times 5$ (ب) $3 \times 3 \times 3$ (ج) $2 \times 2 \times 2$
- (7) $17 \times 61 = (1 \times 7) + (60 \times 7) + (60 \times 10) +$
 (أ) 6 (ب) (10×6) (ج) $(10 + 1)$ (د) 10

السؤال الرابع: أوجد الناتج

- (1) مدرسة بها 429 تلميذا موزعة بالتساوي على 13 فصلا. احسب عدد الفصل
 -
- (2) سيارة تحمل 95 كجم من الفاكهة، فإن كتلة الشاحنة بالجم
 -
- (3) يجري أحمد مسافة 2.35 كم كل يوم، ويجري صديقه سامح مسافة 3.27 كم
 أوجد مجموع المسافتين.
 -
- (4) باع تاجر 12 علبة ألوان في الأسبوع الأول، و 13 علبة في الأسبوع الثاني.
 فإذا كانت كل علبة بها 10 أقلام احسب عدد الأقلام التي باعها التاجر في
 الأسبوعين.
 -

محافظة	امتحان رياضيات 2024
إدارة	(امتحان 2) الصف الخامس (نصف العام)
مدرسة	الزمن: ساعة ونصف

السؤال الأول: اختر الإجابة الصحيحة مما بين القوسين

- (1) أصغر عدد أولي هو
 (أ) 1 (ب) 2 (ج) 3 (د) 5
- (2) الرقم الموجود في خانة جزء من عشرة في العدد 3.51 هو
 (أ) 2 (ب) 4 (ج) 3 (د) 5
- (3) $2.23 \approx 2.231$ مقرب لأقرب
 (أ) وحدة (ب) جزء من عشرة (ج) جزء من مائة (د) جزء من ألف
- (4) طريق طوله 25.73 كم قرب الطول لأقرب عدد صحيح \approx كم
 (أ) 23 (ب) 25 (ج) 27 (د) 26
- (5) قيمة الرقم 4 في العدد 5.234 هي
 (أ) 4 (ب) 0.004 (ج) 0.4 (د) 4,000
- (6) تقريب العدد 6.48 لأقرب جزء من عشرة يساوي 6.5
 (أ) وحدة (ب) جزء من عشرة (ج) جزء من مائة (د) جزء من ألف
- (7) $2.6 - 0.95 =$
 (أ) 1.65 (ب) 3.55 (ج) 0.65 (د) 61.5

السؤال الثاني: أكمل ما يأتي

- (1) $2.345 + 3.32 =$
- (2) $5.3 - 2.1 =$
- (3) اكتب بالأرقام: ثلاثة أجزاء من مائة
- (4) $5.2 \times 100 =$
- (5) $2.79 \approx$ (لأقرب عدد صحيح)
- (6) $3 + L = 8$ المتغير هو
- (7) من مضاعفات الرقم 5 ، ،
- (8) جملة رياضية تحتوي على علامة يساوي (=)

السؤال الثالث: اختر الإجابة الصحيحة مما بين القوسين

- (1) الصيغة اللفظية للكسر العشري 0.7 هي
 (أ) سبعة أجزاء من عشرة (ب) سبعة (ج) سبعة أجزاء من مائة
- (2) الرقم الموجود في خانة جزء من عشرة في العدد العشري 3.51 هو
 (أ) 2 (ب) 4 (ج) 3 (د) 5
- (3) ثلاثة، وأربعة أجزاء من عشرة تُكتب
 (أ) 3.4 (ب) 4.3 (ج) 34 (د) 3.04
- (4) $2.23 \approx 2.231$ مقرب لأقرب
 (أ) وحدة (ب) جزء من عشرة (ج) جزء من مائة (د) جزء من ألف
- (5) 4 أجزاء من عشرة + 27 جزء من مائة
 (أ) 0.427 (ب) 0.274 (ج) 0.724 (د) 0.247
- (6) العامل المشترك لجميع الأعداد هو
 (أ) 0 (ب) 2 (ج) 1 (د) 3
- (7) لإيجاد قيمة W في المعادلة $W = 6.7 - 10$ نقوم بعملية
 (أ) طرح (ب) جمع (ج) ضرب (د) قسمة

السؤال الرابع: أوجد الناتج

- (1) مع سامح 12.75 جنيها أعطاه والده 10.25 جنيها.
 ما مجموع ما معه.
 -
- (2) عبوة عصير سعتها 12 لترا . ما سعة العبوة بالمليترات؟
 -
- (3) اشترت سارة 25 كتابًا بثمن 3,375 جنيهاً. أوجد ثمن الكتاب الواحد إذا علمت أن الكتب من نفس النوع.
 -
- (4) البداية: 5 ، القاعدة: $n \times 2$

محافظة	امتحان رياضيات 2024
إدارة	(امتحان 3)
مدرسة	الصف الخامس (نصف العام) الزمن: ساعة ونصف

السؤال الأول: اختر الإجابة الصحيحة مما بين القوسين

- (1) القيمة المكانية للرقم 3 في العدد 2.453 هي
 (أ) جزء من عشرة. (ب) جزء من مائة. (ج) جزء من ألف (د) ملايين
- (2) أي الأعداد الآتية تكون فيها قيمة الرقم 7 فيها تساوي 0.7
 (أ) 7.231 (ب) 6.271 (ج) 9.237 (د) 3.731
- (3) $0.89 \approx$ لأقرب عدد صحيح
 (أ) 1 (ب) 2 (ج) 3 (د) 34
- (4) $76.231 \approx 76$ مقرب لأقرب
 (أ) وحدة (ب) جزء من عشرة (ج) جزء من مائة (د) جزء من ألف
- (5) أي الأعداد الآتية فيها قيمة 6 تساوي 0.6
 (أ) 6.234 (ب) 3.643 (ج) 4.236 (د) 5.462
- (6) العدد الذي له قيمة مميزة للكسر العشري 0.9 هو
 (أ) صفر (ب) 1 (ج) 0.5 (د) 2
- (7) المتغير في المعادلة $5.7 - 3.4 = S$
 (أ) 5.7 (ب) = (ج) 3.4 (د) S

السؤال الثاني: أكمل ما يأتي

- (1) $2.15 + 9.2 =$
- (2) $25.67 - 4.23 =$
- (3) المتغير في المعادلة $8.23 + P = 10.24$ هو
- (4) سبعة وثلاثون جزءاً من مائة بالصيغة القياسية =
- (5) المقسوم عليه في المسألة $350 \div 7 = 50$ هو
- (6) العدد الذي عوامله الأولية (5 ، 2 ، 2) هو
- (7) $192 \times 75 =$
- (8) أصغر عدد أولي فردي هو

السؤال الثالث: اختر الإجابة الصحيحة مما بين القوسين

- (1) الرقم الموجود في خانة جزء من عشرة في العدد العشري 3.51 هو
- (أ) 2 (ب) 4 (ج) 3 (د) 5
- (2) (ع.م.أ.) للعددين (4 ، 8)
- (أ) 2 (ب) 4 (ج) 5 (د) 8
- (3) ثلاثة، وأربعة أجزاء من عشرة تُكتب
- (أ) 3.4 (ب) 4.3 (ج) 34 (د) 3.04
- (4) $2.23 \approx 2.231$ مقرب لأقرب
- (أ) وحدة (ب) جزء من عشرة (ج) جزء من مائة (د) جزء من ألف
- (5) $2.6 - 0.95 =$
- (أ) 1.65 (ب) 3.55 (ج) 0.65 (د) 61.5
- (6) العددين (2 ، 3) عاملان للعدد
- (أ) 10 (ب) 8 (ج) 6 (د) 9
- (7) أي من الأعداد الآتية عدد أولي
- (أ) 1 (ب) 50 (ج) 14 (د) 11

السؤال الرابع: أوجد الناتج

- (1) مع كريم 35.75 جنيها، صرف منها 12.25. أوجد الباقي.
-
- (2) صندوق من المانجو كتلته 7 كجم. فما كتلة 1,000 .
-
- (3) يجري أحمد مسافة 2.35 كم كل يوم، ويجري صديقه سامح مسافة 3.27 كم أوجد مجموع المسافتين.
-
- (4) يجري أحمد مسافة 2.35 كم كل يوم، ويجري صديقه سامح مسافة 3.27 كم أوجد مجموع المسافتين.
-
-

محافظة	امتحان رياضيات 2024
إدارة	(امتحان 4)
مدرسة	الصف الخامس (نصف العام) الزمن: ساعة ونصف

السؤال الأول: اختر الإجابة الصحيحة مما بين القوسين

- (1) قيمة الرقم 2 في العدد 0.25 تساوي
 (أ) 20 (ب) 2 (ج) 0.2 (د) 0.02
- (2) القيمة المكانية للرقم 6 في الكسر العشري 0.26 هي
 (أ) جزء من عشرة (ب) جزء من مائة (ج) آحاد (د) عشرات
- (3) $0.75 \approx$ لأقرب جزء من عشرة
 (أ) 0.7 (ب) 0.8 (ج) 70 (د) 80
- (4) $3.025 = 3 + 0.02 +$
 (أ) 0.005 (ب) 0.5 (ج) 0.05 (د) 50
- (5) $180 \div 3 =$
 (أ) 6 (ب) 60 (ج) 150 (د) 600
- (6) $550 \div 50 =$
 (أ) 11 (ب) 10 (ج) 100 (د) 1.1
- (7) $0.2 \times 0.2 =$
 (أ) 4 (ب) 0.4 (ج) 0.04 (د) 40

السؤال الثاني: أكمل ما يأتي

- (1) $1.637 + 4.345 =$
- (2) $35.45 - 12.09 =$
- (3) العامل المشترك الأصغر لجميع الأعداد هو
- (4) العدد الذي عوامله الأولية (2 ، 2 ، 3) هو
- (5) المقسوم عليه في المسألة $350 \div 7 = 50$ هو
- (6) العدد $35.67 \approx$ لأقرب جزء من عشرة.
- (7) $4.1 + 62 \times 0.1 - 20.5 \div 5 =$
- (8) 5 كجم = جم

السؤال الثالث: اختر الإجابة الصحيحة مما بين القوسين

- (1) مائة وخمسة وعشرون جزءًا من ألف
 (أ) 125,000 (ب) 0.125 (ج) 1.25 (د) 12.5
- (2) ثلاثة، وأربعة أجزاء من عشرة تُكتب
 (أ) 3.4 (ب) 4.3 (ج) 34 (د) 3.04
- (3) ثلاثة، وأربعة أجزاء من عشرة تُكتب
 (أ) 3.4 (ب) 4.3 (ج) 34 (د) 3.04
- (4) $2.23 \approx 2.231$ مقرب لأقرب
 (أ) وحدة (ب) جزء من عشرة (ج) جزء من مائة (د) جزء من ألف
- (5) $2.6 - 0.95 = \dots\dots\dots$
 (أ) 1.65 (ب) 3.55 (ج) 0.65 (د) 61.5
- (6) (ع. م. أ.) للعددين 6 ، 9 هو
 (أ) 2 (ب) 3 (ج) 4 (د) 5
- (7) $3.94 \approx \dots\dots\dots$ (لأقرب عدد صحيح)
 (أ) 4 (ب) 9 (ج) 5 (د) 3

السؤال الرابع: أوجد الناتج

- (1) اشترت أسرة سامح 7.5 لترات من الماء، شربت منه 2.5 لترا . أوجد الباقي
 -
- (2) تجري سلمى 3 كم كل يوم، ما طول المسافة بالمترا؟
 -
- (3) أوجد (ع . م . أ) للعددين 15 ، 30

- (4) طريق طوله 35.75 كم، قامت الدولة بتشجير مسافة 12.25 كم من الطريق أوجد المسافة المتبقية.
 -

محافظة	امتحان رياضيات 2024
إدارة	(امتحان 5)
مدرسة	الصف الخامس (نصف العام) الزمن: ساعة ونصف

السؤال الأول: اختر الإجابة الصحيحة مما بين القوسين

- (1) القيمة المكانية للرقم 5 في العدد 34.651 هي
 (أ) جزء من عشرة (ب) جزء من مائة (ج) جزء من ألف (د) عشرات
- (2) $5,000 = 5 \times \dots$
 (أ) 10 (ب) 100 (ج) 1,000 (د) 10,000
- (3) قيمة المتغير X في المعادلة $6 = X - 3.5$ هي
 (أ) 2.5 (ب) 9.5 (ج) 18.5 (د) 3.2
- (4) $15.18 \approx \dots$ (لأقرب عدد صحيح)
 (أ) 16 (ب) 191 (ج) 20 (د) 15
- (5) $7200 \div 9 = \dots$
 (أ) 8 (ب) 80 (ج) 800 (د) 8,000
- (6) أصغر عدد أولي فردي هو
 (أ) 1 (ب) 2 (ج) 3 (د) 0
- (7) القسوم عليه في هو $2,870 \div 7 = 410$
 (أ) 2,870 (ب) 7 (ج) 410 (د) غير ذلك

السؤال الثاني: أكمل ما يأتي

- (1) $1.342 + 5.31 = \dots$
- (2) العدد الذي عوامله الأولية (2 ، 3 ، 3) هو
- (3) 25 لتر = ملل
- (4) ع . م . أ للعددين 9 ، 6 هو
- (5) ناتج ضرب $3.3 \times 3.65 = \dots$
- (6) ناتج قسمة $3.127 \div 100 = \dots$
- (7) خارج قسمة $5.55 \div 5 = \dots$
- (8) $25.56 \approx \dots$ (لأقرب جزء من عشرة)

سؤال الثالث: اختر الإجابة الصحيحة مما بين القوسين

- (1) العدد 18 عوامل الأولية هي
 (أ) 9×2 (ب) $3 \times 3 \times 2$ (ج) $2 \times 2 \times 2$ (د) $3 \times 2 \times 2$
- (2) ثمانية، وسبعة وعشرون جزءاً من مائة
 (أ) 8.27 (ب) 27.8 (ج) 2.78 (د) 82.7
- (3) اختر العدد التالي في هذا النمط ، 8 ، 5 ، 3 ، 2
 (أ) 10 (ب) 11 (ج) 13 (د) 12
- (4) من الأعداد الأولية
 (أ) 1 (ب) 6 (ج) 12 (د) 7
- (5) $7.45 \times 1,000 =$
 (أ) 745 (ب) 7,450 (ج) 74,500 (د) 0.745
- (6) 0.75 كجم = جرام
 (أ) 7.5 (ب) 75 (ج) 750 (د) 7,500
- (7) 3.2 لتر = مل
 (أ) 32 (ب) 320 (ج) 3,200 (د) 0.032

السؤال الرابع: أوجد الناتج

- (1) اشترى أحمد 7 أقلام من نفس النوع سعر القلم 3.5 جنيته.
 ما المبلغ الكلي الذي سيدفعه أحمد؟
-
-

- (2) أوجد م . م . أ للعددين 12 ، 8 .
-
-

- (3) البداية: 3 ، القاعدة: $n + 2$
-
-

- (4) يريد معلم توزيع 240 جائزة على 6 فصول بالتساوي فكم عدد الجوائز لكل فصل؟
-
-

محافظة

امتحان رياضيات 2024

إدارة

الصف الخامس (نصف العام)

(امتحان 6)

مدرسة

الزمن: ساعة ونصف

(من نماذج الوزارة)

السؤال الأول: اختر الإجابة الصحيحة مما بين القوسين

- (1) قيمة الرقم 4 في العدد 3.514 هي
 (أ) 40,000 (ب) 400 (ج) 0.4 (د) 0.004
- (2) قيمة المتغير X في المعادلة $X + 3.5 = 8$ هي
 (أ) 3.5 (ب) 5.4 (ج) 4.5 (د) 5.5
- (3) جميع الأعداد الآتية أولية ما عدا
 (أ) 2 (ب) 5 (ج) 7 (د) 9
- (4) يعتبر العدد هو العامل المشترك لكل الأعداد.
 (أ) 0 (ب) 1 (ج) 2 (د) 3
- (5) $18.58 \approx$ (لأقرب عدد صحيح)
 (أ) 59 (ب) 19 (ج) 18 (د) 18.6
- (6) $20 + 0.07 + 0.008 =$
 (أ) 20.078 (ب) 20.78 (ج) 20.708 (د) 20.807
- (7) $85.3 \times \frac{1}{10} =$
 (أ) 853 (ب) 8.53 (ج) 0.853 (د) 85.03

السؤال الثاني: أكمل ما يأتي

- (1) 5 أجزاء من الألف + 73 جزءاً من مائة = جزءاً من ألف
- (2) العدد الذي عوامله الأولية (2 ، 2 ، 3) هو
- (3) 1,000 جرام = كجم.
- (4) ع . م . أ للعددين 8 ، 12 هو
- (5) ناتج ضرب $13.5 \times 2.2 =$
- (6) ناتج جمع $3.127 + 8.65 =$
- (7) خارج قسمة $6 \div 6.66 =$
- (8) كتابة العدد $3 + 0.2 + \frac{5}{100} + \frac{9}{1000}$ على الصورة القياسية =

السؤال الثالث: اختر الإجابة الصحيحة مما بين القوسين

(1) $(85 \times 4) + (85 \times 2) = \dots \times 85$

- (أ) 24 (ب) 42 (ج) 8 (د) 6

(2) خمسة، وسبعة وأربعون جزءاً من الألف

- (أ) 57.40 (ب) 5.740 (ج) 5.47 (د) 5.047

(3) من مضاعفات العدد 6

- (أ) 16 (ب) 26 (ج) 24 (د) 106

(4) العوامل الأولية للعدد 12 هي

- (أ) 3 ، 2 ، 2 (ب) 2 ، 3 ، 3 (ج) 6 ، 2 (د) 3 ، 4

(5) $\dots = \frac{357}{1000}$

- (أ) 3.75 (ب) 0.357 (ج) 357 (د) 3.57

(6) قيمة المتغير X في المعادلة $X - 2.5 = 4$ هي

- (أ) 5 (ب) 6.5 (ج) 5.6 (د) 5.15

(7) العدد غير الأولي من الأعداد الآتية هو

- (أ) 7 (ب) 13 (ج) 15 (د) 5

السؤال الرابع: أوجد الناتج

(1) اشترى أحمد 9 أقلام من نفس النوع سعر القلم 4.5 جنيته.

ما المبلغ الكلي الذي سيدفعه أحمد؟

(2) أوجد م . م . أ للعددين 10 ، 6 .

(3) حلل العدد 80.580 بالصيغة الممتدة.

(4) وزع معلم 280 جائزة على 7 فصول بالتساوي فكم عدد الجوائز لكل فصل؟